



Series **AQQPP/1**



SET ~ 1

रोल नं.

Roll No.

| | | | | | | | |
|--|--|--|--|--|--|--|--|
| | | | | | | | |
|--|--|--|--|--|--|--|--|

प्रश्न-पत्र कोड
Q.P. Code

32/1/1

परीक्षार्थी प्रश्न-पत्र कोड को उत्तर-पुस्तिका के मुख-पृष्ठ पर अवश्य लिखें ।

Candidates must write the Q.P. Code on the title page of the answer-book.

नोट / NOTE :

- (i) कृपया जाँच कर लें कि इस प्रश्न-पत्र में मुद्रित पृष्ठ **9 + 1** मानचित्र हैं ।
Please check that this question paper contains **9** printed pages +**1** Map.
- (ii) प्रश्न-पत्र में दाहिने हाथ की ओर दिए गए प्रश्न-पत्र कोड को परीक्षार्थी उत्तर-पुस्तिका के मुख-पृष्ठ पर लिखें ।
Q.P. Code given on the right hand side of the question paper should be written on the title page of the answer-book by the candidate.
- (iii) कृपया जाँच कर लें कि इस प्रश्न-पत्र में **13** प्रश्न हैं ।
Please check that this question paper contains **13** questions.
- (iv) कृपया प्रश्न का उत्तर लिखना शुरू करने से पहले, उत्तर-पुस्तिका में प्रश्न का क्रमांक अवश्य लिखें ।
Please write down the serial number of the question in the answer-book before attempting it.
- (v) इस प्रश्न-पत्र को पढ़ने के लिए 15 मिनट का समय दिया गया है । प्रश्न-पत्र का वितरण पूर्वाह्न में 10.15 बजे किया जाएगा । 10.15 बजे से 10.30 बजे तक छात्र केवल प्रश्न-पत्र को पढ़ेंगे और इस अवधि के दौरान वे उत्तर-पुस्तिका पर कोई उत्तर नहीं लिखेंगे ।
15 minute time has been allotted to read this question paper. The question paper will be distributed at 10.15 a.m. From 10.15 a.m. to 10.30 a.m., the students will read the question paper only and will not write any answer on the answer-book during this period.



सामाजिक विज्ञान
SOCIAL SCIENCE



निर्धारित समय : 2 घण्टे

Time allowed : 2 hours

अधिकतम अंक : 40

Maximum Marks : 40





सामान्य निर्देश:

निम्नलिखित निर्देशों को बहुत सावधानी से पढ़िए और उनका सख्ती से पालन कीजिए :

- (i) यह प्रश्न-पत्र पाँच खण्डों में विभाजित किया गया है – खण्ड क, ख, ग, घ और ङ । इस प्रश्न-पत्र में प्रश्नों की संख्या 13 है । सभी प्रश्न अनिवार्य हैं ।
- (ii) खण्ड क में प्रश्न संख्या 1 से 5 तक अति लघु-उत्तरीय प्रकार के प्रश्न हैं, प्रत्येक प्रश्न 2 अंकों का है । प्रत्येक प्रश्न का उत्तर 40 शब्दों से अधिक नहीं होना चाहिए ।
- (iii) खण्ड ख में प्रश्न संख्या 6 से 8 तक लघु-उत्तरीय प्रकार के प्रश्न हैं, प्रत्येक प्रश्न 3 अंकों का है । प्रत्येक प्रश्न का उत्तर 80 शब्दों से अधिक नहीं होना चाहिए ।
- (iv) खण्ड ग में प्रश्न संख्या 9 और 10 दीर्घ-उत्तरीय प्रकार के प्रश्न हैं, प्रत्येक प्रश्न 5 अंकों का है । प्रत्येक प्रश्न का उत्तर 120 शब्दों से अधिक नहीं होना चाहिए ।
- (v) खण्ड घ में प्रश्न संख्या 11 और 12 केस-आधारित प्रश्न हैं, प्रत्येक प्रश्न 4 अंकों का है ।
- (vi) खण्ड ङ में प्रश्न संख्या 13 मानचित्र-आधारित है । यह प्रश्न 3 अंकों का है जिसके दो भाग हैं – 13(क) इतिहास से (1 अंक) तथा 13(ख) भूगोल से (2 अंक) ।
- (vii) प्रश्न-पत्र में समग्र पर कोई विकल्प नहीं है । तथापि, कुछ प्रश्नों में आंतरिक विकल्प दिए गए हैं । ऐसे प्रश्नों में से केवल एक ही विकल्प का उत्तर लिखिए ।
- (viii) मानचित्र को अपनी उत्तर-पुस्तिका के साथ संलग्न कीजिए ।

खण्ड क

(अति लघु-उत्तरीय प्रश्न)

(5×2=10)

1. भारतीय व्यापारियों और उद्योगपतियों ने सविनय अवज्ञा आंदोलन का समर्थन क्यों किया ? स्पष्ट कीजिए । 2
2. देश में परिवहन के साधन के रूप में पाइपलाइन के महत्त्व की परख कीजिए । 2
3. भारत ने बहुदलीय व्यवस्था क्यों अपनाई ? स्पष्ट कीजिए । 2
4. 'माँग जमा' किस प्रकार मुद्रा का महत्त्वपूर्ण लक्षण है ? 2





General Instructions :

Read the following instructions very carefully and strictly follow them :

- (i) *This question paper comprises **five** sections – **Sections A, B, C, D and E.** There are **13** questions in the question paper. **All** questions are compulsory.*
- (ii) ***Section A** – Questions no. **1 to 5** are very short answer type questions, carrying **2** marks each. Answer to each question should not exceed **40** words.*
- (iii) ***Section B** – Questions no. **6 to 8** are short answer type questions, carrying **3** marks each. Answer to each question should not exceed **80** words.*
- (iv) ***Section C** – Questions no. **9 and 10** are long answer type questions, carrying **5** marks each. Answer to each question should not exceed **120** words.*
- (v) ***Section D** – Questions no. **11 and 12** are case-based questions, carrying **4** marks each.*
- (vi) ***Section E** – Question no. **13** is map-based, carrying **3** marks with two parts, **13(a)** from History (**1** mark) and **13(b)** from Geography (**2** marks).*
- (vii) *There is no overall choice in the question paper. However, an internal choice has been provided in few questions. **Only one of the choices** in such questions have to be attempted.*
- (viii) *Attach **map** along with your answer-book.*

SECTION A

(Very Short Answer Type Questions)

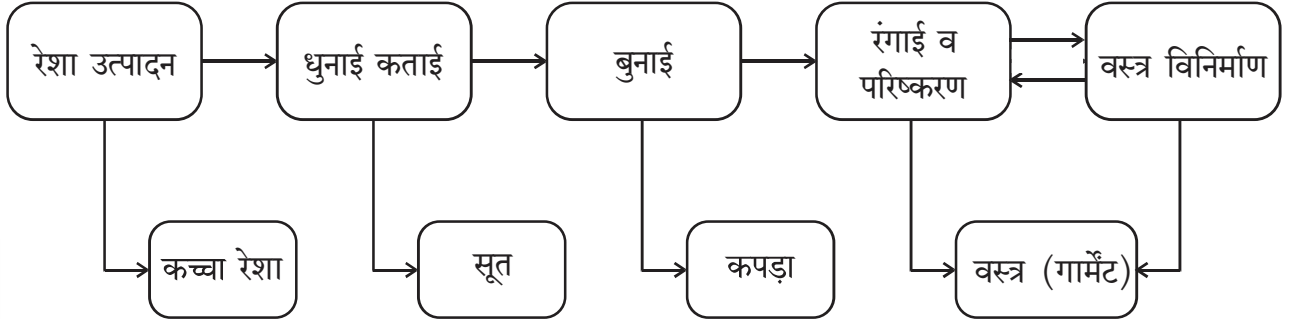
(5×2=10)

1. Why did Indian merchants and industrialists support the Civil Disobedience Movement ? Explain. 2
2. Examine the significance of pipeline as a means of transportation in the country. 2
3. Why has India adopted a multi-party system ? Explain. 2
4. How is 'Demand Deposit' an essential feature of money ? 2





5. दिए गए प्रवाह-चार्ट का अध्ययन कीजिए और उसके नीचे दिए गए प्रश्नों के उत्तर लिखिए :



- (5.1) वस्त्र विनिर्माण के लिए आवश्यक आधारभूत सामग्री कौन-सी है ? 1
- (5.2) वस्त्र उद्योग में मूल्य संवर्धन का एक उदाहरण दीजिए । 1

खण्ड ख

(लघु-उत्तरीय प्रश्न)

(3×3=9)

6. (क) ऋण के औपचारिक और अनौपचारिक स्रोतों में अंतर स्पष्ट कीजिए । 3

अथवा

- (ख) बैंक, वित्तीय प्रणाली के एक मूल घटक के रूप में किस प्रकार कार्य करता है ? स्पष्ट कीजिए । 3

7. “अपनी राष्ट्रीय पहचान को ढूँढ़ने और अपने अतीत में गौरव का भाव पैदा करने के लिए लोक परंपराओं को बचा कर रखना ज़रूरी था ।” भारत के संदर्भ में इस कथन की पुष्टि कीजिए । 3

8. भारत में राजनीतिक दलों के ‘पंजीकरण और मान्यता’ में चुनाव आयोग की भूमिका को स्पष्ट कीजिए । 3

खण्ड ग

(दीर्घ-उत्तरीय प्रश्न)

(2×5=10)

9. (क) “लोकतंत्र शासन, अन्य व्यवस्थाओं (विकल्पों) से बेहतर है ।” इस कथन का विश्लेषण कीजिए । 5

अथवा

- (ख) सारी दुनिया में लोकतंत्र के विचार के लिए भारी समर्थन के कारणों का विश्लेषण कीजिए । 5

10. (क) उन कारकों की परख कीजिए जो भारत में वैश्वीकरण को प्रोत्साहित करने में योगदान देते हैं । 5

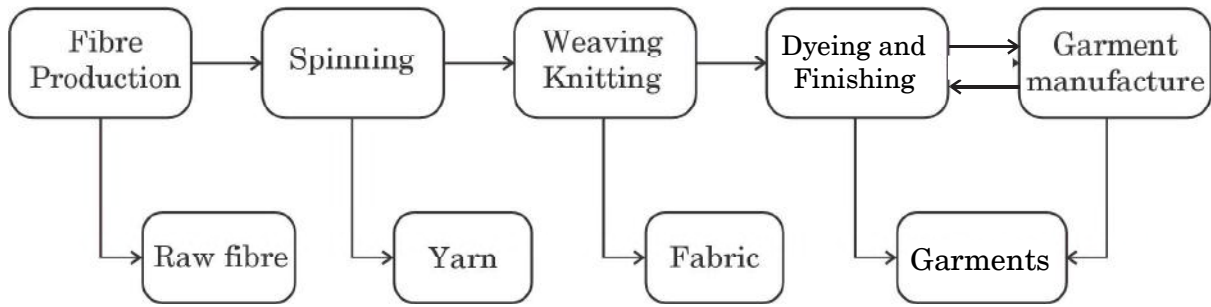
अथवा

- (ख) मूल्यांकन कीजिए कि किस प्रकार वैश्वीकरण ने व्यापक समाज के जीवन को प्रभावित किया है । 5





5. Study the given flowchart and answer the questions that follow :



- (5.1) Which is the basic material required for garment manufacturing ? 1
- (5.2) Give one example of value addition in the textile industry. 1

SECTION B

(Short-Answer Type Questions)

(3×3=9)

6. (a) Differentiate between formal and informal sources of Credit. 3
- OR**
- (b) How does a bank work as a key component of the financial system ? Explain. 3
7. “It was essential to preserve folk tradition in order to discover one’s national identity and restore a sense of pride in one’s past.” Support the statement in reference to India. 3
8. Explain the role of Election Commission in the ‘registration and recognition’ of political parties in India. 3

SECTION C

(Long-Answer Type Questions)

(2×5=10)

9. (a) “Democracy is a better form of government than any other alternative.” Analyse the statement. 5
- OR**
- (b) Analyse the reasons for the overwhelming support for the idea of democracy all over the world. 5
10. (a) Examine the factors which facilitate globalization in India. 5
- OR**
- (b) Assess, how globalization has touched the lives of larger society. 5





खण्ड घ

(केस-आधारित प्रश्न)

(2×4=8)

11. नीचे दिए गए केस को ध्यानपूर्वक पढ़िए और उसके नीचे दिए गए प्रश्नों के उत्तर लिखिए : 4

स्वतंत्रता दिवस की शपथ, 26 जनवरी, 1930

‘हमारा विश्वास है कि किसी भी समाज की तरह भारतीय जनता का भी यह एक अहरणीय (inalienable) अधिकार है कि उन्हें आज़ादी मिले, अपनी मेहनत का फल मिले और जीवन की सभी आवश्यकताएँ पूरी हों जिससे उन्हें आगे बढ़ने के परिपूर्ण अवसर मिलें। हमारा यह भी विश्वास है कि यदि कोई भी सरकार अपनी जनता को इन अधिकारों से वंचित रखती है और दबाती है तो जनता को भी सरकार को बदलने या उसे समूल समाप्त करने का अधिकार है। भारत में ब्रिटिश (ब्रितानी) सरकार ने न केवल भारतीय जनता को स्वतंत्रता से वंचित किया है बल्कि उसने जनता का शोषण किया है और देश को आर्थिक, राजनीतिक, सांस्कृतिक एवं आध्यात्मिक स्तर पर नष्ट कर दिया है। इसलिए हमारा विश्वास है कि भारत को अनिवार्य रूप से ब्रिटेन के साथ अपने सभी संबंधों को समाप्त करके पूर्ण स्वराज प्राप्त करना चाहिए।’

(11.1) स्वतंत्रता को भारतीय लोगों का अहरणीय अधिकार क्यों माना गया ? 1

(11.2) भारत के लोगों द्वारा पूर्ण स्वराज को आवश्यक क्यों माना गया ? 1

(11.3) काँग्रेस के लाहौर अधिवेशन (1930) के महत्त्व की व्याख्या कीजिए। 2

12. नीचे दिए गए केस को ध्यानपूर्वक पढ़िए और उसके नीचे दिए गए प्रश्नों के उत्तर लिखिए : 4

राष्ट्रीय अर्थव्यवस्था की जीवन रेखाएँ

बहुत समय तक व्यापार तथा परिवहन सुविधा एक सीमित क्षेत्र तक ही किया जाता था। विज्ञान तथा प्रौद्योगिकी के विकास के साथ व्यापार व परिवहन के प्रभाव क्षेत्र में विस्तृत वृद्धि हुई है। सक्षम व तीव्र गति वाले परिवहन से आज संसार एक बड़े गाँव में परिवर्तित हो गया है। परिवहन का यह विकास संचार साधनों के विकास की सहायता से ही संभव हो सका है। इसीलिए परिवहन, संचार व व्यापार एक-दूसरे के पूरक हैं।

आज भारत अपने विशाल आकार, विविधताओं, भाषाई तथा सामाजिक व सांस्कृतिक बहुलताओं के बावजूद संसार के सभी क्षेत्रों से सुचारु रूप से जुड़ा हुआ है। रेल, वायु एवं जल परिवहन, समाचार-पत्र, रेडियो, दूरदर्शन, सिनेमा तथा इंटरनेट, आदि इसके सामाजिक-आर्थिक विकास में अनेक प्रकार से सहायक हैं। स्थानिक से अंतर्राष्ट्रीय स्तरीय व्यापार ने अर्थव्यवस्था को जीवन शक्ति दी है। इसने हमारे जीवन को समृद्ध किया है तथा आरामदायक जीवन के लिए सुविधाओं व साधनों में बढ़ोतरी की है।

(12.1) परिवहन के विकास में विज्ञान किस प्रकार एक महत्त्वपूर्ण कारक है ? 1





SECTION D
(Case-based questions)

(2×4=8)

11. Read the case given below carefully and answer the questions that follow : 4

The Independence Day Pledge, 26 January, 1930

‘We believe that it is the inalienable right of the Indian people, as of any other people, to have freedom and to enjoy the fruits of their toil and have the necessities of life, so that they may have full opportunities of growth. We believe also that if any government deprives a people of these rights and oppresses them, the people have a further right to alter it or to abolish it. The British Government in India has not only deprived the Indian people of their freedom but has based itself on the exploitation of the masses, and has ruined India economically, politically, culturally, and spiritually. We believe, therefore, that India must sever the British connection and attain Purna Swaraj or Complete Independence.’

- (11.1) Why was freedom considered an inalienable right of the Indian people ? 1
- (11.2) Why was Purna Swaraj considered essential by the people of India ? 1
- (11.3) Explain the significance of the Lahore Session of Congress (1930). 2

12. Read the case given below carefully and answer the questions that follow : 4

Lifelines of National Economy

For a long time, trade and transport were restricted to a limited space. With the development in science and technology, the area of influence of trade and transport expanded far and wide. Today, the world has been converted into a large village with the help of efficient and fast moving transport. Transport has been able to achieve this with the help of equally developed communication system. Therefore, transport, communication and trade are complementary to each other.

Today, India is well-linked with the rest of the world despite its vast size, diversity and linguistic and socio-cultural plurality. Railways, airways, waterways, newspapers, radio, television, cinema and internet, etc. have been contributing to its socio-economic progress in many ways. The trades from local to international levels have added to the vitality of its economy. It has enriched our life and added substantially to growing amenities and facilities for the comforts of life.

- (12.1) How is science an important factor in the development of transport ? 1





- (12.2) सामाजिक व सांस्कृतिक बहुलता को परिवहन किस प्रकार एकीकृत करता है ? स्पष्ट कीजिए । 1
- (12.3) किसी राष्ट्र के लिए संचार के महत्त्व का विश्लेषण कीजिए । 2

खण्ड ड

(मानचित्र-आधारित प्रश्न)

(1+2=3)

13. (i) दिए गए भारत के राजनीतिक रेखा-मानचित्र (पृष्ठ 11 पर), में निम्नलिखित जानकारी की सहायता से 'A' के रूप में चिह्नित स्थान की पहचान कीजिए और उसके पास खींची गई रेखा पर उसका सही नाम लिखिए ।
- A. वह स्थान जहाँ हिंसा के कारण असहयोग आंदोलन को वापिस लिया गया । 1
- (ii) दिए गए भारत के इसी रेखा-मानचित्र पर निम्नलिखित को अंकित कीजिए और उनके नाम लिखिए ।
- (क) (I) नरोरा परमाणु ऊर्जा संयंत्र 1
- अथवा
- (II) बेंगलुरु सॉफ्टवेयर टेक्नोलॉजी पार्क 1
- (ख) इंदिरा गाँधी अन्तर्राष्ट्रीय हवाई पत्तन 1

नोट : निम्नलिखित प्रश्न केवल दृष्टिबाधित परीक्षार्थियों के लिए प्रश्न संख्या 13 के स्थान पर हैं । 3×1=3

- (13.1) उस राज्य का नाम लिखिए जहाँ 1927 में भारतीय राष्ट्रीय कांग्रेस का अधिवेशन हुआ । 1
- (13.2) (क) उस राज्य का नाम लिखिए जहाँ नरोरा परमाणु ऊर्जा संयंत्र स्थित है । 1
- अथवा
- (ख) उस राज्य का नाम लिखिए जहाँ बेंगलुरु सॉफ्टवेयर टेक्नोलॉजी पार्क स्थित है । 1
- (13.3) उस शहर का नाम लिखिए जहाँ इंदिरा गाँधी अन्तर्राष्ट्रीय हवाई पत्तन स्थित है । 1





- (12.2) How has transport integrated socio-cultural plurality ? Explain. 1
(12.3) Analyse the significance of communication for a nation. 2

SECTION E

(Map-Based Question)

(1+2=3)

13. (i) On the given political outline map of **India** (on page 11), identify the place marked as 'A' with the help of the following information and write its correct name on the line marked near it.
- A. The place where Non-Cooperation Movement was called off due to violence. 1
- (ii) On the same given map of **India**, locate and label the following :
- (a) (I) Narora Nuclear Power Plant 1
- OR**
- (II) Bengaluru Software Technology Park 1
- (b) Indira Gandhi International Airport 1

Note : The following questions are for the **Visually Impaired Candidates** only, in lieu of Q. No. 13. 3×1=3

- (13.1) Name the State where the session of Indian National Congress was held in 1927. 1
- (13.2) (a) Name the State where Narora Nuclear Power Plant is located. 1
- OR**
- (b) Name the State where Bengaluru Software Technology Park is located. 1
- (13.3) Name the city where Indira Gandhi International Airport is located. 1







प्रश्न सं. 13 के लिए

For question no. 13





Series **AQQPP/1**



SET ~ 2

रोल नं.

Roll No.

| | | | | | | | |
|--|--|--|--|--|--|--|--|
| | | | | | | | |
|--|--|--|--|--|--|--|--|

प्रश्न-पत्र कोड
Q.P. Code

32/1/2

परीक्षार्थी प्रश्न-पत्र कोड को उत्तर-पुस्तिका के मुख-पृष्ठ पर अवश्य लिखें ।

Candidates must write the Q.P. Code on the title page of the answer-book.

नोट / NOTE :

- (i) कृपया जाँच कर लें कि इस प्रश्न-पत्र में मुद्रित पृष्ठ **9 + 1** मानचित्र हैं ।
Please check that this question paper contains **9** printed pages +**1** Map.
- (ii) प्रश्न-पत्र में दाहिने हाथ की ओर दिए गए प्रश्न-पत्र कोड को परीक्षार्थी उत्तर-पुस्तिका के मुख-पृष्ठ पर लिखें ।
Q.P. Code given on the right hand side of the question paper should be written on the title page of the answer-book by the candidate.
- (iii) कृपया जाँच कर लें कि इस प्रश्न-पत्र में **13** प्रश्न हैं ।
Please check that this question paper contains **13** questions.
- (iv) कृपया प्रश्न का उत्तर लिखना शुरू करने से पहले, उत्तर-पुस्तिका में प्रश्न का क्रमांक अवश्य लिखें ।
Please write down the serial number of the question in the answer-book before attempting it.
- (v) इस प्रश्न-पत्र को पढ़ने के लिए 15 मिनट का समय दिया गया है । प्रश्न-पत्र का वितरण पूर्वाह्न में 10.15 बजे किया जाएगा । 10.15 बजे से 10.30 बजे तक छात्र केवल प्रश्न-पत्र को पढ़ेंगे और इस अवधि के दौरान वे उत्तर-पुस्तिका पर कोई उत्तर नहीं लिखेंगे ।
15 minute time has been allotted to read this question paper. The question paper will be distributed at 10.15 a.m. From 10.15 a.m. to 10.30 a.m., the students will read the question paper only and will not write any answer on the answer-book during this period.



सामाजिक विज्ञान
SOCIAL SCIENCE



निर्धारित समय : 2 घण्टे

Time allowed : 2 hours

अधिकतम अंक : 40

Maximum Marks : 40





सामान्य निर्देश:

निम्नलिखित निर्देशों को बहुत सावधानी से पढ़िए और उनका सख्ती से पालन कीजिए :

- (i) यह प्रश्न-पत्र पाँच खण्डों में विभाजित किया गया है – खण्ड क, ख, ग, घ और ङ । इस प्रश्न-पत्र में प्रश्नों की संख्या 13 है । सभी प्रश्न अनिवार्य हैं ।
- (ii) खण्ड क में प्रश्न संख्या 1 से 5 तक अति लघु-उत्तरीय प्रकार के प्रश्न हैं, प्रत्येक प्रश्न 2 अंकों का है । प्रत्येक प्रश्न का उत्तर 40 शब्दों से अधिक नहीं होना चाहिए ।
- (iii) खण्ड ख में प्रश्न संख्या 6 से 8 तक लघु-उत्तरीय प्रकार के प्रश्न हैं, प्रत्येक प्रश्न 3 अंकों का है । प्रत्येक प्रश्न का उत्तर 80 शब्दों से अधिक नहीं होना चाहिए ।
- (iv) खण्ड ग में प्रश्न संख्या 9 और 10 दीर्घ-उत्तरीय प्रकार के प्रश्न हैं, प्रत्येक प्रश्न 5 अंकों का है । प्रत्येक प्रश्न का उत्तर 120 शब्दों से अधिक नहीं होना चाहिए ।
- (v) खण्ड घ में प्रश्न संख्या 11 और 12 केस-आधारित प्रश्न हैं, प्रत्येक प्रश्न 4 अंकों का है ।
- (vi) खण्ड ङ में प्रश्न संख्या 13 मानचित्र-आधारित है । यह प्रश्न 3 अंकों का है जिसके दो भाग हैं – 13(क) इतिहास से (1 अंक) तथा 13(ख) भूगोल से (2 अंक) ।
- (vii) प्रश्न-पत्र में समग्र पर कोई विकल्प नहीं है । तथापि, कुछ प्रश्नों में आंतरिक विकल्प दिए गए हैं । ऐसे प्रश्नों में से केवल एक ही विकल्प का उत्तर लिखिए ।
- (viii) मानचित्र को अपनी उत्तर-पुस्तिका के साथ संलग्न कीजिए ।

खण्ड क

(अति लघु-उत्तरीय प्रश्न)

(5×2=10)

1. भारत ने बहुदलीय व्यवस्था क्यों अपनाई ? स्पष्ट कीजिए । 2
2. हवाई परिवहन के महत्त्व का परीक्षण कीजिए । 2
3. राजनीतिक दल किस प्रकार जनमत को आकार देते हैं ? 2
4. भारतीय व्यापारियों और उद्योगपतियों ने सविनय अवज्ञा आंदोलन का समर्थन क्यों किया ? स्पष्ट कीजिए । 2





General Instructions :

Read the following instructions very carefully and strictly follow them :

- (i) *This question paper comprises **five** sections – **Sections A, B, C, D and E.** There are **13** questions in the question paper. **All** questions are compulsory.*
- (ii) ***Section A** – Questions no. **1 to 5** are very short answer type questions, carrying **2** marks each. Answer to each question should not exceed **40** words.*
- (iii) ***Section B** – Questions no. **6 to 8** are short answer type questions, carrying **3** marks each. Answer to each question should not exceed **80** words.*
- (iv) ***Section C** – Questions no. **9 and 10** are long answer type questions, carrying **5** marks each. Answer to each question should not exceed **120** words.*
- (v) ***Section D** – Questions no. **11 and 12** are case-based questions, carrying **4** marks each.*
- (vi) ***Section E** – Question no. **13** is map-based, carrying **3** marks with two parts, **13(a)** from History (**1** mark) and **13(b)** from Geography (**2** marks).*
- (vii) *There is no overall choice in the question paper. However, an internal choice has been provided in few questions. **Only one of the choices** in such questions have to be attempted.*
- (viii) *Attach **map** along with your answer-book.*

SECTION A

(Very Short Answer Type Questions)

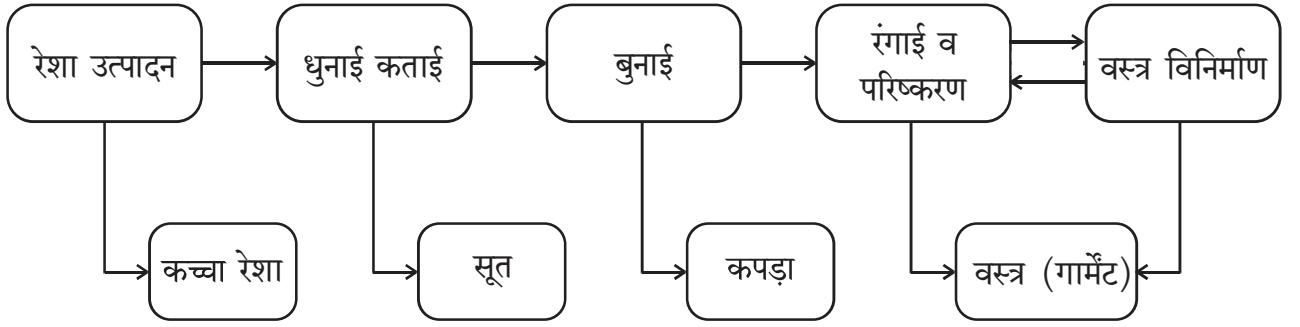
(5×2=10)

1. Why has India adopted a multi-party system ? Explain. 2
2. Examine the significance of air transport. 2
3. How do political parties shape public opinion ? 2
4. Why did Indian merchants and industrialists support the Civil Disobedience Movement ? Explain. 2





5. दिए गए प्रवाह-चार्ट का अध्ययन कीजिए और उसके नीचे दिए गए प्रश्नों के उत्तर लिखिए :



(5.1) वस्त्र विनिर्माण के लिए आवश्यक आधारभूत सामग्री कौन-सी है ? 1

(5.2) वस्त्र उद्योग में मूल्य संवर्धन का एक उदाहरण दीजिए । 1

खण्ड ख

(लघु-उत्तरीय प्रश्न)

(3×3=9)

6. “अपनी राष्ट्रीय पहचान को ढूँढ़ने और अपने अतीत में गौरव का भाव पैदा करने के लिए लोक परंपराओं को बचा कर रखना ज़रूरी था ।” भारत के संदर्भ में इस कथन की पुष्टि कीजिए । 3

7. (क) ऋण के औपचारिक और अनौपचारिक स्रोतों में अंतर स्पष्ट कीजिए । 3

अथवा

(ख) बैंक, वित्तीय प्रणाली के एक मूल घटक के रूप में किस प्रकार कार्य करता है ? स्पष्ट कीजिए । 3

8. ‘एक-दलीय व्यवस्था’ की किन्हीं तीन विशेषताओं को स्पष्ट कीजिए । 3

खण्ड ग

(दीर्घ-उत्तरीय प्रश्न)

(2×5=10)

9. (क) “लोकतंत्र शासन, अन्य व्यवस्थाओं (विकल्पों) से बेहतर है ।” इस कथन का विश्लेषण कीजिए । 5

अथवा

(ख) सारी दुनिया में लोकतंत्र के विचार के लिए भारी समर्थन के कारणों का विश्लेषण कीजिए । 5

10. (क) विदेशी व्यापार और बाज़ारों के एकीकरण के संदर्भ में वैश्वीकरण का मूल्यांकन कीजिए । 5

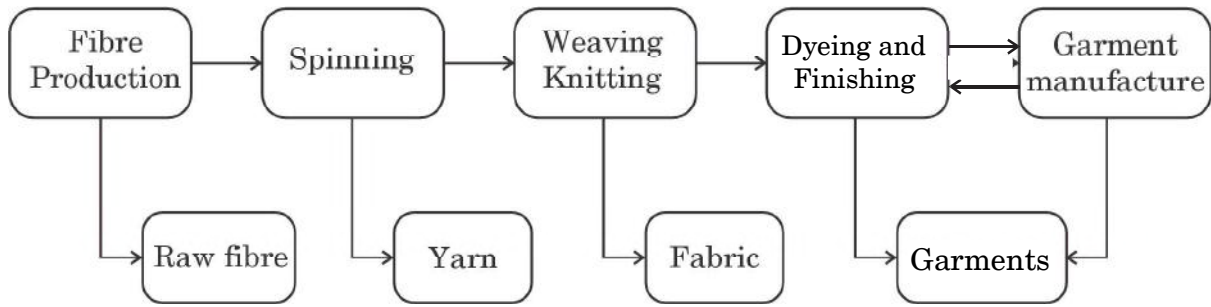
अथवा

(ख) “दुनिया के दूरस्थ क्षेत्रों को जोड़ने वाली वैश्वीकरण प्रक्रिया में बहुराष्ट्रीय कंपनियाँ एक प्रमुख शक्ति रही हैं ।” इस कथन को न्यायसंगत ठहराइए । 5





5. Study the given flowchart and answer the questions that follow :



- (5.1) Which is the basic material required for garment manufacturing ? 1
- (5.2) Give one example of value addition in the textile industry. 1

SECTION B

(Short-Answer Type Questions)

(3×3=9)

6. “It was essential to preserve folk tradition in order to discover one’s national identity and restore a sense of pride in one’s past.” Support the statement in reference to India. 3
7. (a) Differentiate between formal and informal sources of Credit. 3
- OR**
- (b) How does a bank work as a key component of the financial system ? Explain. 3
8. Explain any three features of ‘one-party system’. 3

SECTION C

(Long-Answer Type Questions)

(2×5=10)

9. (a) “Democracy is a better form of government than any other alternative.” Analyse the statement. 5
- OR**
- (b) Analyse the reasons for the overwhelming support for the idea of democracy all over the world. 5
10. (a) Assess globalisation in terms of foreign trade and integration of markets. 5
- OR**
- (b) “MNCs have been a major force in the globalisation process connecting distant regions of the world.” Justify the statement. 5





खण्ड घ

(केस-आधारित प्रश्न)

(2×4=8)

11. नीचे दिए गए केस को ध्यानपूर्वक पढ़िए और उसके नीचे दिए गए प्रश्नों के उत्तर लिखिए : 4

राष्ट्रीय अर्थव्यवस्था की जीवन रेखाएँ

बहुत समय तक व्यापार तथा परिवहन सुविधा एक सीमित क्षेत्र तक ही किया जाता था। विज्ञान तथा प्रौद्योगिकी के विकास के साथ व्यापार व परिवहन के प्रभाव क्षेत्र में विस्तृत वृद्धि हुई है। सक्षम व तीव्र गति वाले परिवहन से आज संसार एक बड़े गाँव में परिवर्तित हो गया है। परिवहन का यह विकास संचार साधनों के विकास की सहायता से ही संभव हो सका है। इसीलिए परिवहन, संचार व व्यापार एक-दूसरे के पूरक हैं।

आज भारत अपने विशाल आकार, विविधताओं, भाषाई तथा सामाजिक व सांस्कृतिक बहुलताओं के बावजूद संसार के सभी क्षेत्रों से सुचारु रूप से जुड़ा हुआ है। रेल, वायु एवं जल परिवहन, समाचार-पत्र, रेडियो, दूरदर्शन, सिनेमा तथा इंटरनेट, आदि इसके सामाजिक-आर्थिक विकास में अनेक प्रकार से सहायक हैं। स्थानिक से अंतर्राष्ट्रीय स्तरीय व्यापार ने अर्थव्यवस्था को जीवन शक्ति दी है। इसने हमारे जीवन को समृद्ध किया है तथा आरामदायक जीवन के लिए सुविधाओं व साधनों में बढ़ोतरी की है।

(11.1) परिवहन के विकास में विज्ञान किस प्रकार एक महत्वपूर्ण कारक है ? 1

(11.2) सामाजिक व सांस्कृतिक बहुलता को परिवहन किस प्रकार एकीकृत करता है ? स्पष्ट कीजिए। 1

(11.3) किसी राष्ट्र के लिए संचार के महत्व का विश्लेषण कीजिए। 2

12. नीचे दिए गए केस को ध्यानपूर्वक पढ़िए और उसके नीचे दिए गए प्रश्नों के उत्तर लिखिए : 4

स्वतंत्रता दिवस की शपथ, 26 जनवरी, 1930

‘हमारा विश्वास है कि किसी भी समाज की तरह भारतीय जनता का भी यह एक अहरणीय (inalienable) अधिकार है कि उन्हें आज़ादी मिले, अपनी मेहनत का फल मिले और जीवन की सभी आवश्यकताएँ पूरी हों जिससे उन्हें आगे बढ़ने के परिपूर्ण अवसर मिलें। हमारा यह भी विश्वास है कि यदि कोई भी सरकार अपनी जनता को इन अधिकारों से वंचित रखती है और दबाती है तो जनता को भी सरकार को बदलने या उसे समूल समाप्त करने का अधिकार है। भारत में ब्रिटिश (ब्रितानी) सरकार ने न केवल भारतीय जनता को स्वतंत्रता से वंचित किया है बल्कि उसने जनता का शोषण किया है और देश को आर्थिक, राजनीतिक, सांस्कृतिक एवं आध्यात्मिक स्तर पर नष्ट कर दिया है। इसलिए हमारा विश्वास है कि भारत को अनिवार्य रूप से ब्रिटेन के साथ अपने सभी संबंधों को समाप्त करके पूर्ण स्वराज प्राप्त करना चाहिए।’

(12.1) स्वतंत्रता को भारतीय लोगों का अहरणीय अधिकार क्यों माना गया ? 1





SECTION D
(Case-based questions)

(2×4=8)

11. Read the case given below carefully and answer the questions that follow : 4

Lifelines of National Economy

For a long time, trade and transport were restricted to a limited space. With the development in science and technology, the area of influence of trade and transport expanded far and wide. Today, the world has been converted into a large village with the help of efficient and fast moving transport. Transport has been able to achieve this with the help of equally developed communication system. Therefore, transport, communication and trade are complementary to each other.

Today, India is well-linked with the rest of the world despite its vast size, diversity and linguistic and socio-cultural plurality. Railways, airways, waterways, newspapers, radio, television, cinema and internet, etc. have been contributing to its socio-economic progress in many ways. The trades from local to international levels have added to the vitality of its economy. It has enriched our life and added substantially to growing amenities and facilities for the comforts of life.

- (11.1) How is science an important factor in the development of transport ? 1
- (11.2) How has transport integrated socio-cultural plurality ? Explain. 1
- (11.3) Analyse the significance of communication for a nation. 2

12. Read the case given below carefully and answer the questions that follow : 4

The Independence Day Pledge, 26 January, 1930

‘We believe that it is the inalienable right of the Indian people, as of any other people, to have freedom and to enjoy the fruits of their toil and have the necessities of life, so that they may have full opportunities of growth. We believe also that if any government deprives a people of these rights and oppresses them, the people have a further right to alter it or to abolish it. The British Government in India has not only deprived the Indian people of their freedom but has based itself on the exploitation of the masses, and has ruined India economically, politically, culturally, and spiritually. We believe, therefore, that India must sever the British connection and attain Purna Swaraj or Complete Independence.’

- (12.1) Why was freedom considered an inalienable right of the Indian people ? 1





- (12.2) भारत के लोगों द्वारा पूर्ण स्वराज को आवश्यक क्यों माना गया ? 1
- (12.3) काँग्रेस के लाहौर अधिवेशन (1930) के महत्त्व की व्याख्या कीजिए । 2

खण्ड ड

(मानचित्र-आधारित प्रश्न)

(1+2=3)

13. (i) दिए गए भारत के राजनीतिक रेखा-मानचित्र (पृष्ठ 11 पर), में निम्नलिखित जानकारी की सहायता से 'A' के रूप में चिह्नित स्थान की पहचान कीजिए और उसके पास खींची गई रेखा पर उसका सही नाम लिखिए ।
- A. वह स्थान जहाँ हिंसा के कारण असहयोग आंदोलन को वापिस लिया गया । 1
- (ii) दिए गए भारत के इसी रेखा-मानचित्र पर निम्नलिखित को अंकित कीजिए और उनके नाम लिखिए ।
- (क) (I) नरोरा परमाणु ऊर्जा संयंत्र 1
- अथवा
- (II) बेंगलुरु सॉफ्टवेयर टेक्नोलॉजी पार्क 1
- (ख) इंदिरा गाँधी अन्तर्राष्ट्रीय हवाई पत्तन 1

नोट : निम्नलिखित प्रश्न केवल दृष्टिबाधित परीक्षार्थियों के लिए प्रश्न संख्या 13 के स्थान पर हैं । 3×1=3

- (13.1) उस राज्य का नाम लिखिए जहाँ 1927 में भारतीय राष्ट्रीय काँग्रेस का अधिवेशन हुआ । 1
- (13.2) (क) उस राज्य का नाम लिखिए जहाँ नरोरा परमाणु ऊर्जा संयंत्र स्थित है । 1
- अथवा
- (ख) उस राज्य का नाम लिखिए जहाँ बेंगलुरु सॉफ्टवेयर टेक्नोलॉजी पार्क स्थित है । 1
- (13.3) उस शहर का नाम लिखिए जहाँ इंदिरा गाँधी अंतर्राष्ट्रीय हवाई पत्तन स्थित है । 1





- (12.2) Why was Purna Swaraj considered essential by the people of India ? 1
- (12.3) Explain the significance of the Lahore Session of Congress (1930). 2

SECTION E

(Map-Based Question)

(1+2=3)

13. (i) On the given political outline map of **India** (on page 11), identify the place marked as 'A' with the help of the following information and write its correct name on the line marked near it.
- A. The place where Non-Cooperation Movement was called off due to violence. 1
- (ii) On the same given map of **India**, locate and label the following :
- (a) (I) Narora Nuclear Power Plant 1
- OR**
- (II) Bengaluru Software Technology Park 1
- (b) Indira Gandhi International Airport 1

Note : The following questions are for the **Visually Impaired Candidates** only, in lieu of Q. No. 13. 3×1=3

- (13.1) Name the State where the session of Indian National Congress was held in 1927. 1
- (13.2) (a) Name the State where Narora Nuclear Power Plant is located. 1
- OR**
- (b) Name the State where Bengaluru Software Technology Park is located. 1
- (13.3) Name the city where Indira Gandhi International Airport is located. 1

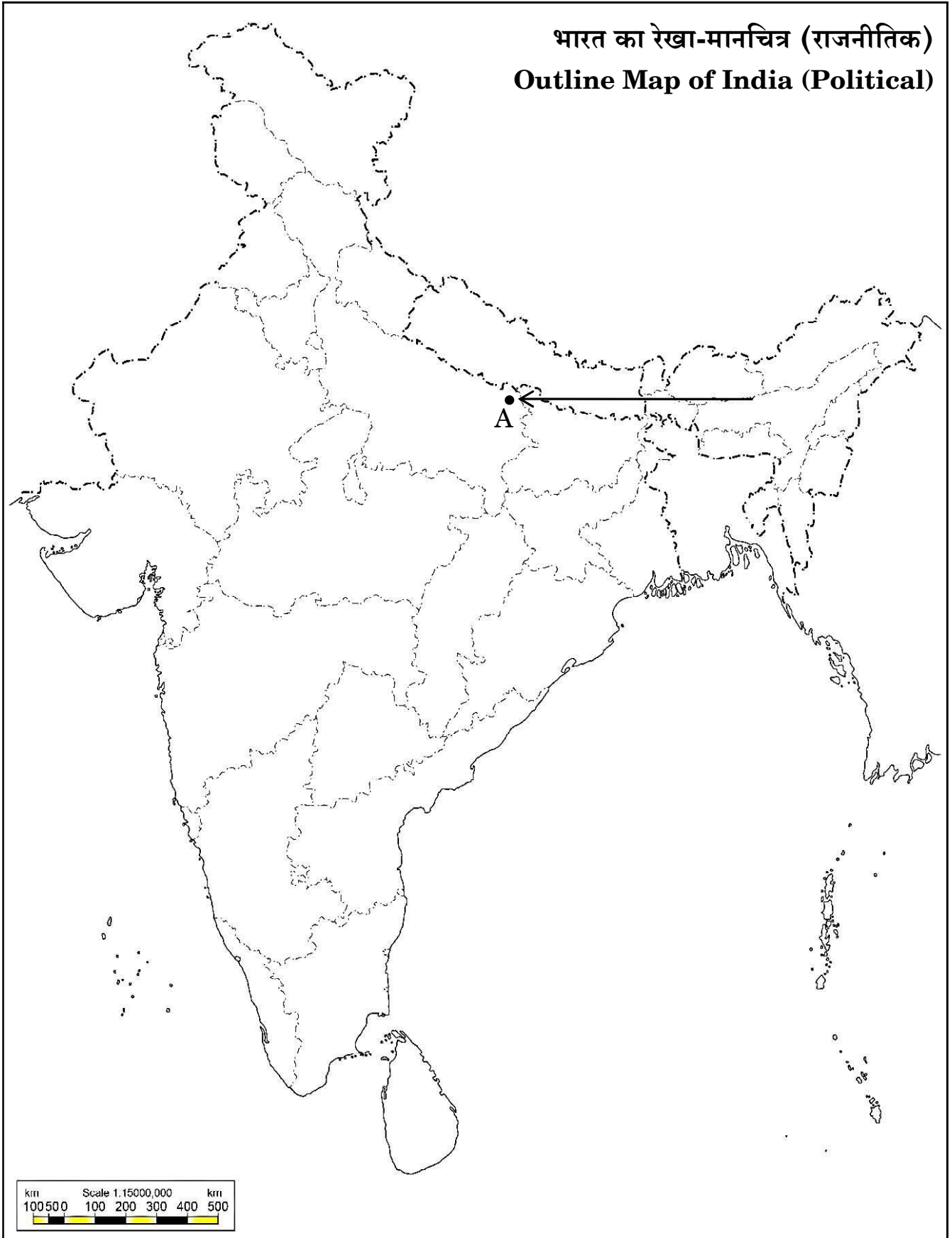






प्रश्न सं. 13 के लिए

For question no. 13





Series **AQQPP/1**



SET ~ 3

रोल नं.

Roll No.

| | | | | | | | |
|--|--|--|--|--|--|--|--|
| | | | | | | | |
|--|--|--|--|--|--|--|--|

प्रश्न-पत्र कोड
Q.P. Code

32/1/3

परीक्षार्थी प्रश्न-पत्र कोड को उत्तर-पुस्तिका के मुख-पृष्ठ पर अवश्य लिखें ।

Candidates must write the Q.P. Code on the title page of the answer-book.

नोट / NOTE :

- (i) कृपया जाँच कर लें कि इस प्रश्न-पत्र में मुद्रित पृष्ठ **9 + 1** मानचित्र हैं ।
Please check that this question paper contains **9** printed pages +**1** Map.
- (ii) प्रश्न-पत्र में दाहिने हाथ की ओर दिए गए प्रश्न-पत्र कोड को परीक्षार्थी उत्तर-पुस्तिका के मुख-पृष्ठ पर लिखें ।
Q.P. Code given on the right hand side of the question paper should be written on the title page of the answer-book by the candidate.
- (iii) कृपया जाँच कर लें कि इस प्रश्न-पत्र में **13** प्रश्न हैं ।
Please check that this question paper contains **13** questions.
- (iv) कृपया प्रश्न का उत्तर लिखना शुरू करने से पहले, उत्तर-पुस्तिका में प्रश्न का क्रमांक अवश्य लिखें ।
Please write down the serial number of the question in the answer-book before attempting it.
- (v) इस प्रश्न-पत्र को पढ़ने के लिए 15 मिनट का समय दिया गया है । प्रश्न-पत्र का वितरण पूर्वाह्न में 10.15 बजे किया जाएगा । 10.15 बजे से 10.30 बजे तक छात्र केवल प्रश्न-पत्र को पढ़ेंगे और इस अवधि के दौरान वे उत्तर-पुस्तिका पर कोई उत्तर नहीं लिखेंगे ।
15 minute time has been allotted to read this question paper. The question paper will be distributed at 10.15 a.m. From 10.15 a.m. to 10.30 a.m., the students will read the question paper only and will not write any answer on the answer-book during this period.



सामाजिक विज्ञान
SOCIAL SCIENCE



निर्धारित समय : 2 घण्टे

Time allowed : 2 hours

अधिकतम अंक : 40

Maximum Marks : 40





सामान्य निर्देश:

निम्नलिखित निर्देशों को बहुत सावधानी से पढ़िए और उनका सख्ती से पालन कीजिए :

- (i) यह प्रश्न-पत्र पाँच खण्डों में विभाजित किया गया है – खण्ड क, ख, ग, घ और ङ । इस प्रश्न-पत्र में प्रश्नों की संख्या 13 है । सभी प्रश्न अनिवार्य हैं ।
- (ii) खण्ड क में प्रश्न संख्या 1 से 5 तक अति लघु-उत्तरीय प्रकार के प्रश्न हैं, प्रत्येक प्रश्न 2 अंकों का है । प्रत्येक प्रश्न का उत्तर 40 शब्दों से अधिक नहीं होना चाहिए ।
- (iii) खण्ड ख में प्रश्न संख्या 6 से 8 तक लघु-उत्तरीय प्रकार के प्रश्न हैं, प्रत्येक प्रश्न 3 अंकों का है । प्रत्येक प्रश्न का उत्तर 80 शब्दों से अधिक नहीं होना चाहिए ।
- (iv) खण्ड ग में प्रश्न संख्या 9 और 10 दीर्घ-उत्तरीय प्रकार के प्रश्न हैं, प्रत्येक प्रश्न 5 अंकों का है । प्रत्येक प्रश्न का उत्तर 120 शब्दों से अधिक नहीं होना चाहिए ।
- (v) खण्ड घ में प्रश्न संख्या 11 और 12 केस-आधारित प्रश्न हैं, प्रत्येक प्रश्न 4 अंकों का है ।
- (vi) खण्ड ङ में प्रश्न संख्या 13 मानचित्र-आधारित है । यह प्रश्न 3 अंकों का है जिसके दो भाग हैं – 13 (क) इतिहास से (1 अंक) तथा 13 (ख) भूगोल से (2 अंक) ।
- (vii) प्रश्न-पत्र में समग्र पर कोई विकल्प नहीं है । तथापि, कुछ प्रश्नों में आंतरिक विकल्प दिए गए हैं । ऐसे प्रश्नों में से केवल एक ही विकल्प का उत्तर लिखिए ।
- (viii) मानचित्र को अपनी उत्तर-पुस्तिका के साथ संलग्न कीजिए ।

खण्ड क

(अति लघु-उत्तरीय प्रश्न)

(5×2=10)

1. भारतीय व्यापारियों और उद्योगपतियों ने सविनय अवज्ञा आंदोलन का समर्थन क्यों किया ? स्पष्ट कीजिए । 2
2. परिवहन के साधन के रूप में रेलवे के महत्त्व का दो तर्कों से परख कीजिए । 2
3. लोकतंत्र की गुणवत्ता जन भागीदारी की मात्रा पर किस प्रकार निर्भर है ? 2





General Instructions :

Read the following instructions very carefully and strictly follow them :

- (i) *This question paper comprises **five** sections – **Sections A, B, C, D and E.** There are **13** questions in the question paper. **All** questions are compulsory.*
- (ii) ***Section A** – Questions no. **1 to 5** are very short answer type questions, carrying **2** marks each. Answer to each question should not exceed **40** words.*
- (iii) ***Section B** – Questions no. **6 to 8** are short answer type questions, carrying **3** marks each. Answer to each question should not exceed **80** words.*
- (iv) ***Section C** – Questions no. **9 and 10** are long answer type questions, carrying **5** marks each. Answer to each question should not exceed **120** words.*
- (v) ***Section D** – Questions no. **11 and 12** are case-based questions, carrying **4** marks each.*
- (vi) ***Section E** – Question no. **13** is map-based, carrying **3** marks with two parts, **13(a)** from History (**1** mark) and **13(b)** from Geography (**2** marks).*
- (vii) *There is no overall choice in the question paper. However, an internal choice has been provided in few questions. **Only one of the choices** in such questions have to be attempted.*
- (viii) *Attach **map** along with your answer-book.*

SECTION A

(Very Short Answer Type Questions)

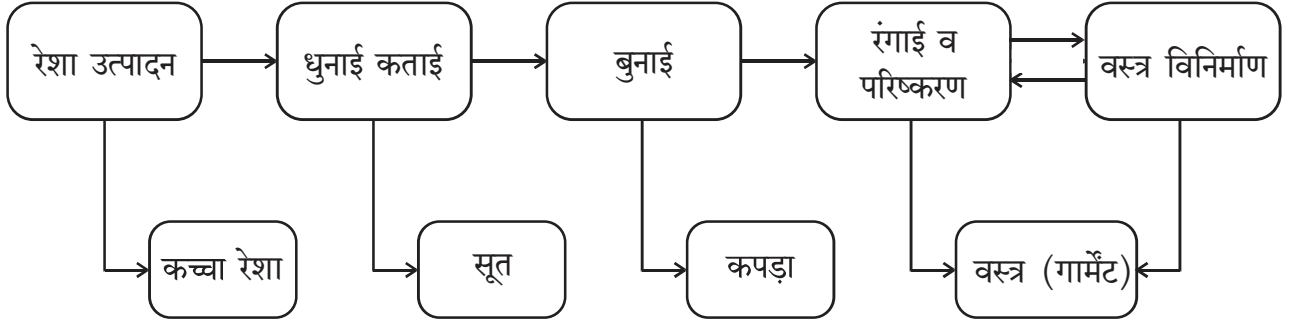
(5×2=10)

1. Why did Indian merchants and industrialists support the Civil Disobedience Movement ? Explain. 2
2. Examine the significance of railways as a means of transport, with two arguments. 2
3. How does the quality of democracy depend on the degree of public participation ? 2





4. दिए गए प्रवाह-चार्ट का अध्ययन कीजिए और उसके नीचे दिए गए प्रश्नों के उत्तर लिखिए :



(4.1) वस्त्र विनिर्माण के लिए आवश्यक आधारभूत सामग्री कौन-सी है ? 1

(4.2) वस्त्र उद्योग में मूल्य संवर्धन का एक उदाहरण दीजिए । 1

5. 'माँग जमा' किस प्रकार मुद्रा का महत्वपूर्ण लक्षण है ? 2

खण्ड ख

(लघु-उत्तरीय प्रश्न)

(3×3=9)

6. "अपनी राष्ट्रीय पहचान को ढूँढ़ने और अपने अतीत में गौरव का भाव पैदा करने के लिए लोक परंपराओं को बचा कर रखना ज़रूरी था ।" भारत के संदर्भ में इस कथन की पुष्टि कीजिए । 3

7. (क) ऋण के औपचारिक और अनौपचारिक स्रोतों में अंतर स्पष्ट कीजिए । 3

अथवा

(ख) बैंक, वित्तीय प्रणाली के एक मूल घटक के रूप में किस प्रकार कार्य करता है ? स्पष्ट कीजिए । 3

8. 'बहुदलीय व्यवस्था' की किन्हीं तीन विशेषताओं को स्पष्ट कीजिए । 3

खण्ड ग

(दीर्घ-उत्तरीय प्रश्न)

(2×5=10)

9. (क) "लोकतंत्र शासन, अन्य व्यवस्थाओं (विकल्पों) से बेहतर है ।" इस कथन का विश्लेषण कीजिए । 5

अथवा

(ख) सारी दुनिया में लोकतंत्र के विचार के लिए भारी समर्थन के कारणों का विश्लेषण कीजिए । 5

10. (क) देश के विकास में वैश्वीकरण ने किस हद तक योगदान दिया है ? मूल्यांकन कीजिए । 5

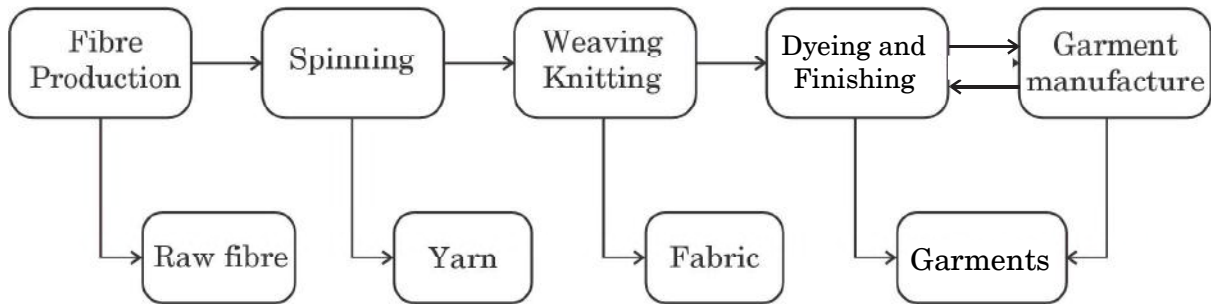
अथवा

(ख) भारत में वैश्वीकरण के प्रभावों का मूल्यांकन कीजिए । 5





4. Study the given flowchart and answer the questions that follow :



- (4.1) Which is the basic material required for garment manufacturing ? 1
- (4.2) Give one example of value addition in the textile industry. 1

5. How is 'Demand Deposit' an essential feature of money ? 2

SECTION B

(Short-Answer Type Questions)

(3×3=9)

6. "It was essential to preserve folk tradition in order to discover one's national identity and restore a sense of pride in one's past." Support the statement in reference to India. 3
7. (a) Differentiate between formal and informal sources of Credit. 3
- OR**
- (b) How does a bank work as a key component of the financial system ? Explain. 3

8. Explain any three features of 'multi-party system'. 3

SECTION C

(Long-Answer Type Questions)

(2×5=10)

9. (a) "Democracy is a better form of government than any other alternative." Analyse the statement. 5
- OR**
- (b) Analyse the reasons for the overwhelming support for the idea of democracy all over the world. 5
10. (a) To what extent has globalisation contributed to the development of the country ? Assess. 5
- OR**
- (b) Assess the impact of globalisation in India. 5





खण्ड घ

(केस-आधारित प्रश्न)

(2×4=8)

11. नीचे दिए गए केस को ध्यानपूर्वक पढ़िए और उसके नीचे दिए गए प्रश्नों के उत्तर लिखिए : 4

राष्ट्रीय अर्थव्यवस्था की जीवन रेखाएँ

बहुत समय तक व्यापार तथा परिवहन सुविधा एक सीमित क्षेत्र तक ही किया जाता था। विज्ञान तथा प्रौद्योगिकी के विकास के साथ व्यापार व परिवहन के प्रभाव क्षेत्र में विस्तृत वृद्धि हुई है। सक्षम व तीव्र गति वाले परिवहन से आज संसार एक बड़े गाँव में परिवर्तित हो गया है। परिवहन का यह विकास संचार साधनों के विकास की सहायता से ही संभव हो सका है। इसीलिए परिवहन, संचार व व्यापार एक-दूसरे के पूरक हैं।

आज भारत अपने विशाल आकार, विविधताओं, भाषाई तथा सामाजिक व सांस्कृतिक बहुलताओं के बावजूद संसार के सभी क्षेत्रों से सुचारु रूप से जुड़ा हुआ है। रेल, वायु एवं जल परिवहन, समाचार-पत्र, रेडियो, दूरदर्शन, सिनेमा तथा इंटरनेट, आदि इसके सामाजिक-आर्थिक विकास में अनेक प्रकार से सहायक हैं। स्थानिक से अंतर्राष्ट्रीय स्तरीय व्यापार ने अर्थव्यवस्था को जीवन शक्ति दी है। इसने हमारे जीवन को समृद्ध किया है तथा आरामदायक जीवन के लिए सुविधाओं व साधनों में बढ़ोतरी की है।

(11.1) परिवहन के विकास में विज्ञान किस प्रकार एक महत्वपूर्ण कारक है ? 1

(11.2) सामाजिक व सांस्कृतिक बहुलता को परिवहन किस प्रकार एकीकृत करता है ? स्पष्ट कीजिए। 1

(11.3) किसी राष्ट्र के लिए संचार के महत्व का विश्लेषण कीजिए। 2

12. नीचे दिए गए केस को ध्यानपूर्वक पढ़िए और उसके नीचे दिए गए प्रश्नों के उत्तर लिखिए : 4

स्वतंत्रता दिवस की शपथ, 26 जनवरी, 1930

‘हमारा विश्वास है कि किसी भी समाज की तरह भारतीय जनता का भी यह एक अहरणीय (inalienable) अधिकार है कि उन्हें आज़ादी मिले, अपनी मेहनत का फल मिले और जीवन की सभी आवश्यकताएँ पूरी हों जिससे उन्हें आगे बढ़ने के परिपूर्ण अवसर मिलें। हमारा यह भी विश्वास है कि यदि कोई भी सरकार अपनी जनता को इन अधिकारों से वंचित रखती है और दबाती है तो जनता को भी सरकार को बदलने या उसे समूल समाप्त करने का अधिकार है। भारत में ब्रिटिश (ब्रितानी) सरकार ने न केवल भारतीय जनता को स्वतंत्रता से वंचित किया है बल्कि उसने जनता का शोषण किया है और देश को आर्थिक, राजनीतिक, सांस्कृतिक एवं आध्यात्मिक स्तर पर नष्ट कर दिया है। इसलिए हमारा विश्वास है कि भारत को अनिवार्य रूप से ब्रिटेन के साथ अपने सभी संबंधों को समाप्त करके पूर्ण स्वराज प्राप्त करना चाहिए।’

(12.1) स्वतंत्रता को भारतीय लोगों का अहरणीय अधिकार क्यों माना गया ? 1





SECTION D
(Case-based questions)

(2×4=8)

11. Read the case given below carefully and answer the questions that follow : 4

Lifelines of National Economy

For a long time, trade and transport were restricted to a limited space. With the development in science and technology, the area of influence of trade and transport expanded far and wide. Today, the world has been converted into a large village with the help of efficient and fast moving transport. Transport has been able to achieve this with the help of equally developed communication system. Therefore, transport, communication and trade are complementary to each other.

Today, India is well-linked with the rest of the world despite its vast size, diversity and linguistic and socio-cultural plurality. Railways, airways, waterways, newspapers, radio, television, cinema and internet, etc. have been contributing to its socio-economic progress in many ways. The trades from local to international levels have added to the vitality of its economy. It has enriched our life and added substantially to growing amenities and facilities for the comforts of life.

- (11.1) How is science an important factor in the development of transport ? 1
- (11.2) How has transport integrated socio-cultural plurality ? Explain. 1
- (11.3) Analyse the significance of communication for a nation. 2

12. Read the case given below carefully and answer the questions that follow : 4

The Independence Day Pledge, 26 January, 1930

‘We believe that it is the inalienable right of the Indian people, as of any other people, to have freedom and to enjoy the fruits of their toil and have the necessities of life, so that they may have full opportunities of growth. We believe also that if any government deprives a people of these rights and oppresses them, the people have a further right to alter it or to abolish it. The British Government in India has not only deprived the Indian people of their freedom but has based itself on the exploitation of the masses, and has ruined India economically, politically, culturally, and spiritually. We believe, therefore, that India must sever the British connection and attain Purna Swaraj or Complete Independence.’

- (12.1) Why was freedom considered an inalienable right of the Indian people ? 1





- (12.2) भारत के लोगों द्वारा पूर्ण स्वराज को आवश्यक क्यों माना गया ? 1
- (12.3) काँग्रेस के लाहौर अधिवेशन (1930) के महत्त्व की व्याख्या कीजिए । 2

खण्ड ड

(मानचित्र-आधारित प्रश्न)

(1+2=3)

13. (i) दिए गए भारत के राजनीतिक रेखा-मानचित्र (पृष्ठ 11 पर), में निम्नलिखित जानकारी की सहायता से 'A' के रूप में चिह्नित स्थान की पहचान कीजिए और उसके पास खींची गई रेखा पर उसका सही नाम लिखिए ।
- A. वह स्थान जहाँ हिंसा के कारण असहयोग आंदोलन को वापिस लिया गया । 1
- (ii) दिए गए भारत के इसी रेखा-मानचित्र पर निम्नलिखित को अंकित कीजिए और उनके नाम लिखिए ।
- (क) (I) नरोरा परमाणु ऊर्जा संयंत्र 1
- अथवा
- (II) बेंगलुरु सॉफ्टवेयर टेक्नोलॉजी पार्क 1
- (ख) इंदिरा गाँधी अन्तर्राष्ट्रीय हवाई पत्तन 1

नोट : निम्नलिखित प्रश्न केवल दृष्टिबाधित परीक्षार्थियों के लिए प्रश्न संख्या 13 के स्थान पर हैं । 3×1=3

- (13.1) उस राज्य का नाम लिखिए जहाँ 1927 में भारतीय राष्ट्रीय काँग्रेस का अधिवेशन हुआ । 1
- (13.2) (क) उस राज्य का नाम लिखिए जहाँ नरोरा परमाणु ऊर्जा संयंत्र स्थित है । 1
- अथवा
- (ख) उस राज्य का नाम लिखिए जहाँ बेंगलुरु सॉफ्टवेयर टेक्नोलॉजी पार्क स्थित है । 1
- (13.3) उस शहर का नाम लिखिए जहाँ इंदिरा गाँधी अंतर्राष्ट्रीय हवाई पत्तन स्थित है । 1





- (12.2) Why was Purna Swaraj considered essential by the people of India ? 1
- (12.3) Explain the significance of the Lahore Session of Congress (1930). 2

SECTION E

(Map-Based Question)

(1+2=3)

13. (i) On the given political outline map of **India** (on page 11), identify the place marked as 'A' with the help of the following information and write its correct name on the line marked near it.
- A. The place where Non-Cooperation Movement was called off due to violence. 1
- (ii) On the same given map of **India**, locate and label the following :
- (a) (I) Narora Nuclear Power Plant 1
- OR**
- (II) Bengaluru Software Technology Park 1
- (b) Indira Gandhi International Airport 1

Note : The following questions are for the **Visually Impaired Candidates** only, in lieu of Q. No. 13. 3×1=3

- (13.1) Name the State where the session of Indian National Congress was held in 1927. 1
- (13.2) (a) Name the State where Narora Nuclear Power Plant is located. 1
- OR**
- (b) Name the State where Bengaluru Software Technology Park is located. 1
- (13.3) Name the city where Indira Gandhi International Airport is located. 1







प्रश्न सं. 13 के लिए

For question no. 13





Series : CQQPP/2

SET ~ 1

रोल नं.
Roll No.

| | | | | | | | |
|--|--|--|--|--|--|--|--|
| | | | | | | | |
|--|--|--|--|--|--|--|--|

प्रश्न-पत्र कोड
Q.P. Code **32/2/1**

परीक्षार्थी प्रश्न-पत्र कोड को उत्तर-पुस्तिका के मुख-पृष्ठ पर अवश्य लिखें।

Candidates must write the Q.P. Code on the title page of the answer-book.

नोट / NOTE :

- (i) कृपया जाँच कर लें कि इस प्रश्न-पत्र में मुद्रित पृष्ठ 12 (मानचित्र सहित) हैं।
Please check that this question paper contains 12 printed pages (Including Map).
- (ii) प्रश्न-पत्र में दाहिने हाथ की ओर दिए गए प्रश्न-पत्र कोड को छात्र उत्तर-पुस्तिका के मुख-पृष्ठ पर लिखें।
Q.P. Code number given on the right hand side of the question paper should be written on the title page of the answer-book by the candidate.
- (iii) कृपया जाँच कर लें कि इस प्रश्न-पत्र में 13 प्रश्न हैं।
Please check that this question paper contains 13 questions.
- (iv) कृपया प्रश्न का उत्तर लिखना शुरू करने से पहले, उत्तर-पुस्तिका में प्रश्न का क्रमांक अवश्य लिखें।
Please write down the Serial Number of the question in the answer-book before attempting it.
- (v) इस प्रश्न-पत्र को पढ़ने के लिए 15 मिनट का समय दिया गया है। प्रश्न-पत्र का वितरण पूर्वाह्न में 10.15 बजे किया जाएगा। 10.15 बजे से 10.30 बजे तक छात्र केवल प्रश्न-पत्र को पढ़ेंगे और इस अवधि के दौरान वे उत्तर-पुस्तिका पर कोई उत्तर नहीं लिखेंगे।
15 minute time has been allotted to read this question paper. The question paper will be distributed at 10.15 a.m. From 10.15 a.m. to 10.30 a.m., the candidates will read the question paper only and will not write any answer on the answer-book during this period. *



सामाजिक विज्ञान



SOCIAL SCIENCE

निर्धारित समय : 2 घण्टे

Time allowed : 2 hours

अधिकतम अंक : 40

Maximum Marks : 40

32/2/1

146 A

Page 1

P.T.O.

सामान्य निर्देश :

निम्नलिखित निर्देशों को बहुत सावधानी से पढ़िए और उनका सख्ती से पालन कीजिए :

- (i) प्रश्न-पत्र में कुल 13 प्रश्न हैं। सभी प्रश्न अनिवार्य हैं।
- (ii) प्रश्न-पत्र पाँच खण्डों में विभाजित है – क, ख, ग, घ एवं ङ।
- (iii) खण्ड-क में प्रश्न संख्या 1 से 5 तक अति लघु-उत्तरीय प्रकार के प्रश्न हैं और प्रत्येक प्रश्न 2 अंकों का है। इन प्रश्नों के उत्तर अधिकतम 40 शब्दों में दिए जाने चाहिए।
- (iv) खण्ड-ख में प्रश्न संख्या 6 से 8 तक लघु-उत्तरीय प्रकार के प्रश्न हैं और प्रत्येक प्रश्न 3 अंकों का है। इन प्रश्नों के उत्तर अधिकतम 80 शब्दों में दिए जाने चाहिए।
- (v) खण्ड-ग में प्रश्न संख्या 9 और 10 दीर्घ-उत्तरीय प्रकार के प्रश्न हैं और प्रत्येक प्रश्न 5 अंकों का है। इन प्रश्नों के उत्तर अधिकतम 120 शब्दों में दिए जाने चाहिए।
- (vi) खण्ड-घ में प्रश्न संख्या 11 और 12 केस आधारित प्रश्न हैं। प्रत्येक प्रश्न 4 अंकों का है।
- (vii) खण्ड-ङ में प्रश्न संख्या 13 मानचित्र आधारित प्रश्न है। यह प्रश्न 3 अंकों का है। यह दो भागों में विभाजित है – 13.1 इतिहास (1 अंक) और 13.2 भूगोल (2 अंक)।
- (viii) प्रश्न-पत्र में कोई समग्र विकल्प नहीं है। हालांकि कुछ प्रश्नों में आंतरिक चयन के विकल्प दिए गए हैं। इन प्रश्नों में से किसी एक विकल्प का उत्तर लिखना है।

*

खण्ड – क

(अति लघु-उत्तरीय प्रश्न)

2 × 5 = 10

1. सविनय अवज्ञा आंदोलन को प्रेरित करने वाले किन्हीं दो कारणों का उल्लेख कीजिए। 2
2. रसायन उद्योग का भारत में विस्तृत फैलाव किस प्रकार है ? स्पष्ट कीजिए। 2
3. सत्तारूढ़ और विपक्षी दलों में अंतर स्पष्ट कीजिए। 2
4. कच्चे माल के आधार पर उद्योगों का वर्गीकरण कीजिए। 2



General Instructions :

Read the following instructions very carefully and strictly follow them :

- (i) *There are **13** questions in the question paper. **All** questions are compulsory.*
- (ii) *This Question paper is divided into **five** Sections – **A, B, C, D** and **E**.*
- (iii) ***Section A** – Question no. **1** to **5** are very short answer type questions of **2** marks each. Answer to each question should not exceed **40** words.*
- (iv) ***Section B** – Question no. **6** to **8** are short answer type questions, carrying **3** marks each. Answer to each question should not exceed **80** words.*
- (v) ***Section C** – Question no. **9** and **10** are long answer type questions, carrying **5** marks each. Answer to each question should not exceed **120** words.*
- (vi) ***Section D** – Question no. **11** and **12** are **Case Based** questions, carrying **4** marks each.*
- (vii) ***Section E** – Question no. **13** is **map** based, carrying **3** marks with **two** parts, **13.1** from *History* (**1** mark) and **13.2** from *Geography* (**2** marks).*
- (viii) *There is no overall choice in the question paper. However, an internal choice has been provided in few questions. Only **one** of the choices in such questions have to be attempted.*

SECTION – A

(Very Short Answer Questions)

2 × 5 = 10

1. Mention any two causes that led to the Civil Disobedience Movement. **2**
2. How is chemical industry in India diversified ? Explain. **2**
3. Differentiate between ruling and opposition parties. **2**
4. Classify industries on the basis of raw materials. **2**



5. निम्नलिखित स्रोत को पढ़िए और उसके नीचे दिए गए प्रश्नों के उत्तर लिखिए : 2

आवास ऋण

मेघा ने घर खरीदने के लिए बैंक से ₹ 5 लाख का कर्ज लिया। इस कर्ज पर ब्याज की वार्षिक दर 12 प्रतिशत है और इस कर्ज को 10 साल में मासिक किश्तों में लौटाया जाना है। मेघा को बैंक से कर्ज लेने से पहले उसे अपनी नौकरी और वेतन संबंधी रिकार्ड दिखाने पड़ते हैं। बैंक नए घर के सभी कागज ऋणाधार के रूप में रख लेता है, जिन्हें मेघा द्वारा ब्याज समेत कर्ज लौटाने पर वापस किया जाएगा।

- 5.1 मेघा ने किस प्रकार के ऋण स्रोत से कर्ज लिया ? 1
- 5.2 इस स्रोत में दी गई ऋण की शर्तों की व्याख्या कीजिए। 1

खण्ड – ख

(लघु-उत्तरीय प्रश्न)

3 × 3 = 9

6. (क) बैंक कुछ-एक उधार लेने वालों को ऋण क्यों नहीं देते हैं ? स्पष्ट कीजिए। 3

अथवा

- (ख) 'स्वयं सहायता समूहों' के कार्यों को स्पष्ट कीजिए। 3

7. "आर्थिक मोर्चे पर असहयोग आंदोलन के प्रभाव अधिक नाटकीय थे।" उदाहरणों सहित इस कथन की पुष्टि कीजिए। 3

8. राजनीतिक दलों का उदय सीधे तौर पर प्रतिनिधि लोकतंत्र के उद्भव से किस प्रकार जुड़ा हुआ है ? स्पष्ट कीजिए। 3

खण्ड – ग

(दीर्घ-उत्तरीय प्रश्न)

5 × 2 = 10

9. (क) "लोकतंत्र लोगों की जरूरतों और माँगों का ध्यान रखता है।" इस कथन को न्यायसंगत ठहराइए। 5

अथवा

- (ख) "लोकतंत्र सामाजिक विविधताओं को समायोजित करता है और नागरिकों को गरिमा और स्वतंत्रता प्रदान करता है।" इस कथन को न्यायसंगत ठहराइए। 5



5. Read the following source and answer the questions that follow : 2

A House Loan

Megha has taken a loan of ₹ 5 lakhs from the bank to purchase a house. The annual interest rate on the loan is 12 per cent and the loan is to be repaid in 10 years in monthly instalments. Megha had to submit to the bank, documents showing her employment records and salary before the bank agreed to give her the loan. The bank retained as collateral the papers of the new house, which will be returned to Megha only when she repays the entire loan with interest.

- 5.1 From which source of credit Megha has taken loan ? 1
5.2 Explain the terms of credit given in the source. 1

SECTION – B

(Short Answer type Questions)

3 × 3 = 9

6. (a) Explain, why the banks do not lend credit to certain borrowers ? 3

OR

- (b) Explain the functions of “Self Help Group”. 3

7. “The effects of Non-Cooperation Movement on the economic front were more dramatic.” Support the statement with examples. 3

8. Explain, how the rise of political parties are directly linked to the emergence of representative democracies. 3

SECTION – C

(Long Answer Type Questions)

5 × 2 = 10

9. (a) “Democracy is attentive to the needs and demands of the people.”
Justify the statement. 5

OR

- (b) “Democracies accommodate social diversities and provide dignity and freedom to the citizens.” Justify the statement. 5



10. (क) “प्रौद्योगिकी, वैश्वीकरण के आधुनिक रूप में एक महत्वपूर्ण शक्ति है।” उपयुक्त उदाहरणों के साथ कथन की व्याख्या कीजिए।

5

अथवा

- (ख) “वैश्वीकरण का प्रभाव एकसमान नहीं रहा है।” उपयुक्त उदाहरणों के साथ कथन की व्याख्या कीजिए।

5

खण्ड – घ

(केस आधारित प्रश्न)

4 × 2 = 8

11. निम्नलिखित केस को ध्यानपूर्वक पढ़िए और उसके नीचे दिए गए प्रश्नों के उत्तर लिखिए :

4

भारत में राष्ट्रवाद

यूरोप में आधुनिक राष्ट्रवाद के साथ ही राष्ट्र-राज्यों का भी उदय हुआ। इससे अपने बारे में लोगों की समझ बदलने लगी। वे कौन हैं, उनकी पहचान किस बात से परिभाषित होती है, यह भावना बदल गई। उनमें राष्ट्र के प्रति लगाव का भाव पैदा होने लगा। नए प्रतीकों और चिह्नों ने, नए गीतों और विचारों ने नए संपर्क स्थापित किए और समुदायों की सीमाओं को दोबारा परिभाषित कर दिया। ज्यादातर देशों में इस नयी राष्ट्रीय पहचान का निर्माण एक लंबी प्रक्रिया में हुआ। आइए देखें कि हमारे देश में यह चेतना किस तरह पैदा हुई ?

दूसरे उपनिवेशों की तरह भारत में भी आधुनिक राष्ट्रवाद के उदय की परिघटना उपनिवेशवाद विरोधी आंदोलन के साथ गहरे तौर पर जुड़ी हुई थी। औपनिवेशिक शासकों के खिलाफ संघर्ष के दौरान लोग आपसी एकता को पहचानने लगे थे। उत्पीड़न और दमन के साझा भाव ने विभिन्न समूहों को एक-दूसरे से बाँध दिया था। लेकिन हर वर्ग और समूह पर उपनिवेशवाद का असर एक जैसा नहीं था। उनके अनुभव भी अलग थे और स्वतंत्रता के मायने भी भिन्न थे। महात्मा गांधी के नेतृत्व में कांग्रेस ने इन समूहों को इकट्ठा करके एक विशाल आंदोलन खड़ा किया। परंतु इस एकता में टकराव के बिंदु भी निहित थे।

11.1 राष्ट्र के प्रति लोगों की समझ क्या थी ?

1

11.2 आधुनिक राष्ट्रवाद का विकास उपनिवेश विरोधी आंदोलन से गहरे तौर पर किस प्रकार जुड़ा था ?

1

11.3 भारत के लोगों में सामूहिक अपनेपन की भावना किस प्रकार विकसित हुई ? स्पष्ट कीजिए।

2



-
10. (a) “Technology is the vital force in the modern form of globalisation.”
Explain the statement with suitable examples. 5

OR

- (b) “The impact of globalisation has not been uniform.” Explain the
statement with suitable examples. 5

SECTION – D

(Case Based Questions)

4 × 2 = 8

11. Read the following case carefully and answer the questions that follows : 4

Nationalism in India

Modern nationalism in Europe came to be associated with the formation of nation-states. It also meant a change in people’s understanding of who they were, and what defined their identity and sense of belonging. New symbols and icons, new songs and ideas forged new links and redefined the boundaries of communities. In most countries the making of this new national identity was a long process. How did this consciousness emerge in India ?

In India and as in many other colonies, the growth of modern nationalism is intimately connected to the anti-colonial movement. People began discovering their unity in the process of their struggle with colonialism. The sense of being oppressed under colonialism provided a shared bond that tied many different groups together. But each class and group felt the effects of colonialism differently, their experiences were varied, and their notions of freedom were not always the same. The Congress under Mahatma Gandhi tried to forge these groups together within one movement. But the unity did not emerge without conflict.

- 11.1 What was people’s understanding of nation ? 1
- 11.2 How was the growth of modern nationalism intimately connected to the anti-colonial movement ? 1
- 11.3 How did people in India develop a sense of collective belonging ?
Explain. 2



12. निम्नलिखित केस को ध्यानपूर्वक पढ़िए और उसके नीचे दिए गए प्रश्नों के उत्तर लिखिए : 4

पर्यटन

पिछले तीन दशकों में भारत में पर्यटन उद्योग में महत्वपूर्ण वृद्धि हुई है। 150 लाख से अधिक व्यक्ति पर्यटन उद्योग में प्रत्यक्ष रूप से संलग्न हैं। पर्यटन राष्ट्रीय एकता को प्रोत्साहित करता है तथा स्थानीय हस्तकला व सांस्कृतिक उद्यमों को प्रश्रय देता है। अंतर्राष्ट्रीय स्तर पर यह हमारी संस्कृति तथा विरासत की समझ विकसित करने में सहायक है। विदेशी पर्यटक भारत में विरासत पर्यटन, पारि-पर्यटन (eco-tourism), रोमांचकारी पर्यटन, सांस्कृतिक पर्यटन, चिकित्सा पर्यटन तथा व्यापारिक पर्यटन के लिए आते हैं।

देश के विभिन्न भागों में पर्यटन के विकास की अपार संभावनाएँ हैं। पर्यटन उद्योग के विकास हेतु विभिन्न प्रकार के पर्यटन को बढ़ावा देने के प्रयास किए जा रहे हैं।

- 12.1 पर्यटन के महत्त्व को स्पष्ट कीजिए। 1
12.2 'विरासत-पर्यटन' का कोई एक उदाहरण दीजिए। 1
12.3 भारत में पर्यटन में सुधार के लाभों का आंकलन कीजिए। 2

खण्ड - ड

(मानचित्र आधारित प्रश्न)

1 + 2 = 3

- 13.1 दिए गए भारत के रेखा मानचित्र पर निम्नलिखित जानकारी की सहायता से 'A' के रूप में चिह्नित स्थान की पहचान कीजिए और उसके पास खींची गई रेखा पर उसका सही नाम लिखिए :
(A) वह स्थान जहाँ भारतीय राष्ट्रीय कांग्रेस का अधिवेशन सितंबर 1920 में हुआ था। 1
- 13.2 दिए गए भारत के इसी रेखा मानचित्र पर निम्नलिखित को अंकित कीजिए और उनके नाम लिखिए :
I. (क) रामागुंडम् तापीय ऊर्जा संयंत्र 1
अथवा
(ख) पुणे सॉफ्टवेयर टेक्नोलॉजी पार्क 1
II. चेन्नई (मीनाम्बकम) अंतर्राष्ट्रीय हवाई-पत्तन 1

नोट : निम्नलिखित प्रश्न केवल प्रश्न संख्या 13 के स्थान पर दृष्टिबाधित परीक्षार्थियों के लिए है :

- 13.1 उस राज्य का नाम लिखिए जहाँ जलियाँवाला बाग हत्याकांड हुआ था। 1
13.2 (क) उस राज्य का नाम लिखिए जहाँ रामागुंडम् तापीय ऊर्जा संयंत्र स्थित है। 1

अथवा

- (ख) उस राज्य का नाम लिखिए जहाँ पुणे सॉफ्टवेयर टेक्नोलॉजी पार्क स्थित है। 1
13.3 उस राज्य का नाम लिखिए जहाँ चेन्नई मीनाम्बकम अंतर्राष्ट्रीय हवाई-पत्तन स्थित है। 1



12. Read the following case and answer the questions that follows : 4

Tourism

Tourism in India has grown substantially over the last three decades. More than 15 million people are directly engaged in the tourism industry. Tourism also promotes national integration, provides support to local handicrafts and cultural pursuits. It also helps in the development of international understanding about our culture and heritage. Foreign tourists visit India for heritage tourism, eco tourism, adventure tourism, cultural tourism, medical tourism and business tourism.

There is a vast potential for development of tourism in all parts of the country. Efforts are being made to promote different types of tourism for this upcoming industry.

- 12.1 Explain the importance of tourism. 1
12.2 Give an example of 'Heritage tourism'. 1
12.3 Assess the benefits of improving tourism in India. 2

SECTION – E

(Map based questions)

1 + 2 = 3

- 13.1 On the given outline Political Map of India, identify the place marked as 'A' with the help of following information and write its correct name on the line marked near it :

(A) The place where Indian National Congress Session was held in September, 1920. 1

- 13.2 On the same given Map of India, locate and label the following :

I. (a) Ramagundam Thermal Plant 1

OR

(b) Pune Software Technology Park. 1

II. Chennai (Meenambakam) International Airport. 1

Note : The following questions are for Visually Impaired Candidates only in lieu of Q. NO. 13.

13.1 Name the state where Jallianwala Bagh Massacre took place. 1

13.2 (a) Name the State where Ramagundam Thermal Power is located. 1

OR

(b) Name the State where Pune Software Technology Park is located. 1

13.3 Name the State where Chennai (Meenambakam) International Airport is located ? 1







प्रश्न सं. 13 के लिए मानचित्र
Map for Q. No. 13

----- Cut Here ----- यहाँ से काटें ----- Cut Here ----- यहाँ से काटें -----





*





Series : CQQPP/2

SET ~ 2

प्रश्न-पत्र कोड
Q.P. Code **32/2/2**

रोल नं.
Roll No.

| | | | | | | | |
|--|--|--|--|--|--|--|--|
| | | | | | | | |
|--|--|--|--|--|--|--|--|

परीक्षार्थी प्रश्न-पत्र कोड को उत्तर-पुस्तिका के मुख-पृष्ठ पर अवश्य लिखें।
Candidates must write the Q.P. Code on the title page of the answer-book.

नोट / NOTE :

- (i) कृपया जाँच कर लें कि इस प्रश्न-पत्र में मुद्रित पृष्ठ 12 (मानचित्र सहित) हैं।
Please check that this question paper contains 12 printed pages (Including Map).
- (ii) प्रश्न-पत्र में दाहिने हाथ की ओर दिए गए प्रश्न-पत्र कोड को छात्र उत्तर-पुस्तिका के मुख-पृष्ठ पर लिखें।
Q.P. Code number given on the right hand side of the question paper should be written on the title page of the answer-book by the candidate.
- (iii) कृपया जाँच कर लें कि इस प्रश्न-पत्र में 13 प्रश्न हैं।
Please check that this question paper contains 13 questions.
- (iv) कृपया प्रश्न का उत्तर लिखना शुरू करने से पहले, उत्तर-पुस्तिका में प्रश्न का क्रमांक अवश्य लिखें।
Please write down the Serial Number of the question in the answer-book before attempting it.
- (v) इस प्रश्न-पत्र को पढ़ने के लिए 15 मिनट का समय दिया गया है। प्रश्न-पत्र का वितरण पूर्वाह्न में 10.15 बजे किया जाएगा। 10.15 बजे से 10.30 बजे तक छात्र केवल प्रश्न-पत्र को पढ़ेंगे और इस अवधि के दौरान वे उत्तर-पुस्तिका पर कोई उत्तर नहीं लिखेंगे।
15 minute time has been allotted to read this question paper. The question paper will be distributed at 10.15 a.m. From 10.15 a.m. to 10.30 a.m., the candidates will read the question paper only and will not write any answer on the answer-book during this period. *



सामाजिक विज्ञान



SOCIAL SCIENCE

निर्धारित समय : 2 घण्टे
Time allowed : 2 hours

अधिकतम अंक : 40
Maximum Marks : 40

32/2/2

146 B

Page 1

P.T.O.

सामान्य निर्देश :

निम्नलिखित निर्देशों को बहुत सावधानी से पढ़िए और उनका सख्ती से पालन कीजिए :

- (i) प्रश्न-पत्र में कुल 13 प्रश्न हैं। सभी प्रश्न अनिवार्य हैं।
- (ii) प्रश्न-पत्र पाँच खण्डों में विभाजित है – क, ख, ग, घ एवं ङ।
- (iii) खण्ड-क में प्रश्न संख्या 1 से 5 तक अति लघु-उत्तरीय प्रकार के प्रश्न हैं और प्रत्येक प्रश्न 2 अंकों का है। इन प्रश्नों के उत्तर अधिकतम 40 शब्दों में दिए जाने चाहिए।
- (iv) खण्ड-ख में प्रश्न संख्या 6 से 8 तक लघु-उत्तरीय प्रकार के प्रश्न हैं और प्रत्येक प्रश्न 3 अंकों का है। इन प्रश्नों के उत्तर अधिकतम 80 शब्दों में दिए जाने चाहिए।
- (v) खण्ड-ग में प्रश्न संख्या 9 और 10 दीर्घ-उत्तरीय प्रकार के प्रश्न हैं और प्रत्येक प्रश्न 5 अंकों का है। इन प्रश्नों के उत्तर अधिकतम 120 शब्दों में दिए जाने चाहिए।
- (vi) खण्ड-घ में प्रश्न संख्या 11 और 12 केस आधारित प्रश्न हैं। प्रत्येक प्रश्न 4 अंकों का है।
- (vii) खण्ड-ङ में प्रश्न संख्या 13 मानचित्र आधारित प्रश्न है। यह प्रश्न 3 अंकों का है। यह दो भागों में विभाजित है – 13.1 इतिहास (1 अंक) और 13.2 भूगोल (2 अंक)।
- (viii) प्रश्न-पत्र में कोई समग्र विकल्प नहीं है। हालांकि कुछ प्रश्नों में आंतरिक चयन के विकल्प दिए गए हैं। इन प्रश्नों में से किसी एक विकल्प का उत्तर लिखना है।

*

खण्ड – क

(अति लघु-उत्तरीय प्रश्न)

2 × 5 = 10

1. किन्हीं दो कारणों का उल्लेख कीजिए, जिनके कारण असहयोग आंदोलन शुरू हुआ। 2
2. भारत में एल्युमिनियम प्रगलन दूसरा सर्वाधिक महत्वपूर्ण धातु शोधन उद्योग क्यों है? स्पष्ट कीजिए। 2
3. निम्नलिखित स्रोत को पढ़िए और उसके नीचे दिए गए प्रश्नों के उत्तर लिखिए : 2

आवास ऋण

मेघा ने घर खरीदने के लिए बैंक से ₹ 5 लाख का कर्ज लिया। इस कर्ज पर ब्याज की वार्षिक दर 12 प्रतिशत है और इस कर्ज को 10 साल में मासिक किश्तों में लौटाया जाना है। मेघा को बैंक से कर्ज लेने से पहले उसे अपनी नौकरी और वेतन संबंधी रिकार्ड दिखाने पड़ते हैं। बैंक नए घर के सभी कागज ऋणाधार के रूप में रख लेता है, जिन्हें मेघा द्वारा ब्याज समेत कर्ज लौटाने पर वापस किया जाएगा।

- 3.1 मेघा ने किस प्रकार के ऋण स्रोत से कर्ज लिया? 1
- 3.2 इस स्रोत में दी गई ऋण की शर्तों की व्याख्या कीजिए। 1



—————

General Instructions :

Read the following instructions very carefully and strictly follow them :

- (i) There are **13** questions in the question paper. **All** questions are compulsory.
- (ii) This Question paper is divided into **five** Sections – **A, B, C, D** and **E**.
- (iii) **Section A** – Question no. **1** to **5** are very short answer type questions of **2** marks each. Answer to each question should not exceed **40** words.
- (iv) **Section B** – Question no. **6** to **8** are short answer type questions, carrying **3** marks each. Answer to each question should not exceed **80** words.
- (v) **Section C** – Question no. **9** and **10** are long answer type questions, carrying **5** marks each. Answer to each question should not exceed **120** words.
- (vi) **Section D** – Question no. **11** and **12** are **Case Based** questions, carrying **4** marks each.
- (vii) **Section E** – Question no. **13** is **map** based, carrying **3** marks with **two** parts, **13.1** from **History (1 mark)** and **13.2** from **Geography (2 marks)**.
- (viii) There is no overall choice in the question paper. However, an internal choice has been provided in few questions. Only **one** of the choices in such questions have to be attempted.

SECTION – A

(Very Short Answer Questions)

2 × 5 = 10

1. Mention any two causes that led to the Non-Cooperation Movement. **2**
2. Why is Aluminum Smelting the second most important metallurgical industry in India ? Explain. **2**
3. Read the following source and answer the questions that follow : **2**

A House Loan

Megha has taken a loan of ₹ 5 lakhs from the bank to purchase a house. The annual interest rate on the loan is 12 per cent and the loan is to be repaid in 10 years in monthly instalments. Megha had to submit to the bank, documents showing her employment records and salary before the bank agreed to give her the loan. The bank retained as collateral the papers of the new house, which will be returned to Megha only when she repays the entire loan with interest.

- 3.1 From which source of credit Megha has taken loan ? **1**
- 3.2 Explain the terms of credit given in the source. **1**



-
4. सत्तारूढ़ और विपक्षी दलों में अंतर स्पष्ट कीजिए। 2
5. कच्चे माल के आधार पर उद्योगों का वर्गीकरण कीजिए। 2

खण्ड – ख

(लघु-उत्तरीय प्रश्न)

3 × 3 = 9

6. राजनीतिक दलों का उदय सीधे तौर पर प्रतिनिधि लोकतंत्र के उद्भव से किस प्रकार जुड़ा हुआ है ? स्पष्ट कीजिए। 3
7. विभिन्न सामाजिक समूहों ने 'सविनय अवज्ञा आंदोलन' में भाग क्यों लिया ? उदाहरणों के साथ स्पष्ट कीजिए। 3
8. (क) बैंक कुछ-एक उधार लेने वालों को ऋण क्यों नहीं देते हैं ? स्पष्ट कीजिए। 3

अथवा

- (ख) 'स्वयं सहायता समूहों' के कार्यों को स्पष्ट कीजिए। 3

खण्ड – ग

(दीर्घ-उत्तरीय प्रश्न)

5 × 2 = 10

9. (क) "लोकतंत्र किसी भी वैकल्पिक सरकार से बेहतर है।" इस कथन को न्यायसंगत ठहराइए। 5

अथवा

- (ख) "लोकतंत्र जवाबदेह, उत्तरदायी और वैध सरकार है।" इस कथन को न्यायसंगत ठहराइए। 5

10. (क) "प्रौद्योगिकी, वैश्वीकरण के आधुनिक रूप में एक महत्वपूर्ण शक्ति है।" उपयुक्त उदाहरणों के साथ कथन की व्याख्या कीजिए। 5

अथवा

- (ख) "वैश्वीकरण का प्रभाव एकसमान नहीं रहा है।" उपयुक्त उदाहरणों के साथ कथन की व्याख्या कीजिए। 5



-
4. Differentiate between ruling and opposition parties. 2
5. Classify industries on the basis of raw materials. 2

SECTION – B

(Short Answer type Questions)

3 × 3 = 9

6. Explain, how the rise of political parties are directly linked to the emergence of representative democracies. 3
7. Why were different social groups participate in the ‘Civil Disobedience Movement’ ? Explain with examples. 3
8. (a) Explain, why the banks do not lend credit to certain borrowers ? 3
- OR**
- (b) Explain the functions of “Self Help Group”. 3

SECTION – C

(Long Answer Type Questions)

5 × 2 = 10

9. (a) “Democracy is better than any other alternative government.” Justify the statement. 5
- OR**
- (b) ‘Democracy is accountable, responsive and legitimate government.’ Justify the statement. 5
10. (a) “Technology is the vital force in the modern form of globalisation.” Explain the statement with suitable examples. 5
- OR**
- (b) “The impact of globalisation has not been uniform.” Explain the statement with suitable examples. 5



खण्ड – घ

(केस आधारित प्रश्न)

4 × 2 = 8

11. निम्नलिखित केस को ध्यानपूर्वक पढ़िए और उसके नीचे दिए गए प्रश्नों के उत्तर लिखिए : 4

पर्यटन

पिछले तीन दशकों में भारत में पर्यटन उद्योग में महत्वपूर्ण वृद्धि हुई है। 150 लाख से अधिक व्यक्ति पर्यटन उद्योग में प्रत्यक्ष रूप से संलग्न हैं। पर्यटन राष्ट्रीय एकता को प्रोत्साहित करता है तथा स्थानीय हस्तकला व सांस्कृतिक उद्यमों को प्रश्रय देता है। अंतर्राष्ट्रीय स्तर पर यह हमारी संस्कृति तथा विरासत की समझ विकसित करने में सहायक है। विदेशी पर्यटक भारत में विरासत पर्यटन, पारि-पर्यटन (eco-tourism), रोमांचकारी पर्यटन, सांस्कृतिक पर्यटन, चिकित्सा पर्यटन तथा व्यापारिक पर्यटन के लिए आते हैं।

देश के विभिन्न भागों में पर्यटन के विकास की अपार संभावनाएँ हैं। पर्यटन उद्योग के विकास हेतु विभिन्न प्रकार के पर्यटन को बढ़ावा देने के प्रयास किए जा रहे हैं।

- 11.1 पर्यटन के महत्व को स्पष्ट कीजिए। 1
- 11.2 'विरासत-पर्यटन' का कोई एक उदाहरण दीजिए। 1
- 11.3 भारत में पर्यटन में सुधार के लाभों का आंकलन कीजिए। 2

12. निम्नलिखित केस को ध्यानपूर्वक पढ़िए और उसके नीचे दिए गए प्रश्नों के उत्तर लिखिए : 4

भारत में राष्ट्रवाद

यूरोप में आधुनिक राष्ट्रवाद के साथ ही राष्ट्र-राज्यों का भी उदय हुआ। इससे अपने बारे में लोगों की समझ बदलने लगी। वे कौन हैं, उनकी पहचान किस बात से परिभाषित होती है, यह भावना बदल गई। उनमें राष्ट्र के प्रति लगाव का भाव पैदा होने लगा। नए प्रतीकों और चिह्नों ने, नए गीतों और विचारों ने नए संपर्क स्थापित किए और समुदायों की सीमाओं को दोबारा परिभाषित कर दिया। ज्यादातर देशों में इस नयी राष्ट्रीय पहचान का निर्माण एक लंबी प्रक्रिया में हुआ। आइए देखें कि हमारे देश में यह चेतना किस तरह पैदा हुई ?

दूसरे उपनिवेशों की तरह भारत में भी आधुनिक राष्ट्रवाद के उदय की परिघटना उपनिवेशवाद विरोधी आंदोलन के साथ गहरे तौर पर जुड़ी हुई थी। औपनिवेशिक शासकों के खिलाफ संघर्ष के दौरान लोग आपसी एकता को पहचानने लगे थे। उत्पीड़न और दमन के साझा भाव ने विभिन्न समूहों को एक-दूसरे से बाँध दिया था। लेकिन हर वर्ग और समूह पर उपनिवेशवाद का असर एक जैसा नहीं था। उनके अनुभव भी अलग थे और स्वतंत्रता के मायने भी भिन्न थे। महात्मा गांधी के नेतृत्व में कांग्रेस ने इन समूहों को इकट्ठा करके एक विशाल आंदोलन खड़ा किया। परंतु इस एकता में टकराव के बिंदु भी निहित थे।



SECTION - D

(Case Based Questions)

4 × 2 = 8

11. Read the following case and answer the questions that follows : 4

Tourism

Tourism in India has grown substantially over the last three decades. More than 15 million people are directly engaged in the tourism industry. Tourism also promotes national integration, provides support to local handicrafts and cultural pursuits. It also helps in the development of international understanding about our culture and heritage. Foreign tourists visit India for heritage tourism, eco tourism, adventure tourism, cultural tourism, medical tourism and business tourism.

There is a vast potential for development of tourism in all parts of the country. Efforts are being made to promote different types of tourism for this upcoming industry.

- 11.1 Explain the importance of tourism. 1
- 11.2 Give an example of 'Heritage tourism'. 1
- 11.3 Assess the benefits of improving tourism in India. 2
12. Read the following case carefully and answer the questions that follows : 4

Nationalism in India

Modern nationalism in Europe came to be associated with the formation of nation-states. It also meant a change in people's understanding of who they were, and what defined their identity and sense of belonging. New symbols and icons, new songs and ideas forged new links and redefined the boundaries of communities. In most countries the making of this new national identity was a long process. How did this consciousness emerge in India ?

In India and as in many other colonies, the growth of modern nationalism is intimately connected to the anti-colonial movement. People began discovering their unity in the process of their struggle with colonialism. The sense of being oppressed under colonialism provided a shared bond that tied many different groups together. But each class and group felt the effects of colonialism differently, their experiences were varied, and their notions of freedom were not always the same. The Congress under Mahatma Gandhi tried to forge these groups together within one movement. But the unity did not emerge without conflict.



-
- 12.1 राष्ट्र के प्रति लोगों की समझ क्या थी ? 1
- 12.2 आधुनिक राष्ट्रवाद का विकास उपनिवेश विरोधी आंदोलन से गहरे तौर पर किस प्रकार जुड़ा था ? 1
- 12.3 भारत के लोगों में सामूहिक अपनेपन की भावना किस प्रकार विकसित हुई ? स्पष्ट कीजिए । 2

खण्ड – ड

(मानचित्र आधारित प्रश्न)

1 + 2 = 3

- 13.1 दिए गए भारत के रेखा मानचित्र पर निम्नलिखित जानकारी की सहायता से 'A' के रूप में चिह्नित स्थान की पहचान कीजिए और उसके पास खींची गई रेखा पर उसका सही नाम लिखिए :
- (A) वह स्थान जहाँ भारतीय राष्ट्रीय कांग्रेस का अधिवेशन सितंबर 1920 में हुआ था । 1
- 13.2 दिए गए भारत के इसी रेखा मानचित्र पर निम्नलिखित को अंकित कीजिए और उनके नाम लिखिए :
- I. (क) रामागुंडम् तापीय ऊर्जा संयंत्र 1

अथवा

- (ख) पुणे सॉफ्टवेयर टेक्नोलॉजी पार्क 1
- II. चेन्नई (मीनाम्बकम) अंतर्राष्ट्रीय हवाई-पत्तन 1

नोट : निम्नलिखित प्रश्न केवल प्रश्न संख्या 13 के स्थान पर दृष्टिबाधित परीक्षार्थियों के लिए है :

- 13.1 उस राज्य का नाम लिखिए जहाँ जलियाँवाला बाग हत्याकांड हुआ था । 1
- 13.2 (क) उस राज्य का नाम लिखिए जहाँ रामागुंडम् तापीय ऊर्जा संयंत्र स्थित है । 1

अथवा

- (ख) उस राज्य का नाम लिखिए जहाँ पुणे सॉफ्टवेयर टेक्नोलॉजी पार्क स्थित है । 1
- 13.3 उस राज्य का नाम लिखिए जहाँ चेन्नई मीनाम्बकम अंतर्राष्ट्रीय हवाई-पत्तन स्थित है । 1



-
- 12.1 What was people's understanding of nation ? 1
- 12.2 How was the growth of modern nationalism intimately connected to the anti-colonial movement ? 1
- 12.3 How did people in India develop a sense of collective belonging ? Explain. 2

SECTION - E

(Map based questions)

1 + 2 = 3

- 13.1 On the given outline Political Map of India, identify the place marked as 'A' with the help of following information and write its correct name on the line marked near it :
- (A) The place where Indian National Congress Session was held in September, 1920. 1
- 13.2 On the same given Map of India, locate and label the following :
- I. (a) Ramagundam Thermal Plant 1

OR

- (b) Pune Software Technology Park. 1
- II. Chennai (Meenambakam) International Airport. 1

Note : The following questions are for Visually Impaired Candidates only in lieu of Q. NO. 13.

- 13.1 Name the state where Jallianwala Bagh Massacre took place. 1
- 13.2 (a) Name the State where Ramagundam Thermal Power is located. 1

OR

- (b) Name the State where Pune Software Technology Park is located. 1
- 13.3 Name the State where Chennai (Meenambakam) International Airport is located ? 1







प्रश्न सं. 13 के लिए मानचित्र
Map for Q. No. 13

----- यहाँ से काटें ----- Cut Here ----- यहाँ से काटें -----





*





Series : CQQPP/2

SET ~ 3

प्रश्न-पत्र कोड
Q.P. Code **32/2/3**

रोल नं.
Roll No.

| | | | | | | | |
|--|--|--|--|--|--|--|--|
| | | | | | | | |
|--|--|--|--|--|--|--|--|

परीक्षार्थी प्रश्न-पत्र कोड को उत्तर-पुस्तिका के मुख-पृष्ठ पर अवश्य लिखें।
Candidates must write the Q.P. Code on the title page of the answer-book.

नोट / NOTE :

- (i) कृपया जाँच कर लें कि इस प्रश्न-पत्र में मुद्रित पृष्ठ 12 (मानचित्र सहित) हैं।
Please check that this question paper contains 12 printed pages (Including Map).
- (ii) प्रश्न-पत्र में दाहिने हाथ की ओर दिए गए प्रश्न-पत्र कोड को छात्र उत्तर-पुस्तिका के मुख-पृष्ठ पर लिखें।
Q.P. Code number given on the right hand side of the question paper should be written on the title page of the answer-book by the candidate.
- (iii) कृपया जाँच कर लें कि इस प्रश्न-पत्र में 13 प्रश्न हैं।
Please check that this question paper contains 13 questions.
- (iv) कृपया प्रश्न का उत्तर लिखना शुरू करने से पहले, उत्तर-पुस्तिका में प्रश्न का क्रमांक अवश्य लिखें।
Please write down the Serial Number of the question in the answer-book before attempting it.
- (v) इस प्रश्न-पत्र को पढ़ने के लिए 15 मिनट का समय दिया गया है। प्रश्न-पत्र का वितरण पूर्वाह्न में 10.15 बजे किया जाएगा। 10.15 बजे से 10.30 बजे तक छात्र केवल प्रश्न-पत्र को पढ़ेंगे और इस अवधि के दौरान वे उत्तर-पुस्तिका पर कोई उत्तर नहीं लिखेंगे।
15 minute time has been allotted to read this question paper. The question paper will be distributed at 10.15 a.m. From 10.15 a.m. to 10.30 a.m., the candidates will read the question paper only and will not write any answer on the answer-book during this period. *



सामाजिक विज्ञान



SOCIAL SCIENCE

निर्धारित समय : 2 घण्टे
Time allowed : 2 hours

अधिकतम अंक : 40
Maximum Marks : 40

32/2/3

146 C

Page 1

P.T.O.

सामान्य निर्देश :

निम्नलिखित निर्देशों को बहुत सावधानी से पढ़िए और उनका सख्ती से पालन कीजिए :

- (i) प्रश्न-पत्र में कुल 13 प्रश्न हैं। सभी प्रश्न अनिवार्य हैं।
- (ii) प्रश्न-पत्र पाँच खण्डों में विभाजित है – क, ख, ग, घ एवं ङ।
- (iii) खण्ड-क में प्रश्न संख्या 1 से 5 तक अति लघु-उत्तरीय प्रकार के प्रश्न हैं और प्रत्येक प्रश्न 2 अंकों का है। इन प्रश्नों के उत्तर अधिकतम 40 शब्दों में दिए जाने चाहिए।
- (iv) खण्ड-ख में प्रश्न संख्या 6 से 8 तक लघु-उत्तरीय प्रकार के प्रश्न हैं और प्रत्येक प्रश्न 3 अंकों का है। इन प्रश्नों के उत्तर अधिकतम 80 शब्दों में दिए जाने चाहिए।
- (v) खण्ड-ग में प्रश्न संख्या 9 और 10 दीर्घ-उत्तरीय प्रकार के प्रश्न हैं और प्रत्येक प्रश्न 5 अंकों का है। इन प्रश्नों के उत्तर अधिकतम 120 शब्दों में दिए जाने चाहिए।
- (vi) खण्ड-घ में प्रश्न संख्या 11 और 12 केस आधारित प्रश्न हैं। प्रत्येक प्रश्न 4 अंकों का है।
- (vii) खण्ड-ङ में प्रश्न संख्या 13 मानचित्र आधारित प्रश्न है। यह प्रश्न 3 अंकों का है। यह दो भागों में विभाजित है – 13.1 इतिहास (1 अंक) और 13.2 भूगोल (2 अंक)।
- (viii) प्रश्न-पत्र में कोई समग्र विकल्प नहीं है। हालांकि कुछ प्रश्नों में आंतरिक चयन के विकल्प दिए गए हैं। इन प्रश्नों में से किसी एक विकल्प का उत्तर लिखना है।

*

खण्ड – क

(अति लघु-उत्तरीय प्रश्न)

2 × 5 = 10

1. सविनय अवज्ञा आंदोलन के प्रति 'फेडरेशन ऑफ द इंडियन चैंबर ऑफ कॉमर्स इंडस्ट्रीज' (FICCI) के विचारों का उल्लेख कीजिए। 2
2. औद्योगिक प्रदूषण से स्वच्छ जल को कैसे बचाया जा सकता है? 2
3. कच्चे माल के आधार पर उद्योगों का वर्गीकरण कीजिए। 2
4. सत्तारूढ़ और विपक्षी दलों में अंतर स्पष्ट कीजिए। 2



General Instructions :

Read the following instructions very carefully and strictly follow them :

- (i) *There are **13** questions in the question paper. All questions are compulsory.*
- (ii) *This Question paper is divided into **five** Sections – **A, B, C, D** and **E**.*
- (iii) ***Section A** – Question no. **1** to **5** are very short answer type questions of **2** marks each. Answer to each question should not exceed **40** words.*
- (iv) ***Section B** – Question no. **6** to **8** are short answer type questions, carrying **3** marks each. Answer to each question should not exceed **80** words.*
- (v) ***Section C** – Question no. **9** and **10** are long answer type questions, carrying **5** marks each. Answer to each question should not exceed **120** words.*
- (vi) ***Section D** – Question no. **11** and **12** are **Case Based** questions, carrying **4** marks each.*
- (vii) ***Section E** – Question no. **13** is **map** based, carrying **3** marks with **two** parts, **13.1** from *History* (**1** mark) and **13.2** from *Geography* (**2** marks).*
- (viii) *There is no overall choice in the question paper. However, an internal choice has been provided in few questions. Only **one** of the choices in such questions have to be attempted.*

SECTION – A

(Very Short Answer Questions)

2 × 5 = 10

1. Mention the views of the Federation of the Indian Chamber of Commerce and Industries (FICCI) towards the Civil Disobedience Movement. **2**
2. How can the industrial pollution of fresh water be reduced ? **2**
3. Classify industries on the basis of raw materials. **2**
4. Differentiate between ruling and opposition parties. **2**



5. निम्नलिखित स्रोत को पढ़िए और उसके नीचे दिए गए प्रश्नों के उत्तर लिखिए : 2

आवास ऋण

मेघा ने घर खरीदने के लिए बैंक से ₹ 5 लाख का कर्ज लिया। इस कर्ज पर ब्याज की वार्षिक दर 12 प्रतिशत है और इस कर्ज को 10 साल में मासिक किश्तों में लौटाया जाना है। मेघा को बैंक से कर्ज लेने से पहले उसे अपनी नौकरी और वेतन संबंधी रिकार्ड दिखाने पड़ते हैं। बैंक नए घर के सभी कागज ऋणाधार के रूप में रख लेता है, जिन्हें मेघा द्वारा ब्याज समेत कर्ज लौटाने पर वापस किया जाएगा।

- 5.1 मेघा ने किस प्रकार के ऋण स्रोत से कर्ज लिया ? 1
- 5.2 इस स्रोत में दी गई ऋण की शर्तों की व्याख्या कीजिए। 1

खण्ड – ख

(लघु-उत्तरीय प्रश्न)

3 × 3 = 9

6. (क) बैंक कुछ-एक उधार लेने वालों को ऋण क्यों नहीं देते हैं ? स्पष्ट कीजिए। 3

अथवा

- (ख) 'स्वयं सहायता समूहों' के कार्यों को स्पष्ट कीजिए। 3

7. "महात्मा गांधी के विचारों और स्वराज की अवधारणा के बारे में मजदूरों की अपनी समझ थी।" असम के उदाहरण के साथ कथन को स्पष्ट कीजिए। 3

8. राजनीतिक दलों का उदय सीधे तौर पर प्रतिनिधि लोकतंत्र के उद्भव से किस प्रकार जुड़ा हुआ है ? स्पष्ट कीजिए। 3

खण्ड – ग

(दीर्घ-उत्तरीय प्रश्न)

5 × 2 = 10

9. (क) "महिलाओं के साथ गरिमा और समानता का व्यवहार लोकतंत्र समाज की जरूरी शर्त है।" कथन को न्यायसंगत ठहराइए। 5

अथवा

- (ख) "भारत में लोकतंत्र ने समान स्थिति और समान अवसर के दावों को मजबूत किया है।" इस कथन को न्यायसंगत ठहराइए। 5



5. Read the following source and answer the questions that follow : 2

A House Loan

Megha has taken a loan of ₹ 5 lakhs from the bank to purchase a house. The annual interest rate on the loan is 12 per cent and the loan is to be repaid in 10 years in monthly instalments. Megha had to submit to the bank, documents showing her employment records and salary before the bank agreed to give her the loan. The bank retained as collateral the papers of the new house, which will be returned to Megha only when she repays the entire loan with interest.

- 5.1 From which source of credit Megha has taken loan ? 1
5.2 Explain the terms of credit given in the source. 1

SECTION – B

(Short Answer type Questions)

3 × 3 = 9

6. (a) Explain, why the banks do not lend credit to certain borrowers ? 3

OR

- (b) Explain the functions of “Self Help Group”. 3

7. “Workers too had their own understanding of Mahatma Gandhi’s thoughts and the notion of Swaraj.” Explain the statement with the example of Assam. 3

8. Explain, how the rise of political parties are directly linked to the emergence of representative democracies. 3

SECTION – C

(Long Answer Type Questions)

5 × 2 = 10

9. (a) “Dignity and equal treatment of women are necessary ingredients of a democratic society.” Justify the statement. 5

OR

- (b) ‘Democracy in India has strengthened the claim for equal status and equal opportunities.’ Justify the statement. 5



10. (क) “प्रौद्योगिकी, वैश्वीकरण के आधुनिक रूप में एक महत्वपूर्ण शक्ति है।” उपयुक्त उदाहरणों के साथ कथन की व्याख्या कीजिए।

5

अथवा

- (ख) “वैश्वीकरण का प्रभाव एकसमान नहीं रहा है।” उपयुक्त उदाहरणों के साथ कथन की व्याख्या कीजिए।

5

खण्ड – घ

(केस आधारित प्रश्न)

4 × 2 = 8

11. निम्नलिखित स्रोत को ध्यानपूर्वक पढ़िए और नीचे दिए गए प्रश्नों के उत्तर लिखिए :

4

भारत में राष्ट्रवाद

यूरोप में आधुनिक राष्ट्रवाद के साथ ही राष्ट्र-राज्यों का भी उदय हुआ। इससे अपने बारे में लोगों की समझ बदलने लगी। वे कौन हैं, उनकी पहचान किस बात से परिभाषित होती है, यह भावना बदल गई। उनमें राष्ट्र के प्रति लगाव का भाव पैदा होने लगा। नए प्रतीकों और चिह्नों ने, नए गीतों और विचारों ने नए संपर्क स्थापित किए और समुदायों की सीमाओं को दोबारा परिभाषित कर दिया। ज्यादातर देशों में इस नयी राष्ट्रीय पहचान का निर्माण एक लंबी प्रक्रिया में हुआ। आइए देखें कि हमारे देश में यह चेतना किस तरह पैदा हुई ?

दूसरे उपनिवेशों की तरह भारत में भी आधुनिक राष्ट्रवाद के उदय की परिघटना उपनिवेशवाद विरोधी आंदोलन के साथ गहरे तौर पर जुड़ी हुई थी। औपनिवेशिक शासकों के खिलाफ संघर्ष के दौरान लोग आपसी एकता को पहचानने लगे थे। उत्पीड़न और दमन के साझा भाव ने विभिन्न समूहों को एक-दूसरे से बाँध दिया था। लेकिन हर वर्ग और समूह पर उपनिवेशवाद का असर एक जैसा नहीं था। उनके अनुभव भी अलग थे और स्वतंत्रता के मायने भी भिन्न थे। महात्मा गांधी के नेतृत्व में कांग्रेस ने इन समूहों को इकट्ठा करके एक विशाल आंदोलन खड़ा किया। परंतु इस एकता में टकराव के बिंदु भी निहित थे।

11.1 राष्ट्र के प्रति लोगों की समझ क्या थी ?

1

11.2 आधुनिक राष्ट्रवाद का विकास उपनिवेश विरोधी आंदोलन से गहरे तौर पर किस प्रकार जुड़ा था ?

1

11.3 भारत के लोगों में सामूहिक अपनेपन की भावना किस प्रकार विकसित हुई ? स्पष्ट कीजिए।

2



-
10. (a) “Technology is the vital force in the modern form of globalisation.”
Explain the statement with suitable examples. 5

OR

- (b) “The impact of globalisation has not been uniform.” Explain the
statement with suitable examples. 5

SECTION – D

(Case Based Questions)

4 × 2 = 8

11. Read the following case carefully and answer the questions that follows : 4

Nationalism in India

Modern nationalism in Europe came to be associated with the formation of nation-states. It also meant a change in people’s understanding of who they were, and what defined their identity and sense of belonging. New symbols and icons, new songs and ideas forged new links and redefined the boundaries of communities. In most countries the making of this new national identity was a long process. How did this consciousness emerge in India ?

In India and as in many other colonies, the growth of modern nationalism is intimately connected to the anti-colonial movement. People began discovering their unity in the process of their struggle with colonialism. The sense of being oppressed under colonialism provided a shared bond that tied many different groups together. But each class and group felt the effects of colonialism differently, their experiences were varied, and their notions of freedom were not always the same. The Congress under Mahatma Gandhi tried to forge these groups together within one movement. But the unity did not emerge without conflict.

- 11.1 What was people’s understanding of nation ? 1
- 11.2 How was the growth of modern nationalism intimately connected to the anti-colonial movement ? 1
- 11.3 How did people in India develop a sense of collective belonging ?
Explain. 2



12. निम्नलिखित केस को ध्यानपूर्वक पढ़िए और उसके नीचे दिए गए प्रश्नों के उत्तर लिखिए : 4

पर्यटन

पिछले तीन दशकों में भारत में पर्यटन उद्योग में महत्वपूर्ण वृद्धि हुई है। 150 लाख से अधिक व्यक्ति पर्यटन उद्योग में प्रत्यक्ष रूप से संलग्न हैं। पर्यटन राष्ट्रीय एकता को प्रोत्साहित करता है तथा स्थानीय हस्तकला व सांस्कृतिक उद्यमों को प्रश्रय देता है। अंतर्राष्ट्रीय स्तर पर यह हमारी संस्कृति तथा विरासत की समझ विकसित करने में सहायक है। विदेशी पर्यटक भारत में विरासत पर्यटन, पारि-पर्यटन (eco-tourism), रोमांचकारी पर्यटन, सांस्कृतिक पर्यटन, चिकित्सा पर्यटन तथा व्यापारिक पर्यटन के लिए आते हैं।

देश के विभिन्न भागों में पर्यटन के विकास की अपार संभावनाएँ हैं। पर्यटन उद्योग के विकास हेतु विभिन्न प्रकार के पर्यटन को बढ़ावा देने के प्रयास किए जा रहे हैं।

- 12.1 पर्यटन के महत्त्व को स्पष्ट कीजिए। 1
12.2 'विरासत-पर्यटन' का कोई एक उदाहरण दीजिए। 1
12.3 भारत में पर्यटन में सुधार के लाभों का आंकलन कीजिए। 2

खण्ड - ड

(मानचित्र आधारित प्रश्न)

1 + 2 = 3

- 13.1 दिए गए भारत के रेखा मानचित्र पर निम्नलिखित जानकारी की सहायता से 'A' के रूप में चिह्नित स्थान की पहचान कीजिए और उसके पास खींची गई रेखा पर उसका सही नाम लिखिए :
(A) वह स्थान जहाँ भारतीय राष्ट्रीय कांग्रेस का अधिवेशन सितंबर 1920 में हुआ था। 1
- 13.2 दिए गए भारत के इसी रेखा मानचित्र पर निम्नलिखित को अंकित कीजिए और उनके नाम लिखिए :
I. (क) रामागुंडम् तापीय ऊर्जा संयंत्र 1
अथवा
(ख) पुणे सॉफ्टवेयर टेक्नोलॉजी पार्क 1
II. चेन्नई (मीनाम्बकम) अंतर्राष्ट्रीय हवाई-पत्तन 1

नोट : निम्नलिखित प्रश्न केवल प्रश्न संख्या 13 के स्थान पर दृष्टिबाधित परीक्षार्थियों के लिए है :

- 13.1 उस राज्य का नाम लिखिए जहाँ जलियाँवाला बाग हत्याकांड हुआ था। 1
13.2 (क) उस राज्य का नाम लिखिए जहाँ रामागुंडम् तापीय ऊर्जा संयंत्र स्थित है। 1
अथवा
(ख) उस राज्य का नाम लिखिए जहाँ पुणे सॉफ्टवेयर टेक्नोलॉजी पार्क स्थित है। 1
13.3 उस राज्य का नाम लिखिए जहाँ चेन्नई मीनाम्बकम अंतर्राष्ट्रीय हवाई-पत्तन स्थित है। 1



-
12. Read the following case and answer the questions that follows : 4

Tourism

Tourism in India has grown substantially over the last three decades. More than 15 million people are directly engaged in the tourism industry. Tourism also promotes national integration, provides support to local handicrafts and cultural pursuits. It also helps in the development of international understanding about our culture and heritage. Foreign tourists visit India for heritage tourism, eco tourism, adventure tourism, cultural tourism, medical tourism and business tourism.

There is a vast potential for development of tourism in all parts of the country. Efforts are being made to promote different types of tourism for this upcoming industry.

- 12.1 Explain the importance of tourism. 1
12.2 Give an example of 'Heritage tourism'. 1
12.3 Assess the benefits of improving tourism in India. 2

SECTION - E

(Map based questions)

1 + 2 = 3

- 13.1 On the given outline Political Map of India, identify the place marked as 'A' with the help of following information and write its correct name on the line marked near it :
(A) The place where Indian National Congress Session was held in September, 1920. 1
- 13.2 On the same given Map of India, locate and label the following :
I. (a) Ramagundam Thermal Plant 1
OR
(b) Pune Software Technology Park. 1
II. Chennai (Meenambakam) International Airport. 1

Note : The following questions are for Visually Impaired Candidates only in lieu of Q. NO. 13.

- 13.1 Name the state where Jallianwala Bagh Massacre took place. 1
13.2 (a) Name the State where Ramagundam Thermal Power is located. 1
OR
(b) Name the State where Pune Software Technology Park is located. 1
13.3 Name the State where Chennai (Meenambakam) International Airport is located ? 1







प्रश्न सं. 13 के लिए मानचित्र
Map for Q. No. 13

----- यहाँ से काटें ----- Cut Here ----- यहाँ से काटें -----





*





Series **BQQPP/3**



SET ~ 1

रोल नं.

Roll No.

| | | | | | | | |
|--|--|--|--|--|--|--|--|
| | | | | | | | |
|--|--|--|--|--|--|--|--|

प्रश्न-पत्र कोड
Q.P. Code

32/3/1

परीक्षार्थी प्रश्न-पत्र कोड को उत्तर-पुस्तिका के मुख-पृष्ठ पर अवश्य लिखें ।

Candidates must write the Q.P. Code on the title page of the answer-book.

नोट / NOTE :

- (i) कृपया जाँच कर लें कि इस प्रश्न-पत्र में मुद्रित पृष्ठ **9 + 1** मानचित्र हैं ।
Please check that this question paper contains **9** printed pages +**1** Map.
- (ii) प्रश्न-पत्र में दाहिने हाथ की ओर दिए गए प्रश्न-पत्र कोड को परीक्षार्थी उत्तर-पुस्तिका के मुख-पृष्ठ पर लिखें ।
Q.P. Code given on the right hand side of the question paper should be written on the title page of the answer-book by the candidate.
- (iii) कृपया जाँच कर लें कि इस प्रश्न-पत्र में **13** प्रश्न हैं ।
Please check that this question paper contains **13** questions.
- (iv) कृपया प्रश्न का उत्तर लिखना शुरू करने से पहले, उत्तर-पुस्तिका में प्रश्न का क्रमांक अवश्य लिखें ।
Please write down the serial number of the question in the answer-book before attempting it.
- (v) इस प्रश्न-पत्र को पढ़ने के लिए 15 मिनट का समय दिया गया है । प्रश्न-पत्र का वितरण पूर्वाह्न में 10.15 बजे किया जाएगा । 10.15 बजे से 10.30 बजे तक छात्र केवल प्रश्न-पत्र को पढ़ेंगे और इस अवधि के दौरान वे उत्तर-पुस्तिका पर कोई उत्तर नहीं लिखेंगे ।
15 minute time has been allotted to read this question paper. The question paper will be distributed at 10.15 a.m. From 10.15 a.m. to 10.30 a.m., the students will read the question paper only and will not write any answer on the answer-book during this period.



सामाजिक विज्ञान
SOCIAL SCIENCE



निर्धारित समय : 2 घण्टे

Time allowed : 2 hours

अधिकतम अंक : 40

Maximum Marks : 40





सामान्य निर्देश:

निम्नलिखित निर्देशों को बहुत सावधानी से पढ़िए और उनका सख्ती से पालन कीजिए :

- (i) यह प्रश्न-पत्र पाँच खण्डों में विभाजित किया गया है – खण्ड क, ख, ग, घ और ङ । इस प्रश्न-पत्र में प्रश्नों की संख्या 13 है । सभी प्रश्न अनिवार्य हैं ।
- (ii) खण्ड क में प्रश्न संख्या 1 से 5 तक अति लघु-उत्तरीय प्रकार के प्रश्न हैं, प्रत्येक प्रश्न 2 अंकों का है । प्रत्येक प्रश्न का उत्तर 40 शब्दों से अधिक नहीं होना चाहिए ।
- (iii) खण्ड ख में प्रश्न संख्या 6 से 8 तक लघु-उत्तरीय प्रकार के प्रश्न हैं, प्रत्येक प्रश्न 3 अंकों का है । प्रत्येक प्रश्न का उत्तर 80 शब्दों से अधिक नहीं होना चाहिए ।
- (iv) खण्ड ग में प्रश्न संख्या 9 और 10 दीर्घ-उत्तरीय प्रकार के प्रश्न हैं । प्रत्येक प्रश्न 5 अंकों का है । प्रत्येक प्रश्न का उत्तर 120 शब्दों से अधिक नहीं होना चाहिए ।
- (v) खण्ड घ में प्रश्न संख्या 11 और 12 केस-आधारित प्रश्न हैं, प्रत्येक प्रश्न 4 अंकों का है ।
- (vi) खण्ड ङ में प्रश्न संख्या 13 मानचित्र-आधारित है । यह प्रश्न 3 अंकों का है जिसके दो भाग हैं – 13 (क) इतिहास से (1 अंक) तथा 13 (ख) भूगोल से (2 अंक) ।
- (vii) प्रश्न-पत्र में समग्र पर कोई विकल्प नहीं है । तथापि, कुछ प्रश्नों में आंतरिक विकल्प दिए गए हैं । ऐसे प्रश्नों में से केवल एक ही विकल्प का उत्तर लिखिए ।
- (viii) मानचित्र को अपनी उत्तर-पुस्तिका के साथ संलग्न कीजिए ।

खण्ड क

(अति लघु-उत्तरीय प्रश्न)

(5×2=10)

1. सत्याग्रह पर महात्मा गाँधी के विचारों का उल्लेख कीजिए । 2
2. जूट वस्त्र उद्योग के समक्ष प्रमुख समस्याओं को स्पष्ट कीजिए । 2
3. एक सामंजस्यपूर्ण सामाजिक जीवन प्राप्त करने के लिए लोकतंत्र को किन दो शर्तों को पूरा करना चाहिए ? उल्लेख कीजिए । 2
4. उस स्थिति का विश्लेषण कीजिए जिसमें ऋण, ऋणकर्ता को ऐसी स्थिति में धकेलता है जिससे निकलना बहुत कष्टदायक होता है । 2





General Instructions :

Read the following instructions very carefully and strictly follow them :

- (i) *This question paper comprises **five** sections – **Sections A, B, C, D and E.** There are **13** questions in the question paper. **All** questions are compulsory.*
- (ii) ***Section A** – Questions no. **1 to 5** are very short answer type questions, carrying **2** marks each. Answer to each question should not exceed **40** words.*
- (iii) ***Section B** – Questions no. **6 to 8** are short answer type questions, carrying **3** marks each. Answer to each question should not exceed **80** words.*
- (iv) ***Section C** – Questions no. **9 and 10** are long answer type questions, carrying **5** marks each. Answer to each question should not exceed **120** words.*
- (v) ***Section D** – Questions no. **11 and 12** are case-based questions, carrying **4** marks each.*
- (vi) ***Section E** – Question no. **13** is map-based, carrying **3** marks with two parts, **13(a)** from History (**1** mark) and **13(b)** from Geography (**2** marks).*
- (vii) *There is no overall choice in the question paper. However, an internal choice has been provided in few questions. **Only one of the choices** in such questions have to be attempted.*
- (viii) *Attach **Map** along with your answer-book.*

SECTION A **(Very Short Answer Type Questions)** (5×2=10)

1. Mention the views of Mahatma Gandhi on Satyagraha. 2
2. Explain the major concerns of Jute Textile industry. 2
3. Mention the two conditions that democracy must fulfil in order to achieve a harmonious social life. 2
4. Analyse the situation in which credit pushes the borrower into a situation from which recovery is painful. 2





5. निम्नलिखित तालिका को पढ़िए और उसके नीचे दिए गए प्रश्नों के उत्तर लिखिए :
भारतीय रेल नेटवर्क

| गेज मीटर में | रूट (किमी) | वहन मार्ग (किमी) | कुल मार्ग (किमी) |
|-----------------------------|---------------|---------------------|---------------------|
| बड़ी लाइन (1.676) | 63,491 | 89,521 | 1,17,560 |
| मीटर लाइन (1.000) | 3,200 | 3,462 | 3,775 |
| छोटी लाइन (0.762 तथा 0.610) | 1,751 | 1,752 | 1,901 |
| कुल | 68,442 | 94,735 | 1,23,236 |

- (5.1) भारत में पहाड़ी क्षेत्रों में किस गेज मार्ग की लंबाई अधिकतम है ? 1
(5.2) भारत में किस लाइन की लंबाई सर्वाधिक है ? 1

खण्ड ख

(लघु-उत्तरीय प्रश्न)

(3×3=9)

6. (क) विश्व व्यापार संगठन में विकासशील देशों के लिए हुई चर्चा की परख कीजिए । 3
अथवा
(ख) भारत में विदेशी कंपनियों को निवेश के लिए आकर्षित करने के लिए केन्द्र और राज्य सरकारों द्वारा उठाए गए कदमों का परीक्षण कीजिए । 3
7. “देश को एकजुट करने के लिए महात्मा गाँधी को ‘नमक’ एक शक्तिशाली प्रतीक दिखाई दिया ।” इस कथन की तीन तर्कों सहित पुष्टि कीजिए । 3
8. “लोकतंत्र की अपने लिए समर्थन उत्पन्न करने की क्षमता स्वयं एक परिणाम ही है और इसकी अनदेखी नहीं की जा सकती ।” इस कथन का तीन उदाहरणों सहित विश्लेषण कीजिए । 3

खण्ड ग

(दीर्घ-उत्तरीय प्रश्न)

(2×5=10)

9. (क) “विश्वभर की लोकतांत्रिक व्यवस्थाओं में राजनीतिक दल सर्वव्यापी हो गए हैं ।” उदाहरणों सहित कथन की व्याख्या कीजिए । 1×5=5
अथवा
(ख) “भारत में राजनीतिक दलों को मज़बूत करने के लिए कई सुधार किए गए हैं ताकि वे अपने कार्यों को अच्छी तरह से कर सकें ।” उदाहरणों सहित कथन की व्याख्या कीजिए । 1×5=5
10. (क) ‘स्वयं सहायता समूह’ ग्रामीण गरीबों को किस प्रकार संगठित करने में मदद करते हैं ? उदाहरणों सहित व्याख्या कीजिए । 1×5=5
अथवा
(ख) औपचारिक और अनौपचारिक ऋणदाताओं के बीच ऋण किस प्रकार काफी हद तक भिन्न होता है ? उदाहरणों सहित व्याख्या कीजिए । 1×5=5





5. Read the following table and answer the questions that follow :

The Indian Railway network

| Gauge in metres | Route (km) | Running Track (km) | Total Track (km) |
|--------------------------------|---------------|--------------------|------------------|
| Broad Gauge (1.676) | 63,491 | 89,521 | 1,17,560 |
| Metre Gauge (1.000) | 3,200 | 3,462 | 3,775 |
| Narrow Gauge (0.762 and 0.610) | 1,751 | 1,752 | 1,901 |
| Total | 68,442 | 94,735 | 1,23,236 |

- (5.1) Which gauge covers maximum of track length in hilly areas in India ? 1
- (5.2) Which gauge has the highest length in India ? 1

SECTION B

(Short Answer Type Questions)

(3×3=9)

6. (a) Examine the debate that took place in the World Trade Organisation for the developing countries. 3
- OR**
- (b) Examine the steps taken by the Central and State governments to attract foreign companies to invest in India. 3
7. “Mahatma Gandhi found, in ‘salt’, a powerful symbol that could unite the nation.” Support the statement with three arguments. 3
8. “Democracy’s ability to generate its own support is itself an outcome that cannot be ignored.” Analyse the statement with three examples. 3

SECTION C

(Long Answer Type Questions)

(2×5=10)

9. (a) “Political parties have become omnipresent in democracies all over the world.” Explain the statement with examples. 1×5=5
- OR**
- (b) “There are various reforms taken to strengthen parties in India so that they perform their function well.” Explain the statement with examples. 1×5=5
10. (a) How are ‘self-help groups’ the building blocks of the rural poor ? Explain with examples. 1×5=5
- OR**
- (b) How does the credit vary substantially between formal and informal lenders ? Explain with examples. 1×5=5





खण्ड घ
(केस-आधारित प्रश्न)

(2×4=8)

11. नीचे दिए गए केस को ध्यानपूर्वक पढ़िए और उसके नीचे दिए गए प्रश्नों के उत्तर लिखिए : 4

सामूहिक अपनेपन की भावना

सामूहिक अपनेपन की यह भावना आंशिक रूप से संयुक्त संघर्षों के चलते पैदा हुई थी। इनके अलावा बहुत सारी सांस्कृतिक प्रक्रियाएँ भी थीं जिनके ज़रिए राष्ट्रवाद लोगों की कल्पना और दिलोदिमाग पर छा गया था। इतिहास व साहित्य, लोक कथाएँ व गीत, चित्र व प्रतीक, सभी ने राष्ट्रवाद को साकार करने में अपना योगदान दिया था।

जैसा कि आप जानते हैं, राष्ट्र की पहचान सबसे ज़्यादा किसी तसवीर में अंकित की जाती है। इससे लोगों को एक ऐसी छवि गढ़ने में मदद मिलती है जिसके ज़रिए वे राष्ट्र को पहचान सकते हैं। बीसवीं सदी में राष्ट्रवाद के विकास के साथ भारत की पहचान भी भारत माता की छवि का रूप लेने लगी। इस छवि के निर्माण का आरंभ बंकिम चन्द्र चट्टोपाध्याय ने किया था। 1870 के दशक में उन्होंने मातृभूमि की स्तुति के रूप में 'वन्दे मातरम्' गीत लिखा था। बाद में इसे उन्होंने अपने उपन्यास *आनन्दमठ* में शामिल कर लिया। यह गीत बंगाल में स्वदेशी आन्दोलन में खूब गाया गया। स्वदेशी आंदोलन की प्रेरणा से अबनीन्द्रनाथ टैगोर ने भारत माता की विख्यात छवि को चित्रित किया। इस पेंटिंग में भारत माता को एक संन्यासिनी के रूप में दर्शाया गया है। वह शांत, गंभीर, दैवी और अध्यात्मिक गुणों से युक्त दिखाई देती है। आगे चल कर जब इस छवि को बड़े पैमाने पर तसवीरों में उतारा जाने लगा और विभिन्न कलाकार यह तसवीर बनाने लगे तो भारत माता की छवि विविध रूप ग्रहण करती गई। इस मातृ छवि के प्रति श्रद्धा को राष्ट्रवाद में आस्था का प्रतीक माना जाने लगा।

- | | |
|--|---|
| (11.1) 'राष्ट्र' लोगों के मस्तिष्क में एक यथार्थ का रूप कैसे लेता है ? | 1 |
| (11.2) राष्ट्रवाद ने लोगों की कल्पनाओं में कैसे रूप लिया ? | 1 |
| (11.3) विभिन्न समुदायों के लोगों में सामूहिक अपनेपन का भाव किस प्रकार विकसित हुआ ? | 2 |

12. नीचे दिए गए केस को ध्यानपूर्वक पढ़िए और उसके नीचे दिए गए प्रश्नों के उत्तर लिखिए : 4

राष्ट्रीय ताप विद्युतगृह कॉर्पोरेशन (NTPC) द्वारा दिखाया गया मार्ग

भारत में राष्ट्रीय ताप विद्युतगृह कॉर्पोरेशन विद्युत प्रदान करने वाला मुख्य निगम है। इसके पास पर्यावरण प्रबंधन तंत्र (EMS) 14001 के लिए आई एस ओ (ISO) प्रमाण पत्र है। यह निगम प्राकृतिक पर्यावरण और संसाधन जैसे जल, खनिज तेल, गैस तथा ईंधन संरक्षण नीति का हिमायती है तथा इन्हें ध्यान में रखकर ही विद्युत संयंत्रों की स्थापना करता है।





SECTION D

(Case-based questions)

(2×4=8)

11. Read the case given below carefully and answer the questions that follow : 4

The Sense of Collective Belonging

This sense of collective belonging came partly through the experience of united struggles. But there were also a variety of cultural processes through which nationalism captured people's imagination. History and fiction, folklore and songs, popular prints and symbols, all played a part in the making of nationalism.

The identity of the nation, as you know, is most often symbolised in a figure or image. This helps create an image with which people can identify the nation. It was in the twentieth century, with the growth of nationalism, that the identity of India came to be visually associated with the image of Bharat Mata. The image was first created by Bankim Chandra Chattopadhyay. In the 1870s he wrote 'Vande Mataram' as a hymn to the motherland. Later it was included in his novel *Anandamath* and widely sung during the Swadeshi movement in Bengal. Moved by the Swadeshi movement, Abanindranath Tagore painted his famous image of Bharat Mata. In this painting, Bharat Mata is portrayed as an ascetic figure; she is calm, composed, divine and spiritual. In subsequent years, the image of Bharat Mata acquired many different forms, as it circulated in popular prints, and was painted by different artists. Devotion to this mother figure came to be seen as evidence of one's nationalism.

- (11.1) How did the 'nation' become a reality in the minds of people ? 1
(11.2) How did nationalism capture the people's imagination ? 1
(11.3) How did people belonging to different groups develop a sense of collective belonging ? 2

12. Read the case given below carefully and answer the questions that follow : 4

National Thermal Power Corporation (NTPC) shows the way

NTPC is a major power providing corporation in India. It has ISO certification for EMS (Environment Management System) 14001. The corporation has a proactive approach for preserving the natural environment and resources like water, oil, gas and fuels in places where it is setting up power plants.





ऐसा निम्न उपायों द्वारा संभव है :

- (क) आधुनिकतम तकनीकों पर आधारित उपकरणों का सही उपयोग करके तथा विद्यमान उपकरणों में सुधार करके ।
- (ख) अधिकतम राख का इस्तेमाल कर अपशिष्ट पदार्थों का न्यून उत्पादन करना ।
- (ग) पारिस्थितिकी संतुलन बनाए रखने के लिए हरित क्षेत्र की सुरक्षा तथा वृक्षारोपण के लिए प्रेरित करना ।
- (घ) तरल अपशिष्ट प्रबंधन, राख-युक्त जलीय पुनर्चक्रण तथा राख-संग्रह (Ash pond) प्रबंधन द्वारा पर्यावरण प्रदूषण को कम करना ।
- (ङ) सभी ऊर्जा संयंत्रों का पारिस्थितिकीय रूप से मॉनीटर तथा समीक्षा करना एवं ऑनलाइन आँकड़ों का प्रबंधन करना ।

- (12.1) 'सतत पोषणीय विकास' को परिभाषित कीजिए । 1
- (12.2) आई.एस.ओ. (ISO) प्रमाणन के पीछे क्या विचार है ? 1
- (12.3) राष्ट्रीय ताप विद्युतगृह कॉरपोरेशन (NTPC) के सक्रिय दृष्टिकोण की परख कीजिए । 2

खण्ड ड

(मानचित्र-आधारित प्रश्न)

(1+2=3)

13. (i) दिए गए भारत के राजनीतिक रेखा-मानचित्र (पृष्ठ 11 पर), में निम्नलिखित जानकारी की सहायता से 'A' के रूप में चिह्नित स्थान की पहचान कीजिए और उसके पास खींची गई रेखा पर उसका सही नाम लिखिए ।
- A. वह स्थान जहाँ जलियाँवाला बाग हत्याकांड हुआ था । 1
- (ii) दिए गए भारत के इसी रेखा-मानचित्र पर निम्नलिखित को अंकित कीजिए और उनके नाम लिखिए ।
- (क) (I) सिंगरौली तापीय ऊर्जा संयंत्र 1
- अथवा
- (II) मुंबई सॉफ्टवेयर टेक्नोलॉजी पार्क 1
- (ख) कोलकाता (नेताजी सुभाष चंद्र बोस) अंतर्राष्ट्रीय हवाई पत्तन 1

नोट : निम्नलिखित प्रश्न केवल दृष्टिबाधित परीक्षार्थियों के लिए प्रश्न संख्या 13 के स्थान पर हैं । 3×1=3

- (13.1) उस राज्य का नाम लिखिए जहाँ जलियाँवाला बाग हत्याकांड हुआ था । 1
- (13.2) (क) उस राज्य का नाम लिखिए जहाँ सिंगरौली तापीय ऊर्जा संयंत्र स्थित है । 1
- अथवा
- (ख) उस राज्य का नाम लिखिए जहाँ मुंबई सॉफ्टवेयर टेक्नोलॉजी पार्क स्थित है । 1
- (13.3) उस राज्य का नाम लिखिए जहाँ कोलकाता (नेताजी सुभाष चंद्र बोस) अंतर्राष्ट्रीय हवाई पत्तन स्थित है । 1





This has been possible through :

- (a) Optimum utilisation of equipment adopting latest techniques and upgrading existing equipment.
 - (b) Minimising waste generation by maximising ash utilisation.
 - (c) Providing green belts for nurturing ecological balance and addressing the question of special purpose vehicles for afforestation.
 - (d) Reducing environmental pollution through ash pond management, ash water recycling system and liquid waste management.
 - (e) Ecological monitoring, reviews and online database management for all its power stations.
- (12.1) Define the term 'sustainable development'. 1
- (12.2) What is the idea behind ISO certification ? 1
- (12.3) Examine the proactive approach of National Thermal Power Corporation (NTPC). 2

SECTION E

(Map-based question)

(1+2=3)

- 13.** (i) On the given political outline map of **India** (on page 11), identify the place marked as 'A' with the help of the following information and write its correct name on the line marked near it.
- A. The place where Jallianwala Bagh massacre took place. 1
- (ii) On the same given map of **India**, locate and label the following :
- (a) (I) Singrauli Thermal Plant 1
- OR**
- (II) Mumbai Software Technology Park 1
- (b) Kolkata (Netaji Subhash Chandra Bose) International Airport 1

Note : The following questions are for the **Visually Impaired Candidates** only, in lieu of Q. No. 13. 3×1=3

- (13.1) Name the State where Jallianwala Bagh massacre took place. 1
- (13.2) (a) Name the State where Singrauli Thermal Plant is located. 1
- OR**
- (b) Name the State where Mumbai Software Technology Park is located. 1
- (13.3) Name the State where Kolkata (Netaji Subhash Chandra Bose) International Airport is located. 1

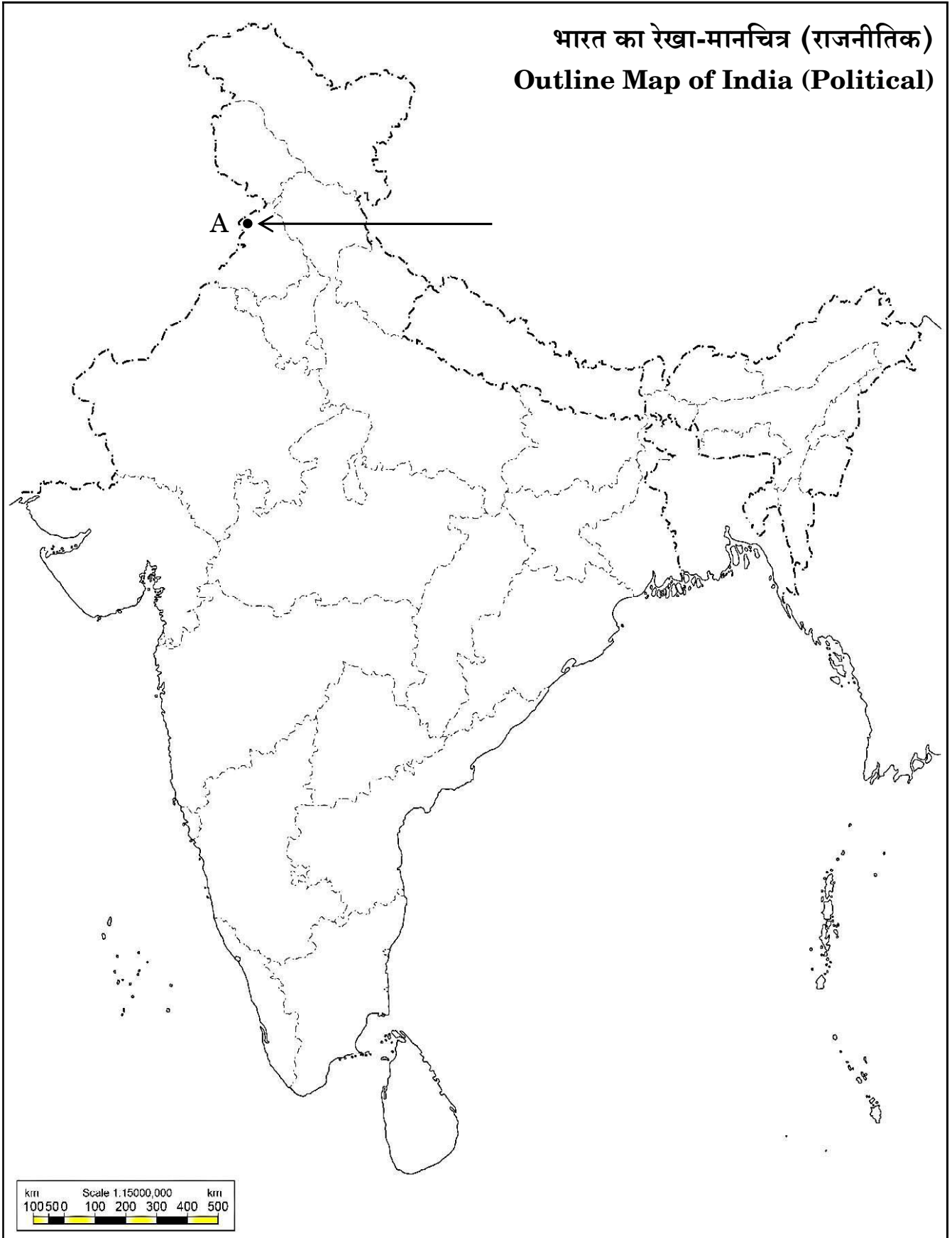






प्रश्न सं. 13 के लिए

For question no. 13





Series **BQQPP/3**



SET ~ 2

रोल नं.

Roll No.

| | | | | | | | |
|--|--|--|--|--|--|--|--|
| | | | | | | | |
|--|--|--|--|--|--|--|--|

प्रश्न-पत्र कोड
Q.P. Code

32/3/2

परीक्षार्थी प्रश्न-पत्र कोड को उत्तर-पुस्तिका के मुख-पृष्ठ पर अवश्य लिखें ।

Candidates must write the Q.P. Code on the title page of the answer-book.

नोट / NOTE :

- (i) कृपया जाँच कर लें कि इस प्रश्न-पत्र में मुद्रित पृष्ठ **9 + 1** मानचित्र हैं ।
Please check that this question paper contains **9** printed pages +**1** Map.
- (ii) प्रश्न-पत्र में दाहिने हाथ की ओर दिए गए प्रश्न-पत्र कोड को परीक्षार्थी उत्तर-पुस्तिका के मुख-पृष्ठ पर लिखें ।
Q.P. Code given on the right hand side of the question paper should be written on the title page of the answer-book by the candidate.
- (iii) कृपया जाँच कर लें कि इस प्रश्न-पत्र में **13** प्रश्न हैं ।
Please check that this question paper contains **13** questions.
- (iv) कृपया प्रश्न का उत्तर लिखना शुरू करने से पहले, उत्तर-पुस्तिका में प्रश्न का क्रमांक अवश्य लिखें ।
Please write down the serial number of the question in the answer-book before attempting it.
- (v) इस प्रश्न-पत्र को पढ़ने के लिए 15 मिनट का समय दिया गया है । प्रश्न-पत्र का वितरण पूर्वाह्न में 10.15 बजे किया जाएगा । 10.15 बजे से 10.30 बजे तक छात्र केवल प्रश्न-पत्र को पढ़ेंगे और इस अवधि के दौरान वे उत्तर-पुस्तिका पर कोई उत्तर नहीं लिखेंगे ।
15 minute time has been allotted to read this question paper. The question paper will be distributed at 10.15 a.m. From 10.15 a.m. to 10.30 a.m., the students will read the question paper only and will not write any answer on the answer-book during this period.



सामाजिक विज्ञान
SOCIAL SCIENCE



निर्धारित समय : 2 घण्टे

Time allowed : 2 hours

अधिकतम अंक : 40

Maximum Marks : 40





सामान्य निर्देश:

निम्नलिखित निर्देशों को बहुत सावधानी से पढ़िए और उनका सख्ती से पालन कीजिए :

- (i) यह प्रश्न-पत्र पाँच खण्डों में विभाजित किया गया है – खण्ड क, ख, ग, घ और ङ । इस प्रश्न-पत्र में प्रश्नों की संख्या 13 है । सभी प्रश्न अनिवार्य हैं ।
- (ii) खण्ड क में प्रश्न संख्या 1 से 5 तक अति लघु-उत्तरीय प्रकार के प्रश्न हैं, प्रत्येक प्रश्न 2 अंकों का है । प्रत्येक प्रश्न का उत्तर 40 शब्दों से अधिक नहीं होना चाहिए ।
- (iii) खण्ड ख में प्रश्न संख्या 6 से 8 तक लघु-उत्तरीय प्रकार के प्रश्न हैं, प्रत्येक प्रश्न 3 अंकों का है । प्रत्येक प्रश्न का उत्तर 80 शब्दों से अधिक नहीं होना चाहिए ।
- (iv) खण्ड ग में प्रश्न संख्या 9 और 10 दीर्घ-उत्तरीय प्रकार के प्रश्न हैं । प्रत्येक प्रश्न 5 अंकों का है । प्रत्येक प्रश्न का उत्तर 120 शब्दों से अधिक नहीं होना चाहिए ।
- (v) खण्ड घ में प्रश्न संख्या 11 और 12 केस-आधारित प्रश्न हैं, प्रत्येक प्रश्न 4 अंकों का है ।
- (vi) खण्ड ङ में प्रश्न संख्या 13 मानचित्र-आधारित है । यह प्रश्न 3 अंकों का है जिसके दो भाग हैं – 13(क) इतिहास से (1 अंक) तथा 13(ख) भूगोल से (2 अंक) ।
- (vii) प्रश्न-पत्र में समग्र पर कोई विकल्प नहीं है । तथापि, कुछ प्रश्नों में आंतरिक विकल्प दिए गए हैं । ऐसे प्रश्नों में से केवल एक ही विकल्प का उत्तर लिखिए ।
- (viii) मानचित्र को अपनी उत्तर-पुस्तिका के साथ संलग्न कीजिए ।

खण्ड क

(अति लघु-उत्तरीय प्रश्न)

(5×2=10)

1. प्रथम विश्व युद्ध के भारतीय अर्थव्यवस्था पर पड़ने वाले किन्हीं दो प्रभावों का उल्लेख कीजिए । 2
2. 'चीनी उद्योग' के समक्ष किन्हीं दो प्रमुख चुनौतियों की परख कीजिए । 2
3. उस स्थिति का विश्लेषण कीजिए जिसमें ऋण, ऋणकर्ता को ऐसी स्थिति में धकेलता है जिससे निकलना बहुत कष्टदायक होता है । 2
4. एक सामंजस्यपूर्ण सामाजिक जीवन प्राप्त करने के लिए लोकतंत्र को किन दो शर्तों को पूरा करना चाहिए ? उल्लेख कीजिए । 2





General Instructions :

Read the following instructions very carefully and strictly follow them :

- (i) *This question paper comprises **five** sections – **Sections A, B, C, D and E.** There are **13** questions in the question paper. **All** questions are compulsory.*
- (ii) ***Section A** – Questions no. **1 to 5** are very short answer type questions, carrying **2** marks each. Answer to each question should not exceed **40** words.*
- (iii) ***Section B** – Questions no. **6 to 8** are short answer type questions, carrying **3** marks each. Answer to each question should not exceed **80** words.*
- (iv) ***Section C** – Questions no. **9 and 10** are long answer type questions, carrying **5** marks each. Answer to each question should not exceed **120** words.*
- (v) ***Section D** – Questions no. **11 and 12** are case-based questions, carrying **4** marks each.*
- (vi) ***Section E** – Question no. **13** is map-based, carrying **3** marks with two parts, **13(a)** from History (**1** mark) and **13(b)** from Geography (**2** marks).*
- (vii) *There is no overall choice in the question paper. However, an internal choice has been provided in few questions. **Only one of the choices** in such questions have to be attempted.*
- (viii) *Attach **Map** along with your answer-book.*

SECTION A

(Very Short Answer Type Questions)

(5×2=10)

1. Mention any two impacts of the First World War on Indian Economy. 2
2. Examine any two major challenges faced by the ‘Sugar Industry’. 2
3. Analyse the situation in which credit pushes the borrower into a situation from which recovery is painful. 2
4. Mention the two conditions that democracy must fulfil in order to achieve a harmonious social life. 2





5. निम्नलिखित तालिका को पढ़िए और उसके नीचे दिए गए प्रश्नों के उत्तर लिखिए :
भारतीय रेल नेटवर्क

| गेज मीटर में | रूट (किमी) | वहन मार्ग (किमी) | कुल मार्ग (किमी) |
|-----------------------------|---------------|---------------------|---------------------|
| बड़ी लाइन (1.676) | 63,491 | 89,521 | 1,17,560 |
| मीटर लाइन (1.000) | 3,200 | 3,462 | 3,775 |
| छोटी लाइन (0.762 तथा 0.610) | 1,751 | 1,752 | 1,901 |
| कुल | 68,442 | 94,735 | 1,23,236 |

- (5.1) भारत में पहाड़ी क्षेत्रों में किस गेज मार्ग की लंबाई अधिकतम है ? 1
(5.2) भारत में किस लाइन की लंबाई सर्वाधिक है ? 1

खण्ड ख

(लघु-उत्तरीय प्रश्न)

(3×3=9)

6. “लोकतंत्र की अपने लिए समर्थन उत्पन्न करने की क्षमता स्वयं एक परिणाम ही है और इसकी अनदेखी नहीं की जा सकती।” इस कथन का तीन उदाहरणों सहित विश्लेषण कीजिए। 3
7. “महात्मा गाँधी ने खिलाफत आंदोलन के साथ जुड़कर भारत में अधिक व्यापक आधार वाला आंदोलन चलाया।” असहयोग आंदोलन के संदर्भ में इस कथन की व्याख्या किन्हीं तीन तर्कों से कीजिए। 3
8. (क) विश्व व्यापार संगठन में विकासशील देशों के लिए हुई चर्चा की परख कीजिए। 3
- अथवा**
- (ख) भारत में विदेशी कंपनियों को निवेश के लिए आकर्षित करने के लिए केन्द्र और राज्य सरकारों द्वारा उठाए गए कदमों का परीक्षण कीजिए। 3

खण्ड ग

(दीर्घ-उत्तरीय प्रश्न)

(2×5=10)

9. (क) “विश्वभर की लोकतांत्रिक व्यवस्थाओं में राजनीतिक दल सर्वव्यापी हो गए हैं।” उदाहरणों सहित कथन की व्याख्या कीजिए। 1×5=5
- अथवा**
- (ख) “भारत में राजनीतिक दलों को मज़बूत करने के लिए कई सुधार किए गए हैं ताकि वे अपने कार्यों को अच्छी तरह से कर सकें।” उदाहरणों सहित कथन की व्याख्या कीजिए। 1×5=5
10. (क) विकास के लिए ऋण की भूमिका को उदाहरण सहित स्पष्ट कीजिए। 1×5=5
- अथवा**
- (ख) साख (ऋण) के औपचारिक स्रोत किस प्रकार अनौपचारिक स्रोतों से भिन्न हैं ? उदाहरण सहित स्पष्ट कीजिए। 1×5=5





5. Read the following table and answer the questions that follow :

The Indian Railway network

| Gauge in metres | Route (km) | Running Track (km) | Total Track (km) |
|--------------------------------|---------------|--------------------|------------------|
| Broad Gauge (1.676) | 63,491 | 89,521 | 1,17,560 |
| Metre Gauge (1.000) | 3,200 | 3,462 | 3,775 |
| Narrow Gauge (0.762 and 0.610) | 1,751 | 1,752 | 1,901 |
| Total | 68,442 | 94,735 | 1,23,236 |

(5.1) Which gauge covers maximum of track length in hilly areas in India ? 1

(5.2) Which gauge has the highest length in India ? 1

SECTION B

(Short Answer Type Questions) (3×3=9)

6. “Democracy’s ability to generate its own support is itself an outcome that cannot be ignored.” Analyse the statement with three examples. 3

7. “Mahatma Gandhi launched a more broad-based movement in India by joining Khilafat Andolan.” Explain the statement with any three arguments in the context of Non-Cooperation Movement. 3

8. (a) Examine the debate that took place in the World Trade Organisation for the developing countries. 3

OR

(b) Examine the steps taken by the Central and State governments to attract foreign companies to invest in India. 3

SECTION C

(Long Answer Type Questions) (2×5=10)

9. (a) “Political parties have become omnipresent in democracies all over the world.” Explain the statement with examples. 1×5=5

OR

(b) “There are various reforms taken to strengthen parties in India so that they perform their function well.” Explain the statement with examples. 1×5=5

10. (a) Explain with an example the role of credit for development. 1×5=5

OR

(b) How are formal sources of credit different from informal sources ? Explain with example. 1×5=5





खण्ड घ
(केस-आधारित प्रश्न)

(2×4=8)

11. नीचे दिए गए केस को ध्यानपूर्वक पढ़िए और उसके नीचे दिए गए प्रश्नों के उत्तर लिखिए : 4

राष्ट्रीय ताप विद्युतगृह कॉरपोरेशन (NTPC) द्वारा दिखाया गया मार्ग

भारत में राष्ट्रीय ताप विद्युतगृह कॉरपोरेशन विद्युत प्रदान करने वाला मुख्य निगम है। इसके पास पर्यावरण प्रबंधन तंत्र (EMS) 14001 के लिए आई एस ओ (ISO) प्रमाण पत्र है। यह निगम प्राकृतिक पर्यावरण और संसाधन जैसे जल, खनिज तेल, गैस तथा ईंधन संरक्षण नीति का हिमायती है तथा इन्हें ध्यान में रखकर ही विद्युत संयंत्रों की स्थापना करता है।

ऐसा निम्न उपायों द्वारा संभव है :

- (क) आधुनिकतम तकनीकों पर आधारित उपकरणों का सही उपयोग करके तथा विद्यमान उपकरणों में सुधार करके।
- (ख) अधिकतम राख का इस्तेमाल कर अपशिष्ट पदार्थों का न्यून उत्पादन करना।
- (ग) पारिस्थितिकी संतुलन बनाए रखने के लिए हरित क्षेत्र की सुरक्षा तथा वृक्षारोपण के लिए प्रेरित करना।
- (घ) तरल अपशिष्ट प्रबंधन, राख-युक्त जलीय पुनर्चक्रण तथा राख-संग्रह (Ash pond) प्रबंधन द्वारा पर्यावरण प्रदूषण को कम करना।
- (ङ) सभी ऊर्जा संयंत्रों का पारिस्थितिकीय रूप से मॉनीटर तथा समीक्षा करना एवं ऑनलाइन आँकड़ों का प्रबंधन करना।

(11.1) 'सतत पोषणीय विकास' को परिभाषित कीजिए। 1

(11.2) आई.एस.ओ. (ISO) प्रमाणन के पीछे क्या विचार है? 1

(11.3) राष्ट्रीय ताप विद्युतगृह कॉरपोरेशन (NTPC) के सक्रिय दृष्टिकोण की परख कीजिए। 2

12. नीचे दिए गए केस को ध्यानपूर्वक पढ़िए और उसके नीचे दिए गए प्रश्नों के उत्तर लिखिए : 4

सामूहिक अपनेपन की भावना

सामूहिक अपनेपन की यह भावना आंशिक रूप से संयुक्त संघर्षों के चलते पैदा हुई थी। इनके अलावा बहुत सारी सांस्कृतिक प्रक्रियाएँ भी थीं जिनके ज़रिए राष्ट्रवाद लोगों की कल्पना और दिलोदिमाग पर छा गया था। इतिहास व साहित्य, लोक कथाएँ व गीत, चित्र व प्रतीक, सभी ने राष्ट्रवाद को साकार करने में अपना योगदान दिया था।

जैसा कि आप जानते हैं, राष्ट्र की पहचान सबसे ज़्यादा किसी तसवीर में अंकित की जाती है। इससे लोगों को एक ऐसी छवि गढ़ने में मदद मिलती है जिसके ज़रिए वे राष्ट्र को पहचान सकते हैं। बीसवीं सदी में राष्ट्रवाद के विकास के साथ भारत की पहचान भी भारत माता की छवि का रूप लेने लगी। इस छवि के निर्माण का आरंभ बंकिम चन्द्र





SECTION D
(Case-based questions)

(2×4=8)

11. Read the case given below carefully and answer the questions that follow : 4

National Thermal Power Corporation (NTPC) shows the way

NTPC is a major power providing corporation in India. It has ISO certification for EMS (Environment Management System) 14001. The corporation has a proactive approach for preserving the natural environment and resources like water, oil, gas and fuels in places where it is setting up power plants.

This has been possible through :

- (a) Optimum utilisation of equipment adopting latest techniques and upgrading existing equipment.
- (b) Minimising waste generation by maximising ash utilisation.
- (c) Providing green belts for nurturing ecological balance and addressing the question of special purpose vehicles for afforestation.
- (d) Reducing environmental pollution through ash pond management, ash water recycling system and liquid waste management.
- (e) Ecological monitoring, reviews and online database management for all its power stations.

- (11.1) Define the term 'sustainable development'. 1
- (11.2) What is the idea behind ISO certification? 1
- (11.3) Examine the proactive approach of National Thermal Power Corporation (NTPC). 2

12. Read the case given below carefully and answer the questions that follow : 4

The Sense of Collective Belonging

This sense of collective belonging came partly through the experience of united struggles. But there were also a variety of cultural processes through which nationalism captured people's imagination. History and fiction, folklore and songs, popular prints and symbols, all played a part in the making of nationalism.

The identity of the nation, as you know, is most often symbolised in a figure or image. This helps create an image with which people can identify the nation. It was in the twentieth century, with the growth of nationalism, that the identity of India came to be visually associated with the image of Bharat Mata. The image was first created by Bankim





चट्टोपाध्याय ने किया था । 1870 के दशक में उन्होंने मातृभूमि की स्तुति के रूप में 'वन्दे मातरम्' गीत लिखा था । बाद में इसे उन्होंने अपने उपन्यास *आनन्दमठ* में शामिल कर लिया । यह गीत बंगाल में स्वदेशी आन्दोलन में खूब गाया गया । स्वदेशी आंदोलन की प्रेरणा से अबनीन्द्रनाथ टैगोर ने भारत माता की विख्यात छवि को चित्रित किया । इस पेंटिंग में भारत माता को एक संन्यासिनी के रूप में दर्शाया गया है । वह शांत, गंभीर, दैवी और अध्यात्मिक गुणों से युक्त दिखाई देती है । आगे चल कर जब इस छवि को बड़े पैमाने पर तसवीरों में उतारा जाने लगा और विभिन्न कलाकार यह तसवीर बनाने लगे तो भारत माता की छवि विविध रूप ग्रहण करती गई । इस मातृ छवि के प्रति श्रद्धा को राष्ट्रवाद में आस्था का प्रतीक माना जाने लगा ।

- (12.1) 'राष्ट्र' लोगों के मस्तिष्क में एक यथार्थ का रूप कैसे लेता है ? 1
- (12.2) राष्ट्रवाद ने लोगों की कल्पनाओं में कैसे रूप लिया ? 1
- (12.3) विभिन्न समुदायों के लोगों में सामूहिक अपनेपन का भाव किस प्रकार विकसित हुआ ? 2

खण्ड ड

(मानचित्र-आधारित प्रश्न)

(1+2=3)

13. (i) दिए गए भारत के राजनीतिक रेखा-मानचित्र (पृष्ठ 11 पर), में निम्नलिखित जानकारी की सहायता से 'A' के रूप में चिह्नित स्थान की पहचान कीजिए और उसके पास खींची गई रेखा पर उसका सही नाम लिखिए ।
- A. वह स्थान जहाँ जलियाँवाला बाग हत्याकांड हुआ था । 1
- (ii) दिए गए भारत के इसी रेखा-मानचित्र पर निम्नलिखित को अंकित कीजिए और उनके नाम लिखिए ।
- (क) (I) सिंगरौली तापीय ऊर्जा संयंत्र 1
- अथवा
- (II) मुंबई सॉफ्टवेयर टेक्नोलॉजी पार्क 1
- (ख) कोलकाता (नेताजी सुभाष चंद्र बोस) अंतर्राष्ट्रीय हवाई पत्तन 1

नोट : निम्नलिखित प्रश्न केवल दृष्टिबाधित परीक्षार्थियों के लिए प्रश्न संख्या 13 के स्थान पर हैं । 3×1=3

- (13.1) उस राज्य का नाम लिखिए जहाँ जलियाँवाला बाग हत्याकांड हुआ था । 1
- (13.2) (क) उस राज्य का नाम लिखिए जहाँ सिंगरौली तापीय ऊर्जा संयंत्र स्थित है । 1
- अथवा
- (ख) उस राज्य का नाम लिखिए जहाँ मुंबई सॉफ्टवेयर टेक्नोलॉजी पार्क स्थित है । 1
- (13.3) उस राज्य का नाम लिखिए जहाँ कोलकाता (नेताजी सुभाष चंद्र बोस) अंतर्राष्ट्रीय हवाई पत्तन स्थित है । 1





Chandra Chattopadhyay. In the 1870s he wrote 'Vande Mataram' as a hymn to the motherland. Later it was included in his novel *Anandamath* and widely sung during the Swadeshi movement in Bengal. Moved by the Swadeshi movement, Abanindranath Tagore painted his famous image of Bharat Mata. In this painting, Bharat Mata is portrayed as an ascetic figure; she is calm, composed, divine and spiritual. In subsequent years, the image of Bharat Mata acquired many different forms, as it circulated in popular prints, and was painted by different artists. Devotion to this mother figure came to be seen as evidence of one's nationalism.

- (12.1) How did the 'nation' become a reality in the minds of people ? 1
 (12.2) How did nationalism capture the people's imagination ? 1
 (12.3) How did people belonging to different groups develop a sense of collective belonging ? 2

SECTION E

(Map-based question)

(1+2=3)

13. (i) On the given political outline map of **India** (on page 11), identify the place marked as 'A' with the help of the following information and write its correct name on the line marked near it.
- A. The place where Jallianwala Bagh massacre took place. 1
- (ii) On the same given map of **India**, locate and label the following :
- (a) (I) Singrauli Thermal Plant 1
- OR**
- (II) Mumbai Software Technology Park 1
- (b) Kolkata (Netaji Subhash Chandra Bose) International Airport 1

Note : The following questions are for the **Visually Impaired Candidates** only, in lieu of Q. No. 13. 3×1=3

- (13.1) Name the State where Jallianwala Bagh massacre took place. 1
 (13.2) (a) Name the State where Singrauli Thermal Plant is located. 1
- OR**
- (b) Name the State where Mumbai Software Technology Park is located. 1
 (13.3) Name the State where Kolkata (Netaji Subhash Chandra Bose) International Airport is located. 1







प्रश्न सं. 13 के लिए

For question no. 13





Series **BQQPP/3**



SET ~ 3

रोल नं.

Roll No.

| | | | | | | | |
|--|--|--|--|--|--|--|--|
| | | | | | | | |
|--|--|--|--|--|--|--|--|

प्रश्न-पत्र कोड
Q.P. Code

32/3/3

परीक्षार्थी प्रश्न-पत्र कोड को उत्तर-पुस्तिका के मुख-पृष्ठ पर अवश्य लिखें ।

Candidates must write the Q.P. Code on the title page of the answer-book.

नोट / NOTE :

- (i) कृपया जाँच कर लें कि इस प्रश्न-पत्र में मुद्रित पृष्ठ **9 + 1** मानचित्र हैं ।
Please check that this question paper contains **9** printed pages +**1** Map.
- (ii) प्रश्न-पत्र में दाहिने हाथ की ओर दिए गए प्रश्न-पत्र कोड को परीक्षार्थी उत्तर-पुस्तिका के मुख-पृष्ठ पर लिखें ।
Q.P. Code given on the right hand side of the question paper should be written on the title page of the answer-book by the candidate.
- (iii) कृपया जाँच कर लें कि इस प्रश्न-पत्र में **13** प्रश्न हैं ।
Please check that this question paper contains **13** questions.
- (iv) कृपया प्रश्न का उत्तर लिखना शुरू करने से पहले, उत्तर-पुस्तिका में प्रश्न का क्रमांक अवश्य लिखें ।
Please write down the serial number of the question in the answer-book before attempting it.
- (v) इस प्रश्न-पत्र को पढ़ने के लिए 15 मिनट का समय दिया गया है । प्रश्न-पत्र का वितरण पूर्वाह्न में 10.15 बजे किया जाएगा । 10.15 बजे से 10.30 बजे तक छात्र केवल प्रश्न-पत्र को पढ़ेंगे और इस अवधि के दौरान वे उत्तर-पुस्तिका पर कोई उत्तर नहीं लिखेंगे ।
15 minute time has been allotted to read this question paper. The question paper will be distributed at 10.15 a.m. From 10.15 a.m. to 10.30 a.m., the students will read the question paper only and will not write any answer on the answer-book during this period.



सामाजिक विज्ञान
SOCIAL SCIENCE



निर्धारित समय : 2 घण्टे

Time allowed : 2 hours

अधिकतम अंक : 40

Maximum Marks : 40





सामान्य निर्देश:

निम्नलिखित निर्देशों को बहुत सावधानी से पढ़िए और उनका सख्ती से पालन कीजिए :

- (i) यह प्रश्न-पत्र पाँच खण्डों में विभाजित किया गया है – खण्ड क, ख, ग, घ और ङ । इस प्रश्न-पत्र में प्रश्नों की संख्या 13 है । सभी प्रश्न अनिवार्य हैं ।
- (ii) खण्ड क में प्रश्न संख्या 1 से 5 तक अति लघु-उत्तरीय प्रकार के प्रश्न हैं, प्रत्येक प्रश्न 2 अंकों का है । प्रत्येक प्रश्न का उत्तर 40 शब्दों से अधिक नहीं होना चाहिए ।
- (iii) खण्ड ख में प्रश्न संख्या 6 से 8 तक लघु-उत्तरीय प्रकार के प्रश्न हैं, प्रत्येक प्रश्न 3 अंकों का है । प्रत्येक प्रश्न का उत्तर 80 शब्दों से अधिक नहीं होना चाहिए ।
- (iv) खण्ड ग में प्रश्न संख्या 9 और 10 दीर्घ-उत्तरीय प्रकार के प्रश्न हैं । प्रत्येक प्रश्न 5 अंकों का है । प्रत्येक प्रश्न का उत्तर 120 शब्दों से अधिक नहीं होना चाहिए ।
- (v) खण्ड घ में प्रश्न संख्या 11 और 12 केस-आधारित प्रश्न हैं, प्रत्येक प्रश्न 4 अंकों का है ।
- (vi) खण्ड ङ में प्रश्न संख्या 13 मानचित्र-आधारित है । यह प्रश्न 3 अंकों का है जिसके दो भाग हैं – 13(क) इतिहास से (1 अंक) तथा 13(ख) भूगोल से (2 अंक) ।
- (vii) प्रश्न-पत्र में समग्र पर कोई विकल्प नहीं है । तथापि, कुछ प्रश्नों में आंतरिक विकल्प दिए गए हैं । ऐसे प्रश्नों में से केवल एक ही विकल्प का उत्तर लिखिए ।
- (viii) मानचित्र को अपनी उत्तर-पुस्तिका के साथ संलग्न कीजिए ।

खण्ड क

(अति लघु-उत्तरीय प्रश्न)

(5×2=10)

1. 1920 के पहले किसान वर्ग के लिए महात्मा गाँधी के दो सत्याग्रहों का उल्लेख कीजिए । 2
2. लोहा और इस्पात उद्योग अपनी पूर्ण क्षमता के अनुसार उत्पादन क्यों नहीं कर सका है ? उदाहरण सहित व्याख्या कीजिए । 2
3. निम्नलिखित तालिका को पढ़िए और उसके नीचे दिए गए प्रश्नों के उत्तर लिखिए :

भारतीय रेल नेटवर्क

| गेज मीटर में | रूट (किमी) | वहन मार्ग (किमी) | कुल मार्ग (किमी) |
|-----------------------------|---------------|------------------|------------------|
| बड़ी लाइन (1.676) | 63,491 | 89,521 | 1,17,560 |
| मीटर लाइन (1.000) | 3,200 | 3,462 | 3,775 |
| छोटी लाइन (0.762 तथा 0.610) | 1,751 | 1,752 | 1,901 |
| कुल | 68,442 | 94,735 | 1,23,236 |

- (3.1) भारत में पहाड़ी क्षेत्रों में किस गेज मार्ग की लंबाई अधिकतम है ? 1
- (3.2) भारत में किस लाइन की लंबाई सर्वाधिक है ? 1





General Instructions :

Read the following instructions very carefully and strictly follow them :

- (i) This question paper comprises **five** sections – **Sections A, B, C, D and E**. There are **13** questions in the question paper. **All** questions are compulsory.
- (ii) **Section A** – Questions no. **1 to 5** are very short answer type questions, carrying **2** marks each. Answer to each question should not exceed **40** words.
- (iii) **Section B** – Questions no. **6 to 8** are short answer type questions, carrying **3** marks each. Answer to each question should not exceed **80** words.
- (iv) **Section C** – Questions no. **9 and 10** are long answer type questions, carrying **5** marks each. Answer to each question should not exceed **120** words.
- (v) **Section D** – Questions no. **11 and 12** are case-based questions, carrying **4** marks each.
- (vi) **Section E** – Question no. **13** is map-based, carrying **3** marks with two parts, **13(a)** from History (**1** mark) and **13(b)** from Geography (**2** marks).
- (vii) There is no overall choice in the question paper. However, an internal choice has been provided in few questions. **Only one of the choices** in such questions have to be attempted.
- (viii) Attach **Map** along with your answer-book.

SECTION A

(Very Short Answer Type Questions)

(5×2=10)

1. Mention the two Satyagrahas of Mahatma Gandhi for the peasantry class before 1920. 2
2. Why has the iron and steel industry not been able to perform to its full potential ? Explain with example. 2
3. Read the following table and answer the questions that follow :

The Indian Railway network

| Gauge in metres | Route (km) | Running Track (km) | Total Track (km) |
|--------------------------------|---------------|--------------------|------------------|
| Broad Gauge (1.676) | 63,491 | 89,521 | 1,17,560 |
| Metre Gauge (1.000) | 3,200 | 3,462 | 3,775 |
| Narrow Gauge (0.762 and 0.610) | 1,751 | 1,752 | 1,901 |
| Total | 68,442 | 94,735 | 1,23,236 |

- (3.1) Which gauge covers maximum of track length in hilly areas in India ? 1
- (3.2) Which gauge has the highest length in India ? 1





4. एक सामंजस्यपूर्ण सामाजिक जीवन प्राप्त करने के लिए लोकतंत्र को किन दो शर्तों को पूरा करना चाहिए ? उल्लेख कीजिए । 2
5. उस स्थिति का विश्लेषण कीजिए जिसमें ऋण, ऋणकर्ता को ऐसी स्थिति में धकेलता है जिससे निकलना बहुत कष्टदायक होता है । 2

खण्ड ख
(लघु-उत्तरीय प्रश्न)

(3×3=9)

6. (क) विश्व व्यापार संगठन में विकासशील देशों के लिए हुई चर्चा की परख कीजिए । 3
- अथवा**
- (ख) भारत में विदेशी कंपनियों को निवेश के लिए आकर्षित करने के लिए केन्द्र और राज्य सरकारों द्वारा उठाए गए कदमों का परीक्षण कीजिए । 3
7. “अवध किसान संघर्ष के एकीकरण के साथ असहयोग आंदोलन व्यापक हो गया ।” कथन की व्याख्या तीन तर्कों से कीजिए । 3
8. “लोकतंत्र की अपने लिए समर्थन उत्पन्न करने की क्षमता स्वयं एक परिणाम ही है और इसकी अनदेखी नहीं की जा सकती ।” इस कथन का तीन उदाहरणों सहित विश्लेषण कीजिए । 3

खण्ड ग
(दीर्घ-उत्तरीय प्रश्न)

(2×5=10)

9. (क) “विश्वभर की लोकतांत्रिक व्यवस्थाओं में राजनीतिक दल सर्वव्यापी हो गए हैं ।” उदाहरणों सहित कथन की व्याख्या कीजिए । 1×5=5
- अथवा**
- (ख) “भारत में राजनीतिक दलों को मज़बूत करने के लिए कई सुधार किए गए हैं ताकि वे अपने कार्यों को अच्छी तरह से कर सकें ।” उदाहरणों सहित कथन की व्याख्या कीजिए । 1×5=5
10. (क) “सस्ता और सामर्थ्य के अनुकूल कर्ज़ देश के विकास के लिए अति आवश्यक है ।” इस कथन की व्याख्या कीजिए । 1×5=5
- अथवा**
- (ख) भारत में बैंकों के विभिन्न कार्यों को स्पष्ट कीजिए । 1×5=5





4. Mention the two conditions that democracy must fulfil in order to achieve a harmonious social life. 2
5. Analyse the situation in which credit pushes the borrower into a situation from which recovery is painful. 2

SECTION B

(Short Answer Type Questions)

(3×3=9)

6. (a) Examine the debate that took place in the World Trade Organisation for the developing countries. 3
- OR**
- (b) Examine the steps taken by the Central and State governments to attract foreign companies to invest in India. 3
7. “The Non-Cooperation Movement became wider with the integration of the Awadh Peasants Struggle.” Explain the statement with three arguments. 3
8. “Democracy’s ability to generate its own support is itself an outcome that cannot be ignored.” Analyse the statement with three examples. 3

SECTION C

(Long Answer Type Questions)

(2×5=10)

9. (a) “Political parties have become omnipresent in democracies all over the world.” Explain the statement with examples. 1×5=5
- OR**
- (b) “There are various reforms taken to strengthen parties in India so that they perform their function well.” Explain the statement with examples. 1×5=5
10. (a) “Cheap and affordable credit is crucial for the country’s development.” Explain the statement. 1×5=5
- OR**
- (b) Explain various functions of banks in India. 1×5=5





खण्ड घ

(केस-आधारित प्रश्न)

(2×4=8)

11. नीचे दिए गए केस को ध्यानपूर्वक पढ़िए और उसके नीचे दिए गए प्रश्नों के उत्तर लिखिए : 4

राष्ट्रीय ताप विद्युतगृह कॉरपोरेशन (NTPC) द्वारा दिखाया गया मार्ग

भारत में राष्ट्रीय ताप विद्युतगृह कॉरपोरेशन विद्युत प्रदान करने वाला मुख्य निगम है। इसके पास पर्यावरण प्रबंधन तंत्र (EMS) 14001 के लिए आई एस ओ (ISO) प्रमाण पत्र है। यह निगम प्राकृतिक पर्यावरण और संसाधन जैसे जल, खनिज तेल, गैस तथा ईंधन संरक्षण नीति का हिमायती है तथा इन्हें ध्यान में रखकर ही विद्युत संयंत्रों की स्थापना करता है।

ऐसा निम्न उपायों द्वारा संभव है :

- (क) आधुनिकतम तकनीकों पर आधारित उपकरणों का सही उपयोग करके तथा विद्यमान उपकरणों में सुधार करके।
- (ख) अधिकतम राख का इस्तेमाल कर अपशिष्ट पदार्थों का न्यून उत्पादन करना।
- (ग) पारिस्थितिकी संतुलन बनाए रखने के लिए हरित क्षेत्र की सुरक्षा तथा वृक्षारोपण के लिए प्रेरित करना।
- (घ) तरल अपशिष्ट प्रबंधन, राख-युक्त जलीय पुनर्चक्रण तथा राख-संग्रह (Ash pond) प्रबंधन द्वारा पर्यावरण प्रदूषण को कम करना।
- (ङ) सभी ऊर्जा संयंत्रों का पारिस्थितिकीय रूप से मॉनीटर तथा समीक्षा करना एवं ऑनलाइन आँकड़ों का प्रबंधन करना।

- (11.1) 'सतत पोषणीय विकास' को परिभाषित कीजिए। 1
- (11.2) आई.एस.ओ. (ISO) प्रमाणन के पीछे क्या विचार है? 1
- (11.3) राष्ट्रीय ताप विद्युतगृह कॉरपोरेशन (NTPC) के सक्रिय दृष्टिकोण की परख कीजिए। 2

12. नीचे दिए गए केस को ध्यानपूर्वक पढ़िए और उसके नीचे दिए गए प्रश्नों के उत्तर लिखिए : 4

सामूहिक अपनेपन की भावना

सामूहिक अपनेपन की यह भावना आंशिक रूप से संयुक्त संघर्षों के चलते पैदा हुई थी। इनके अलावा बहुत सारी सांस्कृतिक प्रक्रियाएँ भी थीं जिनके ज़रिए राष्ट्रवाद लोगों की कल्पना और दिलोदिमाग पर छा गया था। इतिहास व साहित्य, लोक कथाएँ व गीत, चित्र व प्रतीक, सभी ने राष्ट्रवाद को साकार करने में अपना योगदान दिया था।

जैसा कि आप जानते हैं, राष्ट्र की पहचान सबसे ज़्यादा किसी तसवीर में अंकित की जाती है। इससे लोगों को एक ऐसी छवि गढ़ने में मदद मिलती है जिसके ज़रिए वे राष्ट्र को पहचान सकते हैं। बीसवीं सदी में राष्ट्रवाद के विकास के साथ भारत की पहचान भी भारत माता की छवि का रूप लेने लगी। इस छवि के निर्माण का आरंभ बंकिम चन्द्र





SECTION D
(Case-based questions)

(2×4=8)

11. Read the case given below carefully and answer the questions that follow : 4

National Thermal Power Corporation (NTPC) shows the way

NTPC is a major power providing corporation in India. It has ISO certification for EMS (Environment Management System) 14001. The corporation has a proactive approach for preserving the natural environment and resources like water, oil, gas and fuels in places where it is setting up power plants.

This has been possible through :

- (a) Optimum utilisation of equipment adopting latest techniques and upgrading existing equipment.
- (b) Minimising waste generation by maximising ash utilisation.
- (c) Providing green belts for nurturing ecological balance and addressing the question of special purpose vehicles for afforestation.
- (d) Reducing environmental pollution through ash pond management, ash water recycling system and liquid waste management.
- (e) Ecological monitoring, reviews and online database management for all its power stations.

(11.1) Define the term 'sustainable development'. 1

(11.2) What is the idea behind ISO certification ? 1

(11.3) Examine the proactive approach of National Thermal Power Corporation (NTPC). 2

12. Read the case given below carefully and answer the questions that follow : 4

The Sense of Collective Belonging

This sense of collective belonging came partly through the experience of united struggles. But there were also a variety of cultural processes through which nationalism captured people's imagination. History and fiction, folklore and songs, popular prints and symbols, all played a part in the making of nationalism.

The identity of the nation, as you know, is most often symbolised in a figure or image. This helps create an image with which people can identify the nation. It was in the twentieth century, with the growth of nationalism, that the identity of India came to be visually associated with the image of Bharat Mata. The image was first created by Bankim





चट्टोपाध्याय ने किया था । 1870 के दशक में उन्होंने मातृभूमि की स्तुति के रूप में 'वन्दे मातरम्' गीत लिखा था । बाद में इसे उन्होंने अपने उपन्यास *आनन्दमठ* में शामिल कर लिया । यह गीत बंगाल में स्वदेशी आन्दोलन में खूब गाया गया । स्वदेशी आंदोलन की प्रेरणा से अबनीन्द्रनाथ टैगोर ने भारत माता की विख्यात छवि को चित्रित किया । इस पेंटिंग में भारत माता को एक संन्यासिनी के रूप में दर्शाया गया है । वह शांत, गंभीर, दैवी और अध्यात्मिक गुणों से युक्त दिखाई देती है । आगे चल कर जब इस छवि को बड़े पैमाने पर तसवीरों में उतारा जाने लगा और विभिन्न कलाकार यह तसवीर बनाने लगे तो भारत माता की छवि विविध रूप ग्रहण करती गई । इस मातृ छवि के प्रति श्रद्धा को राष्ट्रवाद में आस्था का प्रतीक माना जाने लगा ।

- (12.1) 'राष्ट्र' लोगों के मस्तिष्क में एक यथार्थ का रूप कैसे लेता है ? 1
- (12.2) राष्ट्रवाद ने लोगों की कल्पनाओं में कैसे रूप लिया ? 1
- (12.3) विभिन्न समुदायों के लोगों में सामूहिक अपनेपन का भाव किस प्रकार विकसित हुआ ? 2

खण्ड ड

(मानचित्र-आधारित प्रश्न)

(1+2=3)

13. (i) दिए गए भारत के राजनीतिक रेखा-मानचित्र (पृष्ठ 11 पर), में निम्नलिखित जानकारी की सहायता से 'A' के रूप में चिह्नित स्थान की पहचान कीजिए और उसके पास खींची गई रेखा पर उसका सही नाम लिखिए ।
- A. वह स्थान जहाँ जलियाँवाला बाग हत्याकांड हुआ था । 1
- (ii) दिए गए भारत के इसी रेखा-मानचित्र पर निम्नलिखित को अंकित कीजिए और उनके नाम लिखिए ।
- (क) (I) सिंगरौली तापीय ऊर्जा संयंत्र 1
- अथवा
- (II) मुंबई सॉफ्टवेयर टेक्नोलॉजी पार्क 1
- (ख) कोलकाता (नेताजी सुभाष चंद्र बोस) अंतर्राष्ट्रीय हवाई पत्तन 1

नोट : निम्नलिखित प्रश्न केवल दृष्टिबाधित परीक्षार्थियों के लिए प्रश्न संख्या 13 के स्थान पर हैं । 3×1=3

- (13.1) उस राज्य का नाम लिखिए जहाँ जलियाँवाला बाग हत्याकांड हुआ था । 1
- (13.2) (क) उस राज्य का नाम लिखिए जहाँ सिंगरौली तापीय ऊर्जा संयंत्र स्थित है । 1
- अथवा
- (ख) उस राज्य का नाम लिखिए जहाँ मुंबई सॉफ्टवेयर टेक्नोलॉजी पार्क स्थित है । 1
- (13.3) उस राज्य का नाम लिखिए जहाँ कोलकाता (नेताजी सुभाष चंद्र बोस) अंतर्राष्ट्रीय हवाई पत्तन स्थित है । 1





Chandra Chattopadhyay. In the 1870s he wrote 'Vande Mataram' as a hymn to the motherland. Later it was included in his novel *Anandamath* and widely sung during the Swadeshi movement in Bengal. Moved by the Swadeshi movement, Abanindranath Tagore painted his famous image of Bharat Mata. In this painting, Bharat Mata is portrayed as an ascetic figure; she is calm, composed, divine and spiritual. In subsequent years, the image of Bharat Mata acquired many different forms, as it circulated in popular prints, and was painted by different artists. Devotion to this mother figure came to be seen as evidence of one's nationalism.

- (12.1) How did the 'nation' become a reality in the minds of people ? 1
 (12.2) How did nationalism capture the people's imagination ? 1
 (12.3) How did people belonging to different groups develop a sense of collective belonging ? 2

SECTION E

(Map-based question)

(1+2=3)

13. (i) On the given political outline map of **India** (on page 11), identify the place marked as 'A' with the help of the following information and write its correct name on the line marked near it.
- A. The place where Jallianwala Bagh massacre took place. 1
- (ii) On the same given map of **India**, locate and label the following :
- (a) (I) Singrauli Thermal Plant 1
- OR**
- (II) Mumbai Software Technology Park 1
- (b) Kolkata (Netaji Subhash Chandra Bose) International Airport 1

Note : The following questions are for the **Visually Impaired Candidates** only, in lieu of Q. No. 13. 3×1=3

- (13.1) Name the State where Jallianwala Bagh massacre took place. 1
 (13.2) (a) Name the State where Singrauli Thermal Plant is located. 1
- OR**
- (b) Name the State where Mumbai Software Technology Park is located. 1
- (13.3) Name the State where Kolkata (Netaji Subhash Chandra Bose) International Airport is located. 1







प्रश्न सं. 13 के लिए

For question no. 13





Series : DQQPP/4

SET ~ 1

रोल नं.
Roll No.

| | | | | | | | |
|--|--|--|--|--|--|--|--|
| | | | | | | | |
|--|--|--|--|--|--|--|--|

प्रश्न-पत्र कोड
Q.P. Code **32/4/1**

परीक्षार्थी प्रश्न-पत्र कोड को उत्तर-पुस्तिका के मुख-पृष्ठ पर अवश्य लिखें।

Candidates must write the Q.P. Code on the title page of the answer-book.

नोट / NOTE :

- (i) कृपया जाँच कर लें कि इस प्रश्न-पत्र में मुद्रित पृष्ठ 12 (मानचित्र सहित) हैं।
Please check that this question paper contains 12 printed pages (Including Map).
- (ii) प्रश्न-पत्र में दाहिने हाथ की ओर दिए गए प्रश्न-पत्र कोड को छात्र उत्तर-पुस्तिका के मुख-पृष्ठ पर लिखें।
Q.P. Code number given on the right hand side of the question paper should be written on the title page of the answer-book by the candidate.
- (iii) कृपया जाँच कर लें कि इस प्रश्न-पत्र में 13 प्रश्न हैं।
Please check that this question paper contains 13 questions.
- (iv) कृपया प्रश्न का उत्तर लिखना शुरू करने से पहले, उत्तर-पुस्तिका में प्रश्न का क्रमांक अवश्य लिखें।
Please write down the Serial Number of the question in the answer-book before attempting it.
- (v) इस प्रश्न-पत्र को पढ़ने के लिए 15 मिनट का समय दिया गया है। प्रश्न-पत्र का वितरण पूर्वाह्न में 10.15 बजे किया जाएगा। 10.15 बजे से 10.30 बजे तक छात्र केवल प्रश्न-पत्र को पढ़ेंगे और इस अवधि के दौरान वे उत्तर-पुस्तिका पर कोई उत्तर नहीं लिखेंगे।
15 minute time has been allotted to read this question paper. The question paper will be distributed at 10.15 a.m. From 10.15 a.m. to 10.30 a.m., the candidates will read the question paper only and will not write any answer on the answer-book during this period. *



सामाजिक विज्ञान



SOCIAL SCIENCE

निर्धारित समय : 2 घण्टे

Time allowed : 2 hours

अधिकतम अंक : 40

Maximum Marks : 40

32/4/1

147 A

Page 1

P.T.O.

सामान्य निर्देश :

निम्नलिखित निर्देशों को बहुत सावधानी से पढ़िए और उनका सख्ती से पालन कीजिए :

- (i) इस प्रश्न-पत्र में कुल 13 प्रश्न हैं। सभी प्रश्न अनिवार्य हैं।
- (ii) प्रश्न-पत्र पाँच खण्डों में विभाजित है – क, ख, ग, घ एवं ङ।
- (iii) खण्ड-क में प्रश्न संख्या 1 से 5 तक अति लघु-उत्तरीय प्रकार के प्रश्न हैं और प्रत्येक प्रश्न 2 अंकों का है। इन प्रश्नों के उत्तर अधिकतम 40 शब्दों में दिए जाने चाहिए।
- (iv) खण्ड-ख में प्रश्न संख्या 6 से 8 तक लघु-उत्तरीय प्रकार के प्रश्न हैं और प्रत्येक प्रश्न 3 अंकों का है। इन प्रश्नों के उत्तर अधिकतम 80 शब्दों में दिए जाने चाहिए।
- (v) खण्ड-ग में प्रश्न संख्या 9 और 10 दीर्घ-उत्तरीय प्रकार के प्रश्न हैं। प्रत्येक प्रश्न 5 अंकों का है। इन प्रश्नों के उत्तर अधिकतम 120 शब्दों में दिए जाने चाहिए।
- (vi) खण्ड-घ में प्रश्न संख्या 11 और 12 केस आधारित प्रश्न हैं। प्रत्येक प्रश्न 4 अंकों का है।
- (vii) खण्ड-ङ में प्रश्न संख्या 13 मानचित्र आधारित प्रश्न है। यह प्रश्न 3 अंकों का है। यह दो भागों में विभाजित है – 13.1 इतिहास (1 अंक) और 13.2 भूगोल (2 अंक)।
- (viii) प्रश्न-पत्र में कोई समग्र विकल्प नहीं है। हालाँकि कुछ प्रश्नों में आंतरिक चयन के विकल्प दिए गए हैं। इन प्रश्नों में से किसी एक ही विकल्प का उत्तर लिखना है।

*

खण्ड – क

(अति लघु-उत्तरीय प्रश्न)

2 × 5 = 10

1. महात्मा गांधीजी ने 1917 में बिहार के चम्पारन इलाके का दौरा क्यों किया ? स्पष्ट कीजिए। 2
2. भारत में राष्ट्रीय राजमार्गों के महत्त्व की व्याख्या कीजिए। 2
3. कच्चे माल के स्रोत के आधार उद्योगों को वर्गीकृत कीजिए। 2
4. एक दलीय व्यवस्था, दो दलीय व्यवस्था से किस प्रकार भिन्न है ? उदाहरणों सहित स्पष्ट कीजिए। 2
5. आवश्यकताओं का दोहरा संयोग किस प्रकार पैदा होता है ? 2



—————

General Instructions :

Read the following instructions very carefully and strictly follow them.

- (i) *There are **13** questions in the question paper. All questions are compulsory.*
- (ii) *This question paper is divided into **5 Sections – A, B, C, D and E.***
- (iii) ***Section A** – Question no. **1 to 5** are very short answer type questions of **2** marks each. Answer to each question should not exceed **40** words.*
- (iv) ***Section B** – Question no. **6 to 8** are short answer type questions, carrying **3** marks each. Answer to each question should not exceed **80** words.*
- (v) ***Section C** – Question no. **9 and 10** are long answer type questions, carrying **5** marks each. Answer to each question should not exceed **120** words.*
- (vi) ***Section D** – Question no. **11 and 12** are Case Based questions, carrying **4** marks each.*
- (vii) ***Section E** – Question no. **13** is map based, carrying **3** marks with two parts, **13.1** from History (**1** mark) and **13.2** from Geography (**2** marks).*
- (viii) *There is no overall choice in the question paper. However, an internal choice has been provided in a few questions. Only **one** of the choices in such questions have to be attempted.*

SECTION – A

(Very Short Answer Questions)

2 × 5 = 10

1. Why did Mahatma Gandhiji travel to Champaran in Bihar in 1917 ?
Explain. **2**
2. Explain the importance of National Highways in India. **2**
3. Classify industries on the basis of source of raw materials. **2**
4. How is one-party system different from two-party system ? Explain with examples. **2**
5. How do double coincidence of wants arise ? **2**



खण्ड – ख
(लघु-उत्तरीय प्रश्न)

3 × 3 = 9

6. (क) फरवरी 1922 में महात्मा गांधी ने असहयोग आंदोलन को वापस लेने का निश्चय क्यों किया ? स्पष्ट कीजिए । 3

अथवा

(ख) प्रथम विश्व युद्ध ने किस प्रकार भारत में नई आर्थिक स्थिति पैदा की ? स्पष्ट कीजिए ।

7. आर्थिक संवृद्धि और विकास के संदर्भ में लोकतांत्रिक व्यवस्थाओं के परिणामों का विश्लेषण कीजिए । 3

8. तीन महत्वपूर्ण 'ऋण की शर्तों' की व्याख्या कीजिए । 3

खण्ड – ग
(दीर्घ-उत्तरीय प्रश्न)

5 × 2 = 10

9. (क) भारत में राजनीतिक दलों के समक्ष किन्हीं पाँच प्रमुख चुनौतियों की परख कीजिए । 5

अथवा

(ख) "लोकतांत्रिक देशों में राजनीतिक दल महत्वपूर्ण भूमिका निभाते हैं ।" इस कथन को न्यायसंगत ठहराइये । 5

10. (क) हाल ही के वर्षों में हमारे बाजार पूर्णतः किस प्रकार परिवर्तित हो गये हैं ? उदाहरणों सहित स्पष्ट कीजिए । 5

अथवा

(ख) बहुराष्ट्रीय कंपनियाँ किस प्रकार देशों के उत्पादनों को एक दूसरे से जोड़ती हैं ? उदाहरणों सहित स्पष्ट कीजिए । 5

खण्ड – घ
(केस आधारित प्रश्न)

4 × 2 = 8

11. दिए गए केस का पठन कीजिए और उसके नीचे दिए गए प्रश्नों के उत्तर लिखिए :

सत्याग्रह पर महात्मा गांधी के विचार

'कहा जाता है कि "निष्क्रिय प्रतिरोध" दुर्बलों का हथियार है । लेकिन इस लेख में जिस शक्ति की बात की गई है उसे केवल ताकतवर ही इस्तेमाल कर सकते हैं । यह निष्क्रिय प्रतिरोध की शक्ति नहीं है; इसके लिए तो सघन सक्रियता चाहिए । दक्षिण अफ्रीका का आंदोलन निष्क्रिय नहीं बल्कि सक्रिय आंदोलन था ... ।'



SECTION – B

(Short Answer type Questions)

3 × 3 = 9

6. (a) Why did Mahatma Gandhi decide to withdraw the Non-Cooperation Movement in February 1922 ? Explain. **3**

OR

- (b) How did the First World War create a new economic situation in India ? Explain.
7. Analyse the outcomes of democracies in terms of economic growth and development. **3**
8. Explain the three important 'terms of Credit'. **3**

SECTION – C

(Long Answer Type Questions)

5 × 2 = 10

9. (a) Examine any five major challenges faced by the political parties in India. **5**

OR

- (b) "Political parties play an important role in democratic countries." Justify the statement. **5**
10. (a) How are our markets transformed in recent years ? Explain with examples. **5**
- OR**
- (b) How do Multi National Corporations (MNCs) interlink production across countries ? Explain with examples. **5**

SECTION – D

(Case Based Questions)

4 × 2 = 8

11. Read the given case and answer the questions that follow :

Mahatma Gandhi's thoughts on Satyagraha

'It is said of "passive resistance" that it is the weapon of the weak, but the power which is the subject of this article can be used only by the strong. This power is not passive resistance; indeed it calls for intense activity. The movement in South Africa was not passive but active ...'



‘सत्याग्रह शारीरिक बल नहीं है। सत्याग्रही अपने शत्रु को कष्ट नहीं पहुँचाता; वह अपने शत्रु का विनाश नहीं चाहता। ... सत्याग्रह के प्रयोग में दुर्भावना के लिए कोई स्थान नहीं होता।’

‘सत्याग्रह तो शुद्ध आत्मबल है। सत्य ही आत्मा का आधार होता है। इसीलिए इस बल को सत्याग्रह का नाम दिया गया है। आत्मा ज्ञान से हमेशा लैस होती है। इसमें प्यार की लौ जलती है ...। अहिंसा सर्वोच्च धर्म है ...।’

‘इसमें कोई संदेह नहीं कि भारत विनाशकारी शस्त्रों के मामले में ब्रिटेन या यूरोप का मुकाबला नहीं कर सकता। अंग्रेज़ युद्ध के देवता की उपासना करते हैं। वे सब हथियारों से लैस हो सकते हैं, होते जा रहे हैं। भारत में करोड़ों लोग कभी हथियार लेकर नहीं चल सकते। उन्होंने अहिंसा के धर्म को आत्मसात् कर लिया है ...।’

- (11.1) गांधीजी ने दक्षिण अफ्रीका में किस प्रकार का आन्दोलन आयोजित किया था ? 1
- (11.2) सत्याग्रह को ‘शुद्ध आत्मबल’ क्यों माना जाता है ? 1
- (11.3) गांधीजी ने ‘निष्क्रिय प्रतिरोध’ का किस प्रकार वर्णन किया है ? 2

12. दिए गए केस का पठन कीजिए और उसके नीचे दिए गए प्रश्नों के उत्तर लिखिए :

पटसन उद्योग की चुनौतियों में अंतर्राष्ट्रीय बाज़ार में कृत्रिम वस्त्रों से और बांग्लादेश, ब्राजील फिलीपीन्स, मिस्र तथा थाईलैंड जैसे अन्य देशों से कड़ी प्रतिस्पर्धा शामिल है। यद्यपि पटसन पैकिंग की अनिवार्य प्रयोग की सरकारी नीति के कारण इसकी घरेलू माँग बढ़ी है तथापि माँग बढ़ाने हेतु उत्पाद में विविधता भी आवश्यक है। 2005 में, पटसन के किसानों के लिए उच्च कीमत सुनिश्चित करने, उनके प्रति हेक्टर उत्पादन में वृद्धि करने उत्पादकता में वृद्धि करने तथा गुणवत्ता में सुधार करने के उद्देश्य से राष्ट्रीय पटसन नीति का निर्माण किया गया था। पटसन के प्रमुख खरीददार-अमेरिका, कनाडा, घाना, सऊदी अरब, यूनाइटेड किंगडम और ऑस्ट्रेलिया हैं। बढ़ते वैश्विक पर्यावरण अनुकूलन, जैवनिम्नीकरणीय पदार्थों के लिए विश्व की बढ़ती जागरूकता ने पुनः जूट उत्पादों के लिए अवसर प्रदान किया है।

- (12.1) भारत में पटसन उद्योग के समक्ष किन्हीं दो चुनौतियों का उल्लेख कीजिए। 1
- (12.2) सन् 2005 में बनाई राष्ट्रीय पटसन नीति का मुख्य उद्देश्य क्या था ? 1
- (12.3) पटसन उद्योग ने पुनः अपने उत्पादों के लिए किस प्रकार नये अवसर प्रदान किए हैं ? 2



खण्ड – ड

(मानचित्र आधारित प्रश्न)

3

13. (13.1) भारत के दिए गए राजनीतिक रेखा मानचित्र में स्थान (A) की पहचान निम्नलिखित जानकारी की मदद से कीजिए एवं उसका सही नाम समीप दी गई रेखा पर लिखिए।

(A) वह स्थान जहाँ राष्ट्रीय कांग्रेस का अधिवेशन सितम्बर 1920 में हुआ था।

(13.2) भारत के इसी मानचित्र पर निम्नलिखित को उपयुक्त चिह्न से अंकित कीजिए और उसका नाम लिखिए।

(i) (क) तारापुर – आणविक संयंत्र

अथवा

(ख) कलपक्कम – आणविक संयंत्र

(ii) हैदराबाद – राजीव गांधी अन्तर्राष्ट्रीय हवाई पत्तन

नोट : निम्नलिखित प्रश्न केवल दृष्टिबाधित परीक्षार्थियों के लिए प्रश्न संख्या 13.1 व 13.2 के स्थान पर है।

(13.1) उस स्थान का नाम लिखिए जहाँ सितंबर 1920 में भारतीय राष्ट्रीय कांग्रेस का अधिवेशन हुआ था।

1

(13.2) (क) उस राज्य का नाम लिखिए जहाँ तारापुर आणविक ऊर्जा संयंत्र स्थित है।

1

अथवा

(ख) उस राज्य का नाम लिखिए जहाँ कलपक्कम आणविक ऊर्जा संयंत्र स्थित है।

(13.3) उस राज्य का नाम लिखिए जहाँ राजीव गांधी अंतर्राष्ट्रीय हवाई पत्तन स्थित है।

1



SECTION - E

(Map Based Question)

3

13. (13.1) On the given outline political Map of India, identify the place marked as (A) with the help of following information and write its correct name on the line marked near it.

(A) The place where National Congress Session was held in September 1920.

(13.2) On the same given Map of India, locate and label the following with appropriate symbols.

(i) (a) Tarapur – Nuclear Power Plant

OR

(b) Kalpakkam – Nuclear Power Plant

(ii) Hyderabad – Rajiv Gandhi International Airport

Note : The following question is for Visually Impaired Candidates only in Lieu of Q. No. 13.1 and 13.2

(13.1) Name the place where the Indian National Congress session was held in September 1920. **1**

(13.2) (a) Name the State where Tarapur Nuclear Power Plant is located. **1**

OR

(b) Name the State where Kalpakkam Nuclear Power Plant is located.

(13.3) In which State Rajiv Gandhi International Airport is located? **1**







प्रश्न सं. 13 के लिए मानचित्र
Map for Q. No. 13

----- यहाँ से काटें ----- Cut Here ----- यहाँ से काटें -----





*





Series : DQQPP/4

SET ~ 2

रोल नं.
Roll No.

| | | | | | | | |
|--|--|--|--|--|--|--|--|
| | | | | | | | |
|--|--|--|--|--|--|--|--|

प्रश्न-पत्र कोड
Q.P. Code **32/4/2**

परीक्षार्थी प्रश्न-पत्र कोड को उत्तर-पुस्तिका के मुख-पृष्ठ पर अवश्य लिखें।

Candidates must write the Q.P. Code on the title page of the answer-book.

नोट / NOTE :

- (i) कृपया जाँच कर लें कि इस प्रश्न-पत्र में मुद्रित पृष्ठ 12 (मानचित्र सहित) हैं।
Please check that this question paper contains 12 printed pages (Including Map).
- (ii) प्रश्न-पत्र में दाहिने हाथ की ओर दिए गए प्रश्न-पत्र कोड को छात्र उत्तर-पुस्तिका के मुख-पृष्ठ पर लिखें।
Q.P. Code number given on the right hand side of the question paper should be written on the title page of the answer-book by the candidate.
- (iii) कृपया जाँच कर लें कि इस प्रश्न-पत्र में 13 प्रश्न हैं।
Please check that this question paper contains 13 questions.
- (iv) कृपया प्रश्न का उत्तर लिखना शुरू करने से पहले, उत्तर-पुस्तिका में प्रश्न का क्रमांक अवश्य लिखें।
Please write down the Serial Number of the question in the answer-book before attempting it.
- (v) इस प्रश्न-पत्र को पढ़ने के लिए 15 मिनट का समय दिया गया है। प्रश्न-पत्र का वितरण पूर्वाह्न में 10.15 बजे किया जाएगा। 10.15 बजे से 10.30 बजे तक छात्र केवल प्रश्न-पत्र को पढ़ेंगे और इस अवधि के दौरान वे उत्तर-पुस्तिका पर कोई उत्तर नहीं लिखेंगे।
15 minute time has been allotted to read this question paper. The question paper will be distributed at 10.15 a.m. From 10.15 a.m. to 10.30 a.m., the candidates will read the question paper only and will not write any answer on the answer-book during this period. *



सामाजिक विज्ञान



SOCIAL SCIENCE

निर्धारित समय : 2 घण्टे

Time allowed : 2 hours

अधिकतम अंक : 40

Maximum Marks : 40

32/4/2

147 B

Page 1

P.T.O.

सामान्य निर्देश :

निम्नलिखित निर्देशों को बहुत सावधानी से पढ़िए और उनका सख्ती से पालन कीजिए :

- (i) इस प्रश्न-पत्र में कुल 13 प्रश्न हैं। सभी प्रश्न अनिवार्य हैं।
- (ii) प्रश्न-पत्र पाँच खण्डों में विभाजित है – क, ख, ग, घ एवं ङ।
- (iii) खण्ड-क में प्रश्न संख्या 1 से 5 तक अति लघु-उत्तरीय प्रकार के प्रश्न हैं और प्रत्येक प्रश्न 2 अंकों का है। इन प्रश्नों के उत्तर अधिकतम 40 शब्दों में दिए जाने चाहिए।
- (iv) खण्ड-ख में प्रश्न संख्या 6 से 8 तक लघु-उत्तरीय प्रकार के प्रश्न हैं और प्रत्येक प्रश्न 3 अंकों का है। इन प्रश्नों के उत्तर अधिकतम 80 शब्दों में दिए जाने चाहिए।
- (v) खण्ड-ग में प्रश्न संख्या 9 और 10 दीर्घ-उत्तरीय प्रकार के प्रश्न हैं। प्रत्येक प्रश्न 5 अंकों का है। इन प्रश्नों के उत्तर अधिकतम 120 शब्दों में दिए जाने चाहिए।
- (vi) खण्ड-घ में प्रश्न संख्या 11 और 12 केस आधारित प्रश्न हैं। प्रत्येक प्रश्न 4 अंकों का है।
- (vii) खण्ड-ङ में प्रश्न संख्या 13 मानचित्र आधारित प्रश्न है। यह प्रश्न 3 अंकों का है। यह दो भागों में विभाजित है – 13.1 इतिहास (1 अंक) और 13.2 भूगोल (2 अंक)।
- (viii) प्रश्न-पत्र में कोई समग्र विकल्प नहीं है। हालाँकि कुछ प्रश्नों में आंतरिक चयन के विकल्प दिए गए हैं। इन प्रश्नों में से किसी एक ही विकल्प का उत्तर लिखना है।

*

खण्ड – क

(अति लघु-उत्तरीय प्रश्न)

2 × 5 = 10

1. भारत में सन् 1928 में साइमन कमीशन का किस प्रकार से स्वागत किया गया ? व्याख्या कीजिए। 2
2. एक दलीय व्यवस्था, दो दलीय व्यवस्था से किस प्रकार भिन्न है ? उदाहरणों सहित स्पष्ट कीजिए। 2
3. आधारभूत उद्योग एवं उपभोक्ता उद्योग में अंतर स्पष्ट कीजिए। 2
4. आवश्यकताओं का दोहरा संयोग किस प्रकार पैदा होता है ? 2
5. भारत में राष्ट्रीय राजमार्गों के महत्त्व की व्याख्या कीजिए। 2



—————

General Instructions :

Read the following instructions very carefully and strictly follow them.

- (i) *There are **13** questions in the question paper. **All** questions are compulsory.*
- (ii) *This question paper is divided into **5 Sections – A, B, C, D and E.***
- (iii) ***Section A** – Question no. **1 to 5** are very short answer type questions of **2** marks each. Answer to each question should not exceed **40** words.*
- (iv) ***Section B** – Question no. **6 to 8** are short answer type questions, carrying **3** marks each. Answer to each question should not exceed **80** words.*
- (v) ***Section C** – Question no. **9 and 10** are long answer type questions, carrying **5** marks each. Answer to each question should not exceed **120** words.*
- (vi) ***Section D** – Question no. **11 and 12** are Case Based questions, carrying **4** marks each.*
- (vii) ***Section E** – Question no. **13** is map based, carrying **3** marks with two parts, **13.1** from History (**1** mark) and **13.2** from Geography (**2** marks).*
- (viii) *There is no overall choice in the question paper. However, an internal choice has been provided in a few questions. Only **one** of the choices in such questions have to be attempted.*

SECTION – A

(Very Short Answer Questions)

2 × 5 = 10

1. How was the Simon Commission greeted in India in 1928 ? Explain. **2**
2. How is one-party system different from two-party system ? Explain with examples. **2**
3. Differentiate between basic and consumer industries. **2**
4. How do double coincidence of wants arise ? **2**
5. Explain the importance of National Highways in India. **2**



खण्ड – ख

(लघु-उत्तरीय प्रश्न)

3 × 3 = 9

6. (क) फरवरी 1922 में महात्मा गांधी ने असहयोग आंदोलन को वापस लेने का निश्चय क्यों किया ? स्पष्ट कीजिए। 3

अथवा

- (ख) प्रथम विश्व युद्ध ने किस प्रकार भारत में नई आर्थिक स्थिति पैदा की ? स्पष्ट कीजिए।
7. 'लोकतांत्रिक सरकारें किसी भी अन्य प्रकार की सरकारों से बेहतर होती हैं।' इस कथन को न्यायसंगत ठहराइए। 3
8. तीन महत्त्वपूर्ण 'ऋण की शर्तों' की व्याख्या कीजिए। 3

खण्ड – ग

(दीर्घ-उत्तरीय प्रश्न)

5 × 2 = 10

9. (क) भारत में राजनीतिक दलों के समक्ष किन्हीं पाँच प्रमुख चुनौतियों की परख कीजिए। 5

अथवा

- (ख) "लोकतांत्रिक देशों में राजनीतिक दल महत्त्वपूर्ण भूमिका निभाते हैं।" इस कथन को न्यायसंगत ठहराइये। 5
10. (क) "सन् 1991 में विदेश व्यापार एवं विदेशी निवेश पर से अवरोधों को काफी हद तक हटा दिया गया है।" इस कथन का भारत के संदर्भ में विश्लेषण कीजिए। 5

अथवा

- (ख) "लम्बे समय से विदेश व्यापार देशों को आपस में जोड़ने का मुख्य माध्यम रहा है।" इस कथन का विश्लेषण कीजिए। 5

खण्ड – घ

(केस आधारित प्रश्न)

4 × 2 = 8

11. दिए गए केस का पठन कीजिए और उसके नीचे दिए गए प्रश्नों के उत्तर लिखिए :
- पटसन उद्योग की चुनौतियों में अंतर्राष्ट्रीय बाजार में कृत्रिम वस्त्रों से और बांग्लादेश, ब्राजील फिलीपीन्स, मिस्र तथा थाईलैंड जैसे अन्य देशों से कड़ी प्रतिस्पर्धा शामिल है। यद्यपि पटसन पैकिंग की अनिवार्य प्रयोग की सरकारी नीति के कारण इसकी घरेलू माँग बढ़ी है तथापि माँग बढ़ाने हेतु उत्पाद में विविधता भी आवश्यक है। 2005 में, पटसन के किसानों के लिए उच्च कीमत सुनिश्चित करने, उनके प्रति हेक्टर उत्पादन में वृद्धि करने उत्पादकता में वृद्धि करने तथा गुणवत्ता में सुधार करने के उद्देश्य से राष्ट्रीय पटसन नीति का निर्माण किया गया था। पटसन के प्रमुख खरीददार-अमेरिका, कनाडा, घाना, सऊदी अरब, यूनाइटेड किंगडम और ऑस्ट्रेलिया हैं। बढ़ते वैश्विक पर्यावरण अनुकूलन, जैवनिम्नीकरणीय पदार्थों के लिए विश्व की बढ़ती जागरूकता ने पुनः जूट उत्पादों के लिए अवसर प्रदान किया है।



SECTION – B

(Short Answer type Questions)

3 × 3 = 9

6. (a) Why did Mahatma Gandhi decide to withdraw the Non-Cooperation Movement in February 1922 ? Explain. 3

OR

- (b) How did the First World War create a new economic situation in India ? Explain.
7. “Democratic governments are better than any other form of governments.” Justify the statement. 3
8. Explain the three important ‘terms of Credit’. 3

SECTION – C

(Long Answer Type Questions)

5 × 2 = 10

9. (a) Examine any five major challenges faced by the political parties in India. 5

OR

- (b) “Political parties play an important role in democratic countries.” Justify the statement. 5
10. (a) “Barriers on foreign trade and foreign investment were removed to a large extent in 1991.” Analyse the statement in the context of India. 5
- OR**
- (b) “Foreign trade has been the main channel of connecting countries for a long time.” Analyse the statement. 5

SECTION – D

(Case Based Questions)

4 × 2 = 8

11. Read the given case and answer the questions that follow :

Challenges faced by the Jute industry include stiff competition in the international market from synthetic substitutes and from other competitors like Bangladesh, Brazil, Philippines, Egypt and Thailand. However, the internal demand has been on the increase due to the Government policy of mandatory use of jute packaging. To stimulate demand, the products need to be diversified. In 2005, National Jute Policy was formulated with the objective of increasing productivity, improving quality, ensuring good prices to the jute farmers and enhancing the yield per hectare. The main markets are U.S.A., Canada, Russia, United Arab Republic, U.K. and Australia. The growing global concern for environment friendly, biodegradable materials, has once again opened the opportunity for jute products.



- (11.1) भारत में पटसन उद्योग के समक्ष किन्हीं दो चुनौतियों का उल्लेख कीजिए । 1
- (11.2) सन् 2005 में बनाई राष्ट्रीय पटसन नीति का मुख्य उद्देश्य क्या था ? 1
- (11.3) पटसन उद्योग ने पुनः अपने उत्पादों के लिए किस प्रकार नये अवसर प्रदान किए हैं ? 2

12. दिए गए केस का पठन कीजिए और उसके नीचे दिए गए प्रश्नों के उत्तर लिखिए :

सत्याग्रह पर महात्मा गांधी के विचार

‘कहा जाता है कि “निष्क्रिय प्रतिरोध” दुर्बलों का हथियार है । लेकिन इस लेख में जिस शक्ति की बात की गई है उसे केवल ताकतवर ही इस्तेमाल कर सकते हैं । यह निष्क्रिय प्रतिरोध की शक्ति नहीं है; इसके लिए तो सघन सक्रियता चाहिए । दक्षिण अफ्रीका का आंदोलन निष्क्रिय नहीं बल्कि सक्रिय आंदोलन था ... ।’

‘सत्याग्रह शारीरिक बल नहीं है । सत्याग्रही अपने शत्रु को कष्ट नहीं पहुँचाता; वह अपने शत्रु का विनाश नहीं चाहता । ... सत्याग्रह के प्रयोग में दुर्भावना के लिए कोई स्थान नहीं होता ।’

‘सत्याग्रह तो शुद्ध आत्मबल है । सत्य ही आत्मा का आधार होता है । इसीलिए इस बल को सत्याग्रह का नाम दिया गया है । आत्मा ज्ञान से हमेशा लैस होती है । इसमें प्यार की लौ जलती है ... । अहिंसा सर्वोच्च धर्म है ... ।’

‘इसमें कोई संदेह नहीं कि भारत विनाशकारी शस्त्रों के मामले में ब्रिटेन या यूरोप का मुकाबला नहीं कर सकता । अंग्रेज़ युद्ध के देवता की उपासना करते हैं । वे सब हथियारों से लैस हो सकते हैं, होते जा रहे हैं । भारत में करोड़ों लोग कभी हथियार लेकर नहीं चल सकते । उन्होंने अहिंसा के धर्म को आत्मसात् कर लिया है ... ।’

- (12.1) गांधीजी ने दक्षिण अफ्रीका में किस प्रकार का आन्दोलन आयोजित किया था ? 1
- (12.2) सत्याग्रह को ‘शुद्ध आत्मबल’ क्यों माना जाता है ? 1
- (12.3) गांधीजी ने ‘निष्क्रिय प्रतिरोध’ का किस प्रकार वर्णन किया है ? 2

खण्ड – ड

(मानचित्र आधारित प्रश्न)

3

13. (13.1) भारत के दिए गए राजनीतिक रेखा मानचित्र में स्थान (A) की पहचान निम्नलिखित जानकारी की मदद से कीजिए एवं उसका सही नाम समीप दी गई रेखा पर लिखिए ।
- (A) वह स्थान जहाँ राष्ट्रीय कांग्रेस का अधिवेशन सितम्बर 1920 में हुआ था ।
- (13.2) भारत के इसी मानचित्र पर निम्नलिखित को उपयुक्त चिह्न से अंकित कीजिए और उसका नाम लिखिए ।

(i) (क) तारापुर – आणविक संयंत्र

अथवा

(ख) कलपक्कम – आणविक संयंत्र

(ii) हैदराबाद – राजीव गांधी अन्तर्राष्ट्रीय हवाई पत्तन



-
- (11.1) Mention any two challenges faced by 'jute industry' in India. 1
- (11.2) What was the main objective of National Jute Policy formulated in 2005 ? 1
- (11.3) How has jute industry once again opened the new opportunities for its products ? 2

12. Read the given case and answer the questions that follow :

Mahatma Gandhi's thoughts on Satyagraha

'It is said of "passive resistance" that it is the weapon of the weak, but the power which is the subject of this article can be used only by the strong. This power is not passive resistance; indeed it calls for intense activity. The movement in South Africa was not passive but active ...'

'Satyagraha is not physical force. A satyagrahi does not inflict pain on the adversary; he does not seek his destruction ... In the use of satyagraha, there is no ill-will whatever.'

'Satyagraha is pure soul-force. Truth is the very substance of the soul. That is why this force is called satyagraha. The soul is informed with knowledge. In it burns the flame of love ... Non-violence is the supreme dharma ...'

'It is certain that India cannot rival Britain or Europe in force of arms. The British worship the war-god and they can all of them become, as they are becoming, bearers of arms. The hundreds of millions in India can never carry arms. They have made the religion of non-violence their own ...'

- (12.1) What type of movement Gandhiji organised in South Africa ? 1
- (12.2) Why is satyagraha considered as pure soul-force ? 1
- (12.3) How has Gandhiji described passive resistance ? 2

SECTION – E

(Map Based Question)

13. (13.1) On the given outline political Map of India, identify the place marked as (A) with the help of following information and write its correct name on the line marked near it. 3
- (A) The place where National Congress Session was held in September 1920.
- (13.2) On the same given Map of India, locate and label the following with appropriate symbols.
- (i) (a) Tarapur – Nuclear Power Plant
- OR**
- (b) Kalpakkam – Nuclear Power Plant
- (ii) Hyderabad – Rajiv Gandhi International Airport



नोट : निम्नलिखित प्रश्न केवल दृष्टिबाधित परीक्षार्थियों के लिए प्रश्न संख्या 13.1 व 13.2 के स्थान पर है ।

- (13.1) उस स्थान का नाम लिखिए जहाँ सितंबर 1920 में भारतीय राष्ट्रीय काँग्रेस का अधिवेशन हुआ था । 1
- (13.2) (क) उस राज्य का नाम लिखिए जहाँ तारापुर आणविक ऊर्जा संयंत्र स्थित है । 1
- अथवा**
- (ख) उस राज्य का नाम लिखिए जहाँ कलपक्कम आणविक ऊर्जा संयंत्र स्थित है ।
- (13.3) उस राज्य का नाम लिखिए जहाँ राजीव गांधी अंतर्राष्ट्रीय हवाई पत्तन स्थित है । 1
-







प्रश्न सं. 13 के लिए मानचित्र
Map for Q. No. 13

----- Cut Here ----- यहाँ से काटें ----- Cut Here ----- यहाँ से काटें -----





*





Series : DQQPP/4

SET ~ 3

रोल नं.
Roll No.

| | | | | | | | |
|--|--|--|--|--|--|--|--|
| | | | | | | | |
|--|--|--|--|--|--|--|--|

प्रश्न-पत्र कोड
Q.P. Code **32/4/3**

परीक्षार्थी प्रश्न-पत्र कोड को उत्तर-पुस्तिका के मुख-पृष्ठ पर अवश्य लिखें।

Candidates must write the Q.P. Code on the title page of the answer-book.

नोट / NOTE :

- (i) कृपया जाँच कर लें कि इस प्रश्न-पत्र में मुद्रित पृष्ठ 12 (मानचित्र सहित) हैं।
Please check that this question paper contains 12 printed pages (Including Map).
- (ii) प्रश्न-पत्र में दाहिने हाथ की ओर दिए गए प्रश्न-पत्र कोड को छात्र उत्तर-पुस्तिका के मुख-पृष्ठ पर लिखें।
Q.P. Code number given on the right hand side of the question paper should be written on the title page of the answer-book by the candidate.
- (iii) कृपया जाँच कर लें कि इस प्रश्न-पत्र में 13 प्रश्न हैं।
Please check that this question paper contains 13 questions.
- (iv) कृपया प्रश्न का उत्तर लिखना शुरू करने से पहले, उत्तर-पुस्तिका में प्रश्न का क्रमांक अवश्य लिखें।
Please write down the Serial Number of the question in the answer-book before attempting it.
- (v) इस प्रश्न-पत्र को पढ़ने के लिए 15 मिनट का समय दिया गया है। प्रश्न-पत्र का वितरण पूर्वाह्न में 10.15 बजे किया जाएगा। 10.15 बजे से 10.30 बजे तक छात्र केवल प्रश्न-पत्र को पढ़ेंगे और इस अवधि के दौरान वे उत्तर-पुस्तिका पर कोई उत्तर नहीं लिखेंगे।
15 minute time has been allotted to read this question paper. The question paper will be distributed at 10.15 a.m. From 10.15 a.m. to 10.30 a.m., the candidates will read the question paper only and will not write any answer on the answer-book during this period. *



सामाजिक विज्ञान



SOCIAL SCIENCE

निर्धारित समय : 2 घण्टे

Time allowed : 2 hours

अधिकतम अंक : 40

Maximum Marks : 40

32/4/3

147 C

Page 1

P.T.O.

सामान्य निर्देश :

निम्नलिखित निर्देशों को बहुत सावधानी से पढ़िए और उनका सख्ती से पालन कीजिए :

- (i) इस प्रश्न-पत्र में कुल 13 प्रश्न हैं। सभी प्रश्न अनिवार्य हैं।
- (ii) प्रश्न-पत्र पाँच खण्डों में विभाजित है – क, ख, ग, घ एवं ङ।
- (iii) खण्ड-क में प्रश्न संख्या 1 से 5 तक अति लघु-उत्तरीय प्रकार के प्रश्न हैं और प्रत्येक प्रश्न 2 अंकों का है। इन प्रश्नों के उत्तर अधिकतम 40 शब्दों में दिए जाने चाहिए।
- (iv) खण्ड-ख में प्रश्न संख्या 6 से 8 तक लघु-उत्तरीय प्रकार के प्रश्न हैं और प्रत्येक प्रश्न 3 अंकों का है। इन प्रश्नों के उत्तर अधिकतम 80 शब्दों में दिए जाने चाहिए।
- (v) खण्ड-ग में प्रश्न संख्या 9 और 10 दीर्घ-उत्तरीय प्रकार के प्रश्न हैं। प्रत्येक प्रश्न 5 अंकों का है। इन प्रश्नों के उत्तर अधिकतम 120 शब्दों में दिए जाने चाहिए।
- (vi) खण्ड-घ में प्रश्न संख्या 11 और 12 केस आधारित प्रश्न हैं। प्रत्येक प्रश्न 4 अंकों का है।
- (vii) खण्ड-ङ में प्रश्न संख्या 13 मानचित्र आधारित प्रश्न है। यह प्रश्न 3 अंकों का है। यह दो भागों में विभाजित है – 13.1 इतिहास (1 अंक) और 13.2 भूगोल (2 अंक)।
- (viii) प्रश्न-पत्र में कोई समग्र विकल्प नहीं है। हालाँकि कुछ प्रश्नों में आंतरिक चयन के विकल्प दिए गए हैं। इन प्रश्नों में से किसी एक ही विकल्प का उत्तर लिखना है।

*

खण्ड – क

(अति लघु-उत्तरीय प्रश्न)

2 × 5 = 10

1. 1920 के दशक के शुरुआत में आंध्र प्रदेश की गूडेम पहाड़ियों में एक उग्र गुरिल्ला आंदोलन क्यों फैल गया था ? 2
2. आवश्यकताओं का दोहरा संयोग किस प्रकार पैदा होता है ? 2
3. उद्योगों का पूँजी निवेश के आधार पर वर्गीकरण कीजिए। 2
4. भारत में राष्ट्रीय राजमार्गों के महत्त्व की व्याख्या कीजिए। 2
5. एक दलीय व्यवस्था, दो दलीय व्यवस्था से किस प्रकार भिन्न है ? उदाहरणों सहित स्पष्ट कीजिए। 2



—————

General Instructions :

Read the following instructions very carefully and strictly follow them.

- (i) *There are **13** questions in the question paper. All questions are compulsory.*
- (ii) *This question paper is divided into **5 Sections – A, B, C, D and E.***
- (iii) ***Section A** – Question no. **1 to 5** are very short answer type questions of **2** marks each. Answer to each question should not exceed **40** words.*
- (iv) ***Section B** – Question no. **6 to 8** are short answer type questions, carrying **3** marks each. Answer to each question should not exceed **80** words.*
- (v) ***Section C** – Question no. **9 and 10** are long answer type questions, carrying **5** marks each. Answer to each question should not exceed **120** words.*
- (vi) ***Section D** – Question no. **11 and 12** are Case Based questions, carrying **4** marks each.*
- (vii) ***Section E** – Question no. **13** is map based, carrying **3** marks with two parts, **13.1** from History (**1** mark) and **13.2** from Geography (**2** marks).*
- (viii) *There is no overall choice in the question paper. However, an internal choice has been provided in a few questions. Only **one** of the choices in such questions have to be attempted.*

SECTION – A

(Very Short Answer Questions)

2 × 5 = 10

1. Why was a militant guerilla movement spread in the Gudem hills of Andhra Pradesh in the early 1920s ? **2**
2. How do double coincidence of wants arise ? **2**
3. Classify industries on the basis of capital investment. **2**
4. Explain the importance of National Highways in India. **2**
5. How is one-party system different from two-party system ? Explain with examples. **2**



खण्ड – ख

(लघु-उत्तरीय प्रश्न)

3 × 3 = 9

6. (क) फरवरी 1922 में महात्मा गांधी ने असहयोग आंदोलन को वापस लेने का निश्चय क्यों किया ? स्पष्ट कीजिए। 3

अथवा

- (ख) प्रथम विश्व युद्ध ने किस प्रकार भारत में नई आर्थिक स्थिति पैदा की ? स्पष्ट कीजिए।
7. 'लोकतांत्रिक सरकारें पारदर्शी और वैध होती हैं।' इस कथन की न्यायसंगत पुष्टि कीजिए। 3
8. तीन महत्वपूर्ण 'ऋण की शर्तों' की व्याख्या कीजिए। 3

खण्ड – ग

(दीर्घ-उत्तरीय प्रश्न)

5 × 2 = 10

9. (क) भारत में राजनीतिक दलों के समक्ष किन्हीं पाँच प्रमुख चुनौतियों की परख कीजिए। 5

अथवा

- (ख) "लोकतांत्रिक देशों में राजनीतिक दल महत्वपूर्ण भूमिका निभाते हैं।" इस कथन को न्यायसंगत ठहराइये। 5
10. (क) भारत में केन्द्र सरकार और राज्य सरकारों द्वारा विदेशी निवेश को आकर्षित करने के लिए उठाए गए कदमों की परख कीजिए। 5

अथवा

- (ख) भारत में वैश्वीकरण के प्रभाव की परख कीजिए। 5

खण्ड – घ

(केस आधारित प्रश्न)

4 × 2 = 8

11. दिए गए केस का पठन कीजिए और उसके नीचे दिए गए प्रश्नों के उत्तर लिखिए :

पटसन उद्योग की चुनौतियों में अंतर्राष्ट्रीय बाजार में कृत्रिम वस्त्रों से और बांग्लादेश, ब्राजील फिलीपीन्स, मिस्र तथा थाईलैंड जैसे अन्य देशों से कड़ी प्रतिस्पर्धा शामिल है। यद्यपि पटसन पैकिंग की अनिवार्य प्रयोग की सरकारी नीति के कारण इसकी घरेलू माँग बढ़ी है तथापि माँग बढ़ाने हेतु उत्पाद में विविधता भी आवश्यक है। 2005 में, पटसन के किसानों के लिए उच्च कीमत सुनिश्चित करने, उनके प्रति हेक्टर उत्पादन में वृद्धि करने उत्पादकता में वृद्धि करने तथा गुणवत्ता में सुधार करने के उद्देश्य से राष्ट्रीय पटसन नीति का निर्माण किया गया था। पटसन के प्रमुख खरीददार-अमेरिका, कनाडा, घाना, सऊदी अरब, यूनाइटेड किंगडम और ऑस्ट्रेलिया हैं। बढ़ते वैश्विक पर्यावरण अनुकूलन, जैवनिम्नीकरणीय पदार्थों के लिए विश्व की बढ़ती जागरूकता ने पुनः जूट उत्पादों के लिए अवसर प्रदान किया है।



SECTION – B

(Short Answer type Questions)

3 × 3 = 9

6. (a) Why did Mahatma Gandhi decide to withdraw the Non-Cooperation Movement in February 1922 ? Explain. **3**
- OR**
- (b) How did the First World War create a new economic situation in India ? Explain.
7. 'Democratic governments are transparent and legitimate.' Justify the statement. **3**
8. Explain the three important 'terms of Credit'. **3**

SECTION – C

(Long Answer Type Questions)

5 × 2 = 10

9. (a) Examine any five major challenges faced by the political parties in India. **5**
- OR**
- (b) "Political parties play an important role in democratic countries." Justify the statement. **5**
10. (a) Examine the steps taken by the Central Government and State Governments to attract foreign investment in India. **5**
- OR**
- (b) Examine the impact of globalization in India. **5**

SECTION – D

(Case Based Questions)

4 × 2 = 8

11. Read the given case and answer the questions that follow :
- Challenges faced by the Jute industry include stiff competition in the international market from synthetic substitutes and from other competitors like Bangladesh, Brazil, Philippines, Egypt and Thailand. However, the internal demand has been on the increase due to the Government policy of mandatory use of jute packaging. To stimulate demand, the products need to be diversified. In 2005, National Jute Policy was formulated with the objective of increasing productivity, improving quality, ensuring good prices to the jute farmers and enhancing the yield per hectare. The main markets are U.S.A., Canada, Russia, United Arab Republic, U.K. and Australia. The growing global concern for environment friendly, biodegradable materials, has once again opened the opportunity for jute products.



- (11.1) भारत में पटसन उद्योग के समक्ष किन्हीं दो चुनौतियों का उल्लेख कीजिए । 1
- (11.2) सन् 2005 में बनाई राष्ट्रीय पटसन नीति का मुख्य उद्देश्य क्या था ? 1
- (11.3) पटसन उद्योग ने पुनः अपने उत्पादों के लिए किस प्रकार नये अवसर प्रदान किए हैं ? 2

12. दिए गए केस का पठन कीजिए और उसके नीचे दिए गए प्रश्नों के उत्तर लिखिए :

सत्याग्रह पर महात्मा गांधी के विचार

‘कहा जाता है कि “निष्क्रिय प्रतिरोध” दुर्बलों का हथियार है । लेकिन इस लेख में जिस शक्ति की बात की गई है उसे केवल ताकतवर ही इस्तेमाल कर सकते हैं । यह निष्क्रिय प्रतिरोध की शक्ति नहीं है; इसके लिए तो सघन सक्रियता चाहिए । दक्षिण अफ्रीका का आंदोलन निष्क्रिय नहीं बल्कि सक्रिय आंदोलन था ... ।’

‘सत्याग्रह शारीरिक बल नहीं है । सत्याग्रही अपने शत्रु को कष्ट नहीं पहुँचाता; वह अपने शत्रु का विनाश नहीं चाहता । ... सत्याग्रह के प्रयोग में दुर्भावना के लिए कोई स्थान नहीं होता ।’

‘सत्याग्रह तो शुद्ध आत्मबल है । सत्य ही आत्मा का आधार होता है । इसीलिए इस बल को सत्याग्रह का नाम दिया गया है । आत्मा ज्ञान से हमेशा लैस होती है । इसमें प्यार की लौ जलती है ... । अहिंसा सर्वोच्च धर्म है ... ।’

‘इसमें कोई संदेह नहीं कि भारत विनाशकारी शस्त्रों के मामले में ब्रिटेन या यूरोप का मुकाबला नहीं कर सकता । अंग्रेज़ युद्ध के देवता की उपासना करते हैं । वे सब हथियारों से लैस हो सकते हैं, होते जा रहे हैं । भारत में करोड़ों लोग कभी हथियार लेकर नहीं चल सकते । उन्होंने अहिंसा के धर्म को आत्मसात् कर लिया है ... ।’

- (12.1) गांधीजी ने दक्षिण अफ्रीका में किस प्रकार का आन्दोलन आयोजित किया था ? 1
- (12.2) सत्याग्रह को ‘शुद्ध आत्मबल’ क्यों माना जाता है ? 1
- (12.3) गांधीजी ने ‘निष्क्रिय प्रतिरोध’ का किस प्रकार वर्णन किया है ? 2

खण्ड – ड

(मानचित्र आधारित प्रश्न)

3

13. (13.1) भारत के दिए गए राजनीतिक रेखा मानचित्र में स्थान (A) की पहचान निम्नलिखित जानकारी की मदद से कीजिए एवं उसका सही नाम समीप दी गई रेखा पर लिखिए ।
- (A) वह स्थान जहाँ राष्ट्रीय कांग्रेस का अधिवेशन सितम्बर 1920 में हुआ था ।
- (13.2) भारत के इसी मानचित्र पर निम्नलिखित को उपयुक्त चिह्न से अंकित कीजिए और उसका नाम लिखिए ।
- (i) (क) तारापुर – आणविक संयंत्र
- अथवा
- (ख) कलपक्कम – आणविक संयंत्र
- (ii) हैदराबाद – राजीव गांधी अन्तर्राष्ट्रीय हवाई पत्तन



-
- (11.1) Mention any two challenges faced by 'jute industry' in India. 1
- (11.2) What was the main objective of National Jute Policy formulated in 2005 ? 1
- (11.3) How has jute industry once again opened the new opportunities for its products ? 2

12. Read the given case and answer the questions that follow :

Mahatma Gandhi's thoughts on Satyagraha

'It is said of "passive resistance" that it is the weapon of the weak, but the power which is the subject of this article can be used only by the strong. This power is not passive resistance; indeed it calls for intense activity. The movement in South Africa was not passive but active ...'

'Satyagraha is not physical force. A satyagrahi does not inflict pain on the adversary; he does not seek his destruction ... In the use of satyagraha, there is no ill-will whatever.'

'Satyagraha is pure soul-force. Truth is the very substance of the soul. That is why this force is called satyagraha. The soul is informed with knowledge. In it burns the flame of love ... Non-violence is the supreme dharma ...'

'It is certain that India cannot rival Britain or Europe in force of arms. The British worship the war-god and they can all of them become, as they are becoming, bearers of arms. The hundreds of millions in India can never carry arms. They have made the religion of non-violence their own ...'

- (12.1) What type of movement Gandhiji organised in South Africa ? 1
- (12.2) Why is satyagraha considered as pure soul-force ? 1
- (12.3) How has Gandhiji described passive resistance ? 2

SECTION – E

(Map Based Question)

3

13. (13.1) On the given outline political Map of India, identify the place marked as (A) with the help of following information and write its correct name on the line marked near it.
- (A) The place where National Congress Session was held in September 1920.
- (13.2) On the same given Map of India, locate and label the following with appropriate symbols.
- (i) (a) Tarapur – Nuclear Power Plant
- OR**
- (b) Kalpakkam – Nuclear Power Plant
- (ii) Hyderabad – Rajiv Gandhi International Airport



नोट : निम्नलिखित प्रश्न केवल दृष्टिबाधित परीक्षार्थियों के लिए प्रश्न संख्या 13.1 व 13.2 के स्थान पर है ।

- (13.1) उस स्थान का नाम लिखिए जहाँ सितंबर 1920 में भारतीय राष्ट्रीय काँग्रेस का अधिवेशन हुआ था । 1
- (13.2) (क) उस राज्य का नाम लिखिए जहाँ तारापुर आणविक ऊर्जा संयंत्र स्थित है । 1
- अथवा**
- (ख) उस राज्य का नाम लिखिए जहाँ कलपक्कम आणविक ऊर्जा संयंत्र स्थित है ।
- (13.3) उस राज्य का नाम लिखिए जहाँ राजीव गांधी अंतर्राष्ट्रीय हवाई पत्तन स्थित है । 1
-





Note : The following question is for Visually Impaired Candidates only in Lieu of Q. No. 13.1 and 13.2

(13.1) Name the place where the Indian National Congress session was held in September 1920. **1**

(13.2) (a) Name the State where Tarapur Nuclear Power Plant is located. **1**

OR

(b) Name the State where Kalpakkam Nuclear Power Plant is located.

(13.3) In which State Rajiv Gandhi International Airport is located ? **1**

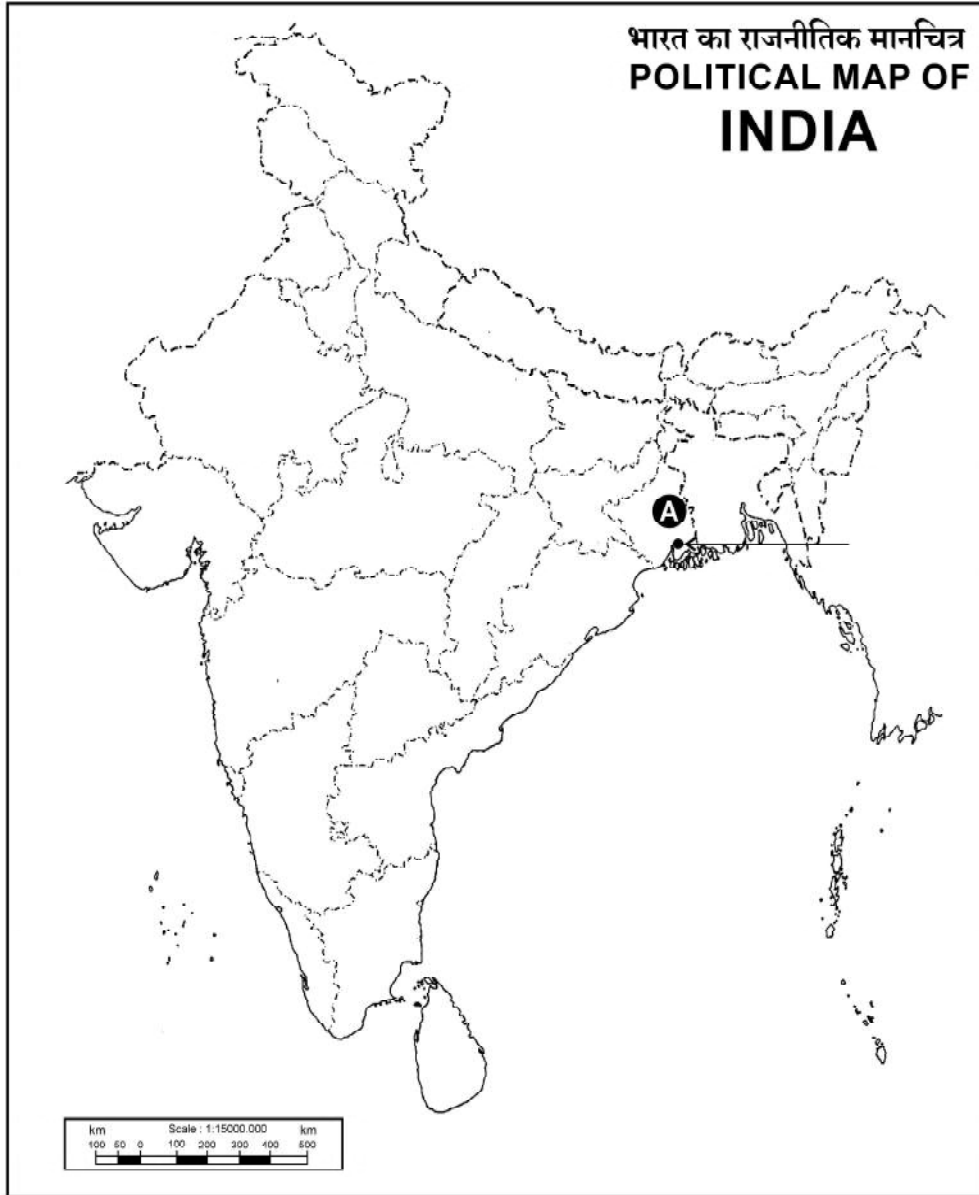






प्रश्न सं. 13 के लिए मानचित्र
Map for Q. No. 13

----- Cut Here ----- यहाँ से काटें ----- Cut Here ----- यहाँ से काटें -----







Series **BQQPP/3**



SET ~ 1

Q.P. Code **42/3/1**

Roll No.

| | | | | | | | |
|--|--|--|--|--|--|--|--|
| | | | | | | | |
|--|--|--|--|--|--|--|--|

Candidates must write the Q.P. Code on the title page of the answer-book.

ਨੋਟ / NOTE :

- (i) ਕਿਰਪਾ ਕਰਕੇ ਜਾਂਚ ਕਰ ਲਵੋ ਕਿ ਇਸ ਪ੍ਰਸ਼ਨ ਪੱਤਰ ਵਿਚ ਛਪੇ ਹੋਏ **7** ਪੰਨੇ + **1** ਮਾਨਚਿੱਤਰ ਹਨ ।
Please check that this question paper contains **7** printed pages + **1** Map.
- (ii) ਪ੍ਰਸ਼ਨ ਪੱਤਰ ਵਿਚ ਸੱਜੇ ਹੱਥ ਦੇ ਵਲ ਦਿੱਤੇ ਗਏ ਪ੍ਰਸ਼ਨ ਪੱਤਰ ਕੋਡ ਨੂੰ ਪ੍ਰੀਖਿਆਰਥੀ ਉੱਤਰ ਪੁਸਤਿਕਾ ਦੇ ਮੁੱਖ ਪੰਨੇ ਉੱਪਰ ਲਿਖਣ ।
Q.P. Code given on the right hand side of the question paper should be written on the title page of the answer-book by the candidate.
- (iii) ਕਿਰਪਾ ਕਰਕੇ ਜਾਂਚ ਕਰ ਲਵੋ ਕਿ ਇਸ ਪ੍ਰਸ਼ਨ ਪੱਤਰ ਵਿਚ **13** ਪ੍ਰਸ਼ਨ ਹਨ ।
Please check that this question paper contains **13** questions.
- (iv) ਕਿਰਪਾ ਕਰਕੇ ਪ੍ਰਸ਼ਨ ਦਾ ਉੱਤਰ ਲਿਖਣਾ ਸ਼ੁਰੂ ਕਰਨ ਤੋਂ ਪਹਿਲਾਂ, ਉੱਤਰ ਪੁਸਤਿਕਾ ਵਿਚ ਪ੍ਰਸ਼ਨ ਦਾ ਕ੍ਰਮਾਂਕ (ਸੀਰੀਅਲ ਨੰਬਰ) ਜ਼ਰੂਰ ਲਿਖੋ ।
Please write down the serial number of the question in the answer-book before attempting it.
- (v) ਇਸ ਪ੍ਰਸ਼ਨ ਪੱਤਰ ਨੂੰ ਪੜ੍ਹਨ ਦੇ ਲਈ 15 ਮਿੰਟ ਦਾ ਸਮਾਂ ਦਿੱਤਾ ਗਿਆ ਹੈ । ਪ੍ਰਸ਼ਨ ਪੱਤਰ ਸਵੇਰੇ 10.15 ਵਜੇ ਵੰਡੇ ਜਾਣਗੇ । 10.15 ਵਜੇ ਤੋਂ 10.30 ਵਜੇ ਤਕ ਪ੍ਰੀਖਿਆਰਥੀ ਕੇਵਲ ਪ੍ਰਸ਼ਨ ਪੱਤਰ ਨੂੰ ਪੜ੍ਹਨਗੇ ਅਤੇ ਇਸ ਸਮੇਂ ਵਿਚ ਉਹ ਉੱਤਰ ਪੁਸਤਿਕਾ ਵਿਚ ਕੋਈ ਉੱਤਰ ਨਹੀਂ ਲਿਖਣਗੇ ।
15 minute time has been allotted to read this question paper. The question paper will be distributed at 10.15 a.m. From 10.15 a.m. to 10.30 a.m., the students will read the question paper only and will not write any answer on the answer-book during this period.

ਸਮਾਜਿਕ ਵਿਗਿਆਨ

(ਪੰਜਾਬੀ ਉਲਥਾ)

SOCIAL SCIENCE

(Punjabi Version)



ਸਮਾਂ ਸੀਮਾਂ : 2 ਘੰਟੇ
Time allowed : 2 hours

ਪੂਰਨ ਅੰਕ : 40
Maximum Marks : 40





ਵਿਆਪਕ ਨਿਰਦੇਸ਼ :

ਹੇਠ ਲਿਖੇ ਨਿਰਦੇਸ਼ਾਂ ਨੂੰ ਬਹੁਤ ਧਿਆਨ ਨਾਲ ਪੜ੍ਹੋ ਅਤੇ ਉਨ੍ਹਾਂ ਦੀ ਸਖਤੀ ਨਾਲ ਪਾਲਨ ਕਰੋ :

- (i) ਇਹ ਪ੍ਰਸ਼ਨ ਪੱਤਰ ਪੰਜ ਖੰਡਾਂ ਵਿਚ ਵੰਡਿਆ ਹੋਇਆ ਹੈ – ਖੰਡ ਕ, ਖ, ਗ, ਘ ਅਤੇ ਙ । ਇਸ ਪ੍ਰਸ਼ਨ ਪੱਤਰ ਵਿਚ ਪ੍ਰਸ਼ਨਾਂ ਦੀ ਸੰਖਿਆ 13 ਹੈ । ਸਾਰੇ ਪ੍ਰਸ਼ਨ ਜ਼ਰੂਰੀ ਹਨ ।
- (ii) ਖੰਡ ਕ ਵਿਚ ਪ੍ਰਸ਼ਨ ਸੰਖਿਆ 1 ਤੋਂ 5 ਤਕ ਬਹੁਤ ਛੋਟੇ ਉੱਤਰ ਵਾਲੇ ਪ੍ਰਸ਼ਨ ਹਨ, ਹਰ ਇਕ ਪ੍ਰਸ਼ਨ 2 ਅੰਕ ਦਾ ਹੈ । ਹਰ ਇਕ ਪ੍ਰਸ਼ਨ ਦਾ ਉੱਤਰ 40 ਸ਼ਬਦਾਂ ਤੋਂ ਵਧ ਨਹੀਂ ਹੋਣਾ ਚਾਹਿਦਾ ।
- (iii) ਖੰਡ ਖ ਵਿਚ ਪ੍ਰਸ਼ਨ ਸੰਖਿਆ 6 ਤੋਂ 8 ਤਕ ਛੋਟੇ ਉੱਤਰ ਵਾਲੇ ਪ੍ਰਸ਼ਨ ਹਨ, ਹਰ ਇਕ ਪ੍ਰਸ਼ਨ 3 ਅੰਕ ਦਾ ਹੈ । ਹਰ ਇਕ ਪ੍ਰਸ਼ਨ ਦਾ ਉੱਤਰ 80 ਸ਼ਬਦਾਂ ਤੋਂ ਵਧ ਨਹੀਂ ਹੋਣਾ ਚਾਹਿਦਾ ।
- (iv) ਖੰਡ ਗ ਵਿਚ ਪ੍ਰਸ਼ਨ ਸੰਖਿਆ 9 ਅਤੇ 10 ਲੰਬੇ ਉੱਤਰ ਵਾਲੇ ਪ੍ਰਸ਼ਨ ਹਨ, ਹਰ ਇਕ ਪ੍ਰਸ਼ਨ 5 ਅੰਕ ਦਾ ਹੈ । ਹਰ ਇਕ ਪ੍ਰਸ਼ਨ ਦਾ ਉੱਤਰ 120 ਸ਼ਬਦਾਂ ਤੋਂ ਵਧ ਨਹੀਂ ਹੋਣਾ ਚਾਹਿਦਾ ।
- (v) ਖੰਡ ਘ ਵਿਚ ਪ੍ਰਸ਼ਨ ਸੰਖਿਆ 11 ਅਤੇ 12 ਕੇਸ-ਅਧਾਰਿਤ ਪ੍ਰਸ਼ਨ ਹਨ, ਹਰ ਇਕ ਪ੍ਰਸ਼ਨ 4 ਅੰਕ ਦਾ ਹੈ ।
- (vi) ਖੰਡ ਙ ਵਿਚ ਪ੍ਰਸ਼ਨ ਸੰਖਿਆ 13 ਮਾਨਚਿੱਤਰ-ਅਧਾਰਿਤ ਹੈ । ਇਹ ਪ੍ਰਸ਼ਨ 3 ਅੰਕ ਦਾ ਹੈ ਜਿਸਦੇ ਦੋ ਭਾਗ ਹਨ – 13(a) ਇਤਿਹਾਸ ਤੋਂ (1 ਅੰਕ) ਅਤੇ 13(b) ਭੂਗੋਲ ਤੋਂ (2 ਅੰਕ) ।
- (vii) ਪ੍ਰਸ਼ਨ ਪੱਤਰ ਵਿਚ ਕੋਈ ਵਿਆਪਕ ਵਿਕਲਪ ਨਹੀਂ ਹੈ । ਹਾਲਾਂਕਿ, ਕੁਝ ਪ੍ਰਸ਼ਨਾਂ ਵਿਚ ਅੰਦਰੂਨੀ ਵਿਕਲਪ ਦਿਤੇ ਗਏ ਹਨ । ਅਜੇਹੇ ਪ੍ਰਸ਼ਨਾਂ ਵਿਚੋਂ ਕੇਵਲ ਇਕ ਹੀ ਵਿਕਲਪ ਦਾ ਉੱਤਰ ਲਿਖੋ ।
- (viii) ਮਾਨਚਿੱਤਰ ਨੂੰ ਅਪਣੀ ਆਪਣੀ ਉੱਤਰ ਪੁਸਤਕ ਨਾਲ ਨੱਥੀ ਕਰੋ ।

ਖੰਡ ਕ

(ਬਹੁਤ ਛੋਟੇ ਉੱਤਰ ਪ੍ਰਸ਼ਨ)

(5×2=10)

- 1. ਸਤਿਆਗ੍ਰਹਿ ਬਾਰੇ ਮਹਾਤਮਾ ਗਾਂਧੀ ਦੇ ਵਿਚਾਰਾਂ ਦਾ ਵਰਣਨ ਕਰੋ । 2
- 2. ਜੂਟ ਕਪੜਾ ਉਦਯੋਗ ਦੇ ਸਾਹਮਣੇ ਮੁੱਖ ਚਿੰਤਾਵਾਂ ਨੂੰ ਸਪਸ਼ਟ ਕਰੋ । 2





3. ਇਕ ਇਕਸੁਰਤਾ ਵਾਲਾ ਸਮਾਜਿਕ ਜੀਵਨ ਪ੍ਰਾਪਤ ਕਰਨ ਦੇ ਲਈ ਲੋਕਤੰਤਰ ਨੂੰ ਕਿਹੜੀਆਂ ਦੋ ਸ਼ਰਤਾਂ ਪੂਰੀਆਂ ਕਰਨੀਆਂ ਹੋਣਗੀਆਂ ? ਵਰਣਨ ਕਰੋ । 2
4. ਉਸ ਹਾਲਤ ਦਾ ਵਿਸ਼ਲੇਸ਼ਣ ਕਰੋ ਜਿਸ ਵਿਚ ਕਰਜ਼, ਕਰਜ਼ਾਈ ਨੂੰ ਅਜੇਹੇ ਹਾਲਤ ਵਿਚ ਧੱਕ ਦਿੱਤਾ ਹੈ, ਜਿਸ ਵਿਚੋਂ ਨਿਕਲਣਾ ਬਹੁਤ ਹੀ ਕਸ਼ਟਦਾਯਕ ਹੁੰਦਾ ਹੈ । 2
5. ਹੇਠ ਦਿਤੀ ਸਾਰਣੀ ਨੂੰ ਪੜ੍ਹੋ ਅਤੇ ਇਸਦੇ ਹੇਠ ਦਿਤੇ ਹੋਏ ਪ੍ਰਸ਼ਨਾਂ ਦੇ ਉੱਤਰ ਲਿਖੋ :

ਭਾਰਤੀ ਰੇਲ ਜਾਲ

| ਗੇਜ ਮੀਟਰ ਵਿਚ | ਰੂਟ (ਕਿ.ਮੀ.) | ਚਾਲੂ ਮਾਰਗ (ਕਿ.ਮੀ.) | ਕੁਲ ਮਾਰਗ (ਕਿ.ਮੀ.) |
|-----------------------------|-----------------|-----------------------|----------------------|
| ਵੱਡੀ ਲਾਇਨ (1.676) | 63,491 | 89,521 | 1,17,560 |
| ਮੀਟਰ ਲਾਇਨ (1.000) | 3,200 | 3,462 | 3,775 |
| ਛੋਟੀ ਲਾਇਨ (0.762 ਅਤੇ 0.610) | 1,751 | 1,752 | 1,901 |
| ਕੁਲ | 68,442 | 94,735 | 1,23,236 |

(5.1) ਭਾਰਤ ਵਿਚ ਪਹਾੜੀ ਖੇਤਰਾਂ ਵਿਚ ਕਿਸ ਗੇਜ ਮਾਰਗ (ਲਾਇਨ) ਦੀ ਲੰਬਾਈ ਸਭ ਤੋਂ ਜ਼ਿਆਦਾ ਹੈ ? 1

(5.2) ਭਾਰਤ ਵਿਚ ਕਿਸ ਗੇਜ (ਲਾਇਨ) ਦੀ ਲੰਬਾਈ ਸਭ ਤੋਂ ਜ਼ਿਆਦਾ ਹੈ ? 1

ਖੰਡ ਖ

(ਛੋਟੇ ਉੱਤਰ ਪ੍ਰਸ਼ਨ)

(3×3=9)

6. (a) ਵਿਸ਼ਵ ਵਪਾਰ ਸੰਗਠਨ ਵਿਚ ਵਿਕਾਸਸ਼ੀਲ ਦੇਸ਼ਾਂ ਦੇ ਲਈ ਹੋਈ ਬਹੁਮੁੱਲ ਦੀ ਪਰਖ ਕਰੋ । 3

ਜਾਂ

(b) ਭਾਰਤ ਵਿਚ ਵਿਦੇਸ਼ੀ ਕੰਪਨੀਆਂ ਨੂੰ ਨਿਵੇਸ਼ ਕਰਨ ਦੇ ਲਈ ਉਤਸਾਹਿਤ ਕਰਨ ਦੇ ਲਈ ਕੇਂਦਰ ਅਤੇ ਰਾਜ ਸਰਕਾਰਾਂ ਰਾਹੀਂ ਚੁੱਕੇ ਗਏ ਕਦਮਾਂ ਦਾ ਪਰੀਖਣ ਕਰੋ । 3





7. “ਦੇਸ਼ ਨੂੰ ਇਕ ਜੁਟ ਕਰਨ ਦੇ ਲਈ ਮਹਾਤਮਾ ਗਾਂਧੀ ਨੂੰ ‘ਨਮਕ’ ਇਕ ਸ਼ਕਤੀਸ਼ਾਲੀ ਪ੍ਰਤੀਕ (symbol) ਦਿਖਾਈ ਦਿੱਤਾ ।” ਇਸ ਕਥਨ ਦੀ ਤਿੰਨ ਤਰਕਾਂ ਸਹਿਤ ਪੁਸ਼ਟੀ ਕਰੋ ।

3

8. “ਲੋਕਤੰਤਰ ਦੀ ਆਪਣੇ ਲਈ ਹਮਾਇਤ ਪੈਦਾ ਕਰਨ ਦੀ ਸਮਰੱਥਾ ਹੀ ਆਪਣੇ ਆਪ ਵਿਚ ਇਕ ਨਤੀਜਾ ਹੈ ਜਿਸ ਨੂੰ ਅਣਦੇਖਿਆ ਨਹੀਂ ਕੀਤਾ ਜਾ ਸਕਦਾ ।” ਇਸ ਕਥਨ ਦਾ ਤਿੰਨ ਉਦਾਹਰਣਾਂ ਸਹਿਤ ਵਿਸਲੇਸ਼ਣ ਕਰੋ ।

3

ਖੰਡ ਗ

(ਲੰਬੇ ਉੱਤਰ ਪ੍ਰਸ਼ਨ)

(2×5=10)

9. (a) “ਸੰਸਾਰ ਭਰ ਦੀਆਂ ਲੋਕਤੰਤਰਾਂ ਵਿਵਸਥਾਵਾਂ ਵਿਚ ਰਾਜਨੀਤਿਕ ਦਲ ਸਰਵਵਿਆਪੀ ਹੋ ਗਏ ਹਨ ।” ਉਦਾਹਰਣ ਸਹਿਤ ਕਥਨ ਦੀ ਵਿਆਖਿਆ ਕਰੋ ।

1×5=5

ਜਾਂ

(b) “ਭਾਰਤ ਵਿਚ ਰਾਜਨੀਤਿਕ ਦਲਾਂ ਨੂੰ ਮਜ਼ਬੂਤ ਕਰਨ ਦੇ ਲਈ ਕਈ ਸੁਧਾਰ ਕੀਤੇ ਗਏ ਹਨ, ਤਾਂ ਕਿ ਉਹ ਆਪਣੇ ਕੰਮਾਂ ਨੂੰ ਚੰਗੀ ਤਰਾਂ ਨਾਲ ਕਰ ਸਕਣ ।” ਉਦਾਹਰਣ ਸਹਿਤ ਕਥਨ ਦੀ ਵਿਆਖਿਆ ਕਰੋ ।

1×5=5

10. (a) ‘ਆਪਣੀ ਸਹਾਇਤਾ ਆਪ ਕਰੋ ਸਮੂਹ’ ਪੇਂਡੂ ਗਰੀਬਾਂ ਨੂੰ ਕਿਵੇਂ ਸੰਗਠਿਤ ਕਰਣ ਵਿਚ ਮਦਦ ਕਰਦੇ ਹਨ ? ਉਦਾਹਰਣਾਂ ਸਹਿਤ ਵਿਆਖਿਆ ਕਰੋ ।

1×5=5

ਜਾਂ

(b) ਓਪਚਾਰਿਕ ਅਤੇ ਅਨਓਪਚਾਰਿਕ ਰਿਣਦਾਤਾਵਾਂ ਦੇ ਦਰਮਿਆਨ ਰਿਣ (ਉਧਾਰ) ਕਿਵੇਂ ਕਾਫੀ ਹਦ ਤਕ ਵੱਖ ਹੁੰਦਾ ਹੈ ? ਉਦਾਹਰਣਾਂ ਸਹਿਤ ਵਿਆਖਿਆ ਕਰੋ ।

1×5=5

ਖੰਡ ਘ

(ਕੇਸ-ਅਧਾਰਿਤ ਪ੍ਰਸ਼ਨ)

(2×4=8)

11. ਹੇਠ ਦਿੱਤੇ ਗਏ ਕੇਸ ਨੂੰ ਧਿਆਨ ਨਾਲ ਪੜ੍ਹੋ ਅਤੇ ਉਸਦੇ ਹੇਠ ਦਿੱਤੇ ਗਏ ਪ੍ਰਸ਼ਨਾਂ ਦੇ ਉੱਤਰ ਲਿਖੋ :

4

ਸਮੂਹਕ ਅਪਣੇਪਨ ਦੀ ਭਾਵਨਾ

ਸਮੂਹਕ ਅਪਣੇਪਨ ਦੀ ਇਹ ਭਾਵਨਾ ਕੁਛ ਕੁ ਸਾਂਝੇ ਸੰਘਰਸ਼ਾਂ ਦੇ ਚਲਦੇ ਹੋਏ ਪੈਦਾ ਹੋਈ ਸੀ । ਇਨ੍ਹਾਂ ਤੋਂ ਇਲਾਵਾ ਬਹੁਤ ਸਾਰੀਆਂ ਸਭਿਆਚਾਰਕ ਪ੍ਰਕਿਰਾਵਾਂ ਵੀ





ਸਨ ਜਿਨ੍ਹਾਂ ਦੇ ਜ਼ਰੀਏ ਰਾਸ਼ਟਰਵਾਦ ਲੋਕਾਂ ਦੀ ਕਲਪਨਾ ਅਤੇ ਦਿਲੋਦਿਮਾਗ ਉਪਰ ਛਾ ਗਿਆ ਸੀ । ਇਤਿਹਾਸ ਅਤੇ ਸਾਹਿਤ, ਲੋਕ ਕਥਾਵਾਂ ਅਤੇ ਗੀਤ, ਚਿਤਰ ਅਤੇ ਪ੍ਰਤੀਕ, ਸਾਰਿਆਂ ਨੇ ਰਾਸ਼ਟਰਵਾਦ ਨੂੰ ਸਾਕਾਰ ਕਰਨ ਵਿਚ ਆਪਣਾ ਹਿਸਾ ਪਾਇਆ ਸੀ ।

ਜਿਵੇਂ ਕਿ ਤੁਸੀ ਜਾਣਦੇ ਹੋ, ਰਾਸ਼ਟਰ ਦੀ ਪਛਾਣ ਸਭ ਤੋਂ ਜ਼ਿਆਦਾ ਕਿਸੇ ਮੂਰਤ (ਤਸਵੀਰ) ਵਿਚ ਦਰਸਾਈ ਜਾਂਦੀ ਹੈ । ਇਸ ਨਾਲ ਲੋਕਾਂ ਨੂੰ ਇਕ ਅਜੇਹੇ ਮੂਰਤ (ਤਸਵੀਰ) ਬਣਨ ਵਿਚ ਮਦਦ ਮਿਲਦੀ ਹੈ ਜਿਸ ਦੇ ਜ਼ਰੀਏ ਉਹ ਰਾਸ਼ਟਰ ਨੂੰ ਪਛਾਣ ਸਕਦੇ ਹਨ । ਵੀਹਵੀਂ ਸਦੀ ਵਿਚ ਰਾਸ਼ਟਰਵਾਦ ਦੇ ਵਿਕਾਸ ਦੇ ਨਾਲ ਭਾਰਤ ਦੀ ਪਛਾਣ ਵੀ ਭਾਰਤ ਮਾਤਾ ਦੀ ਮੂਰਤ (ਤਸਵੀਰ) ਦਾ ਰੂਪ ਲੈਣ ਲੱਗੀ । ਇਸ ਮੂਰਤ (ਤਸਵੀਰ) ਦੇ ਨਿਰਮਾਣ ਦਾ ਅਰੰਭ ਬੰਕਿਮ ਚੰਦਰ ਚੱਟੋਪਧਾਏ ਨੇ ਕੀਤਾ ਸੀ । 1870 ਦੇ ਦਹਾਕੇ ਵਿਚ ਉਨ੍ਹਾਂ ਨੇ ਮਾਤ-ਭੂਮੀ ਦੀ ਉਸਤਤ ਵਿਚ ‘ਵੰਦੇ ਮਾਤਰਮ’ ਗੀਤ ਲਿਖਿਆ ਸੀ । ਬਾਦ ਵਿਚ ਇਸਨੂੰ ਉਨ੍ਹਾਂ ਨੇ ਆਪਣੇ ਉਪਨਿਆਸ (ਨਾਵਲ) ਆਨੰਦਮੱਠ ਵਿਚ ਸ਼ਾਮਲ ਕਰ ਲਿਆ । ਇਹ ਗੀਤ ਬੰਗਾਲ ਵਿਚ ਸਵਦੇਸ਼ੀ ਅੰਦੋਲਨ ਵਿਚ ਖੂਬ ਗਾਇਆ ਗਿਆ । ਸਵਦੇਸ਼ੀ ਅੰਦੋਲਨ ਦੀ ਪ੍ਰੇਰਨਾ ਨਾਲ ਅਬਨੀੰਦਰਨਾਥ ਟੈਗੋਰ ਨੇ ਭਾਰਤ ਮਾਤਾ ਦੀ ਮਸ਼ਹੂਰ ਆਕਿਰਤੀ ਨੂੰ ਚਿਤਰਤ ਕੀਤਾ । ਇਸ ਪੇਂਟਿੰਗ ਵਿਚ ਭਾਰਤ ਮਾਤਾ ਨੂੰ ਇਕ ਸੰਨਿਆਸਿਨੀ ਦੇ ਰੂਪ ਵਿਚ ਦਰਸਾਇਆ ਗਿਆ ਹੈ । ਉਹ ਸ਼ਾਂਤ, ਗੰਭੀਰ, ਦੈਵੀ ਅਤੇ ਅਧਿਆਤਮਿਕ (ਰੱਬੀ) ਗੁਣਾਂ ਦੀ ਭਰੀ ਦਿਖਾਈ ਦੇਂਦੀ ਹੈ । ਇਸ ਤੋਂ ਅੱਗੇ, ਜਦੋਂ ਇਸ ਆਕਿਰਤੀ ਨੂੰ ਵੱਡੀ ਗਿਣਤੀ ਵਿਚ ਤਸਵੀਰਾਂ ਵਿਚ ਉਤਾਰਿਆ ਜਾਣ ਲਗਾ ਅਤੇ ਵੱਖੋ ਵੱਖ ਕਲਾਕਾਰ ਇਹ ਤਸਵੀਰ ਬਣਾਣ ਲਗੇ ਤਾਂ ਭਾਰਤ ਮਾਤਾ ਦੀ ਆਕਿਰਤੀ ਕਈ ਵੱਖੋ ਵੱਖਰੇ ਰੂਪ ਗ੍ਰਹਿਣ ਕਰਦੀ ਗਈ । ਇਸ ਮਾਤਾ ਆਕਿਰਤੀ ਦੇ ਵਲ ਸ਼ਰਧਾ ਨੂੰ ਰਾਸ਼ਟਰਵਾਦ ਵਿਚ ਆਸਥਾ ਦਾ ਪ੍ਰਤੀਕ ਮੰਨਿਆ ਜਾਣ ਲੱਗਾ ।

- (11.1) ‘ਰਾਸ਼ਟਰ’ ਲੋਕਾਂ ਦੇ ਦਿਮਾਗ ਵਿਚ ਇਕ ਯਥਾਰਥ ਰੂਪ ਕਿਵੇਂ ਬਣਿਆ ? 1
- (11.2) ਰਾਸ਼ਟਰਵਾਦ ਨੇ ਲੋਕਾਂ ਦੀਆਂ ਕਲਪਨਾਵਾਂ ਵਿਚ ਕਿਹੋ ਜਿਹਾ ਰੂਪ ਲਿਆ ? 1
- (11.3) ਵੱਖੋ ਵੱਖ ਸਮੂਹਾਂ ਦੇ ਲੋਕਾਂ ਵਿਚ ਸਮੂਹਕ ਅਪਣੇਪਨ ਦਾ ਭਾਵ ਕਿਵੇਂ ਵਿਕਸਿਤ ਹੋਇਆ ? 2





12. ਹੇਠ ਦਿੱਤੇ ਗਏ ਕੇਸ ਨੂੰ ਧਿਆਨ ਨਾਲ ਪੜ੍ਹੋ ਅਤੇ ਉਸਦੇ ਹੇਠ ਦਿੱਤੇ ਗਏ ਪ੍ਰਸ਼ਨਾਂ ਦੇ ਉੱਤਰ ਲਿਖੋ :

4

ਰਾਸ਼ਟਰੀ ਤਾਪ ਬਿਜਲੀਘਰ ਕਾਰਪੋਰੇਸ਼ਨ (NTPC) ਰਾਹੀਂ ਦਿਖਾਇਆ ਗਿਆ ਰਾਹ

ਭਾਰਤ ਵਿਚ ਰਾਸ਼ਟਰੀ ਤਾਪ ਬਿਜਲੀਘਰ ਕਾਰਪੋਰੇਸ਼ਨ (NTPC) ਬਿਜਲੀ ਦੇਣ ਲਈ ਮੁਖ ਨਿਗਮ (ਕਾਰਪੋਰੇਸ਼ਨ) ਹੈ । ਇਸਦੇ ਕੋਲ ਵਾਤਾਵਰਨ ਪ੍ਰਬੰਧਨ ਸਿਸਟਮ (EMS) 14001 ਦੇ ਲਈ ਆਈ.ਐਸ.ਓ. (ISO) ਪ੍ਰਮਾਣ ਪਤਰ ਹੈ । ਇਹ ਨਿਗਮ ਕੁਦਰਤੀ ਵਾਤਾਵਰਨ ਅਤੇ ਸੰਸਾਧਨ ਜਿਵੇਂ ਕਿ ਪਾਣੀ, ਖਾਣ ਦੇ ਤੇਲ, ਗੈਸ ਅਤੇ ਈਥਨ (ਬਾਲਣ) ਸੁਰਖਿਅਣ ਨੀਤੀ ਦਾ ਸਮਰਥਕ ਹੈ ਅਤੇ ਇਨ੍ਹਾਂ ਨੂੰ ਧਿਆਨ ਵਿਚ ਰਖਕੇ ਹੀ ਬਿਜਲੀ ਦੇ ਪਲਾਂਟਸ ਬਣਾਂਦਾ ਹੈ ।

ਅਜੇਹਾ ਹੇਠ ਲਿਖੇ ਉਪਾ ਕਰਕੇ ਹੀ ਸੰਭਵ ਹੈ :

- ਆਧੁਨਿਕ ਤਕਨੀਕਾਂ ਉਪਰ ਅਧਾਰਿਤ ਉਪਕਰਣਾਂ ਦੀ ਸਹੀ ਵਰਤੋਂ ਕਰਕੇ ਅਤੇ ਮੌਜੂਦ ਉਪਕਰਣਾਂ ਵਿਚ ਸੁਧਾਰ ਕਰਕੇ ।
- ਵਧ ਤੋਂ ਵਧ ਰਾਖ ਦੀ ਵਰਤੋਂ ਕਰਕੇ ਵਾਧੂ ਪਦਾਰਥ ਦੀ ਘੱਟੋ ਘੱਟ ਪੈਦਾਵਾਰ ਕਰਨਾ ।
- ਪਰਿਆਵਰਨਕ ਸੰਤੁਲਨ ਬਣਾਈ ਰਖਣ ਦੇ ਲਈ ਹਰਿਆਲੇ ਖੇਤਰ ਦੀ ਸੁਰਖਿਆ ਅਤੇ ਜੰਗਲ ਬਨਾਉਣ ਦੇ ਲਈ ਪ੍ਰੇਰਿਤ ਕਰਨਾ ।
- ਤਰਲ ਵਾਧੂ ਪਦਾਰਥਾਂ ਦਾ ਪ੍ਰਬੰਧਨ, ਰਾਖ ਮਿਲਿਆ ਪਾਣੀ ਦਾ ਮੁੜ ਵਰਤਣ ਯੋਗ ਬਨਾਣਾ ਅਤੇ ਰਾਖ-ਸੰਗ੍ਰਹਿ (Ash pond) ਪ੍ਰਬੰਧਨ ਰਾਹੀਂ ਵਾਤਾਵਰਨ ਪ੍ਰਦੂਸ਼ਣ ਨੂੰ ਘਟ ਕਰਨਾ ।
- ਸਾਰੀਆਂ ਊਰਜਾ ਸੰਯੰਤਰਾਂ ਦਾ ਪਰਿਆਵਰਨਕ ਰੂਪ ਨਾਲ ਮਾਨੀਟਰ, ਸਮੀਖਿਆ ਕਰਨਾ ਅਤੇ ਆਨਲਾਇਨ ਅੰਕੜਿਆ ਦਾ ਪ੍ਰਬੰਧਨ ਕਰਨਾ ।

- (12.1) ‘ਨਿਰੰਤਰ ਪੋਸਣੀ ਵਿਕਾਸ’ ਨੂੰ ਪਰਿਭਾਸ਼ਿਤ ਕਰੋ । 1
- (12.2) ਆਈ.ਐਸ.ਓ. (ISO) ਪ੍ਰਮਾਣ ਦੇ ਪਿਛੇ ਕੀ ਵਿਚਾਰ ਹੈ ? 1
- (12.3) ਰਾਸ਼ਟਰੀ ਤਾਪ ਬਿਜਲੀਘਰ ਕਾਰਪੋਰੇਸ਼ਨ (NTPC) ਦੇ ਸਚੇਤਨ ਨਜਰੀਏ ਦੀ ਪਰਖ ਕਰੋ । 2





ਖੰਡ ਛ

(ਮਾਨਚਿੱਤਰ-ਅਧਾਰਿਤ ਪ੍ਰਸ਼ਨ)

(1+2=3)

13. (i) ਦਿਤੇ ਗਏ **ਭਾਰਤ** ਦੇ ਰਾਜਨੀਤਕ ਰੇਖਾ ਮਾਨਚਿੱਤਰ (ਪੰਨਾ 9 ਤੇ) ਉਪਰ ਹੇਠ ਲਿਖੀ ਜਾਣਕਾਰੀ ਦੀ ਮਦਦ ਨਾਲ 'A' ਦੇ ਰੂਪ ਵਿਚ ਨਿਸ਼ਾਨ ਲਗਾਏ ਗਏ ਸਥਾਨ ਦੀ ਪਛਾਣ ਕਰੋ ਅਤੇ ਉਸ ਦੇ ਨਜ਼ਦੀਕ ਖਿਚੀ ਲਕੀਰ (ਰੇਖਾ) ਉਪਰ ਉਸਦਾ ਸਹੀ ਨਾਮ ਲਿਖੋ ।

A. ਉਹ ਸਥਾਨ ਜਿਥੇ ਜਲਿਆਂਵਾਲਾ ਬਾਗ ਹਤਿਆਕਾਂਡ ਹੋਇਆ ਸੀ । 1

(ii) ਦਿਤੇ ਗਏ **ਭਾਰਤ** ਦੇ ਇਸ ਹੀ ਰੇਖਾ ਮਾਨਚਿੱਤਰ ਤੇ ਹੇਠ ਲਿਖਿਆਂ ਨੂੰ ਅੰਕਿਤ ਕਰੋ ਅਤੇ ਉਸਦਾ ਨਾਮ ਲਿਖੋ ।

(a) (I) ਸਿੰਗਰੋਲੀ ਤਾਪ ਉਰਜਾ ਸੰਯੰਤਰ (ਪਲਾਂਟ) 1

ਜਾਂ

(II) ਮੁੰਬਈ ਸਾਫਟਵੇਯਰ ਟੈਕਨੋਲੋਜੀ ਪਾਰਕ 1

(b) ਕੋਲਕਾਤਾ (ਨੇਤਾਜੀ ਸੁਭਾਸ਼ ਚੰਦਰ ਬੋਸ) ਅੰਤਰਰਾਸ਼ਟਰੀ ਹਵਾਈ ਅੱਡਾ 1

ਨੋਟ: ਹੇਠ ਲਿਖੇ ਪ੍ਰਸ਼ਨ ਸਿਰਫ **ਦਰਿਸ਼ਟੀਵਿਕਲਾਂਗ ਪ੍ਰੀਖਿਆਰਥੀਆਂ** ਦੇ ਲਈ ਪ੍ਰਸ਼ਨ ਸੰਖਿਆ 13 ਦੇ ਥਾਂ ਬਦਲਵੇਂ ਪ੍ਰਸ਼ਨ ਹਨ । 3×1=3

(13.1) ਉਸ ਰਾਜ ਦਾ ਨਾਮ ਲਿਖੋ ਜਿਥੇ ਜਲਿਆਂਵਾਲਾ ਬਾਗ ਹਤਿਆਕਾਂਡ ਹੋਇਆ ਸੀ । 1

(13.2) (a) ਉਸ ਰਾਜ ਦਾ ਨਾਮ ਲਿਖੋ ਜਿਥੇ ਸਿੰਗਰੋਲੀ ਤਾਪੀ ਉਰਜਾ ਸੰਯੰਤਰ (ਪਲਾਂਟ) ਸਥਿਤ ਹੈ । 1

ਜਾਂ

(b) ਉਸ ਰਾਜ ਦਾ ਨਾਮ ਲਿਖੋ ਜਿਥੇ ਮੁੰਬਈ ਸਾਫਟਵੇਯਰ ਟੈਕਨੋਲੋਜੀ ਪਾਰਕ ਸਥਿਤ ਹੈ । 1

(13.3) ਉਸ ਰਾਜ ਦਾ ਨਾਮ ਲਿਖੋ ਜਿਥੇ ਕੋਲਕਾਤਾ (ਨੇਤਾਜੀ ਸੁਭਾਸ਼ ਚੰਦਰ ਬੋਸ) ਅੰਤਰਰਾਸ਼ਟਰੀ ਹਵਾਈ ਅੱਡਾ ਸਥਿਤ ਹੈ । 1







ਪ੍ਰਸ਼ਨ ਸੰ. 13 ਦੇ ਲਈ





Series **BQQPP/3**



SET ~ 2

Q.P. Code **42/3/2**

Roll No.

| | | | | | | | |
|--|--|--|--|--|--|--|--|
| | | | | | | | |
|--|--|--|--|--|--|--|--|

Candidates must write the Q.P. Code on the title page of the answer-book.

ਨੋਟ / NOTE :

- (i) ਕਿਰਪਾ ਕਰਕੇ ਜਾਂਚ ਕਰ ਲਵੋ ਕਿ ਇਸ ਪ੍ਰਸ਼ਨ ਪੱਤਰ ਵਿਚ ਛਪੇ ਹੋਏ **7** ਪੰਨੇ + **1** ਮਾਨਚਿੱਤਰ ਹਨ ।
Please check that this question paper contains **7** printed pages + **1** Map.
- (ii) ਪ੍ਰਸ਼ਨ ਪੱਤਰ ਵਿਚ ਸੱਜੇ ਹੱਥ ਦੇ ਵਲ ਦਿੱਤੇ ਗਏ ਪ੍ਰਸ਼ਨ ਪੱਤਰ ਕੋਡ ਨੂੰ ਪ੍ਰੀਖਿਆਰਥੀ ਉੱਤਰ ਪੁਸਤਿਕਾ ਦੇ ਮੁੱਖ ਪੰਨੇ ਉੱਪਰ ਲਿਖਣ ।
Q.P. Code given on the right hand side of the question paper should be written on the title page of the answer-book by the candidate.
- (iii) ਕਿਰਪਾ ਕਰਕੇ ਜਾਂਚ ਕਰ ਲਵੋ ਕਿ ਇਸ ਪ੍ਰਸ਼ਨ ਪੱਤਰ ਵਿਚ **13** ਪ੍ਰਸ਼ਨ ਹਨ ।
Please check that this question paper contains **13** questions.
- (iv) ਕਿਰਪਾ ਕਰਕੇ ਪ੍ਰਸ਼ਨ ਦਾ ਉੱਤਰ ਲਿਖਣਾ ਸ਼ੁਰੂ ਕਰਨ ਤੋਂ ਪਹਿਲਾਂ, ਉੱਤਰ ਪੁਸਤਿਕਾ ਵਿਚ ਪ੍ਰਸ਼ਨ ਦਾ ਕ੍ਰਮਾਂਕ (ਸੀਰੀਅਲ ਨੰਬਰ) ਜ਼ਰੂਰ ਲਿਖੋ ।
Please write down the serial number of the question in the answer-book before attempting it.
- (v) ਇਸ ਪ੍ਰਸ਼ਨ ਪੱਤਰ ਨੂੰ ਪੜ੍ਹਨ ਦੇ ਲਈ 15 ਮਿੰਟ ਦਾ ਸਮਾਂ ਦਿੱਤਾ ਗਿਆ ਹੈ । ਪ੍ਰਸ਼ਨ ਪੱਤਰ ਸਵੇਰੇ 10.15 ਵਜੇ ਵੰਡੇ ਜਾਣਗੇ । 10.15 ਵਜੇ ਤੋਂ 10.30 ਵਜੇ ਤਕ ਪ੍ਰੀਖਿਆਰਥੀ ਕੇਵਲ ਪ੍ਰਸ਼ਨ ਪੱਤਰ ਨੂੰ ਪੜ੍ਹਨਗੇ ਅਤੇ ਇਸ ਸਮੇਂ ਵਿਚ ਉਹ ਉੱਤਰ ਪੁਸਤਿਕਾ ਵਿਚ ਕੋਈ ਉੱਤਰ ਨਹੀਂ ਲਿਖਣਗੇ ।
15 minute time has been allotted to read this question paper. The question paper will be distributed at 10.15 a.m. From 10.15 a.m. to 10.30 a.m., the students will read the question paper only and will not write any answer on the answer-book during this period.

ਸਮਾਜਿਕ ਵਿਗਿਆਨ

(ਪੰਜਾਬੀ ਉਲਥਾ)

SOCIAL SCIENCE

(Punjabi Version)



ਸਮਾਂ ਸੀਮਾਂ : 2 ਘੰਟੇ

Time allowed : 2 hours

ਪੂਰਨ ਅੰਕ : 40

Maximum Marks : 40





ਵਿਆਪਕ ਨਿਰਦੇਸ਼ :

ਹੇਠ ਲਿਖੇ ਨਿਰਦੇਸ਼ਾਂ ਨੂੰ ਬਹੁਤ ਧਿਆਨ ਨਾਲ ਪੜ੍ਹੋ ਅਤੇ ਉਨ੍ਹਾਂ ਦੀ ਸਖਤੀ ਨਾਲ ਪਾਲਨ ਕਰੋ :

- (i) ਇਹ ਪ੍ਰਸ਼ਨ ਪੱਤਰ ਪੰਜ ਖੰਡਾਂ ਵਿਚ ਵੰਡਿਆ ਹੋਇਆ ਹੈ – ਖੰਡ ਕ, ਖ, ਗ, ਘ ਅਤੇ ਙ । ਇਸ ਪ੍ਰਸ਼ਨ ਪੱਤਰ ਵਿਚ ਪ੍ਰਸ਼ਨਾਂ ਦੀ ਸੰਖਿਆ 13 ਹੈ । ਸਾਰੇ ਪ੍ਰਸ਼ਨ ਜ਼ਰੂਰੀ ਹਨ ।
- (ii) ਖੰਡ ਕ ਵਿਚ ਪ੍ਰਸ਼ਨ ਸੰਖਿਆ 1 ਤੋਂ 5 ਤਕ ਬਹੁਤ ਛੋਟੇ ਉੱਤਰ ਵਾਲੇ ਪ੍ਰਸ਼ਨ ਹਨ, ਹਰ ਇਕ ਪ੍ਰਸ਼ਨ 2 ਅੰਕ ਦਾ ਹੈ । ਹਰ ਇਕ ਪ੍ਰਸ਼ਨ ਦਾ ਉੱਤਰ 40 ਸ਼ਬਦਾਂ ਤੋਂ ਵਧ ਨਹੀਂ ਹੋਣਾ ਚਾਹਿਦਾ ।
- (iii) ਖੰਡ ਖ ਵਿਚ ਪ੍ਰਸ਼ਨ ਸੰਖਿਆ 6 ਤੋਂ 8 ਤਕ ਛੋਟੇ ਉੱਤਰ ਵਾਲੇ ਪ੍ਰਸ਼ਨ ਹਨ, ਹਰ ਇਕ ਪ੍ਰਸ਼ਨ 3 ਅੰਕ ਦਾ ਹੈ । ਹਰ ਇਕ ਪ੍ਰਸ਼ਨ ਦਾ ਉੱਤਰ 80 ਸ਼ਬਦਾਂ ਤੋਂ ਵਧ ਨਹੀਂ ਹੋਣਾ ਚਾਹਿਦਾ ।
- (iv) ਖੰਡ ਗ ਵਿਚ ਪ੍ਰਸ਼ਨ ਸੰਖਿਆ 9 ਅਤੇ 10 ਲੰਬੇ ਉੱਤਰ ਵਾਲੇ ਪ੍ਰਸ਼ਨ ਹਨ, ਹਰ ਇਕ ਪ੍ਰਸ਼ਨ 5 ਅੰਕ ਦਾ ਹੈ । ਹਰ ਇਕ ਪ੍ਰਸ਼ਨ ਦਾ ਉੱਤਰ 120 ਸ਼ਬਦਾਂ ਤੋਂ ਵਧ ਨਹੀਂ ਹੋਣਾ ਚਾਹਿਦਾ ।
- (v) ਖੰਡ ਘ ਵਿਚ ਪ੍ਰਸ਼ਨ ਸੰਖਿਆ 11 ਅਤੇ 12 ਕੇਸ-ਅਧਾਰਿਤ ਪ੍ਰਸ਼ਨ ਹਨ, ਹਰ ਇਕ ਪ੍ਰਸ਼ਨ 4 ਅੰਕ ਦਾ ਹੈ ।
- (vi) ਖੰਡ ਙ ਵਿਚ ਪ੍ਰਸ਼ਨ ਸੰਖਿਆ 13 ਮਾਨਚਿੱਤਰ-ਅਧਾਰਿਤ ਹੈ । ਇਹ ਪ੍ਰਸ਼ਨ 3 ਅੰਕ ਦਾ ਹੈ ਜਿਸਦੇ ਦੋ ਭਾਗ ਹਨ – 13(a) ਇਤਿਹਾਸ ਤੋਂ (1 ਅੰਕ) ਅਤੇ 13(b) ਭੂਗੋਲ ਤੋਂ (2 ਅੰਕ) ।
- (vii) ਪ੍ਰਸ਼ਨ ਪੱਤਰ ਵਿਚ ਕੋਈ ਵਿਆਪਕ ਵਿਕਲਪ ਨਹੀਂ ਹੈ । ਹਾਲਾਂਕਿ, ਕੁਝ ਪ੍ਰਸ਼ਨਾਂ ਵਿਚ ਅੰਦਰੂਨੀ ਵਿਕਲਪ ਦਿਤੇ ਗਏ ਹਨ । ਅਜੇਹੇ ਪ੍ਰਸ਼ਨਾਂ ਵਿਚੋਂ ਕੇਵਲ ਇਕ ਹੀ ਵਿਕਲਪ ਦਾ ਉੱਤਰ ਲਿਖੋ ।
- (viii) ਮਾਨਚਿੱਤਰ ਨੂੰ ਅਪਣੀ ਆਪਣੀ ਉੱਤਰ ਪੁਸਤਕ ਨਾਲ ਨੱਥੀ ਕਰੋ ।

ਖੰਡ ਕ

(ਬਹੁਤ ਛੋਟੇ ਉੱਤਰ ਪ੍ਰਸ਼ਨ)

(5×2=10)

1. ਪਹਿਲੇ ਵਿਸ਼ਵ ਯੁਧ ਦੇ ਭਾਰਤੀ ਅਰਥਵਿਵਸਥਾ ਉਪਰ ਪੈਣ ਵਾਲੇ ਕਿਸੇ ਦੋ ਪ੍ਰਭਾਵਾਂ ਦਾ ਵਰਣਨ ਕਰੋ । 2
2. ‘ਚੀਨੀ ਉਦਯੋਗ’ ਦੇ ਸਾਹਮਣੇ ਕਿਸੇ ਦੋ ਮੁੱਖ ਚੁਣੌਤੀਆਂ ਦੀ ਪਰਖ ਕਰੋ । 2





3. ਉਸ ਹਾਲਤ ਦਾ ਵਿਸ਼ਲੇਸ਼ਣ ਕਰੋ ਜਿਸ ਵਿਚ ਕਰਜ਼, ਕਰਜ਼ਾਈ ਨੂੰ ਅਜੇਹੇ ਹਾਲਤ ਵਿਚ ਘੱਕ ਦੋਂਦਾ ਹੈ, ਜਿਸ ਵਿਚੋਂ ਨਿਕਲਣਾ ਬਹੁਤ ਹੀ ਕਸ਼ਟਦਾਯਕ ਹੁੰਦਾ ਹੈ । 2
4. ਇਕ ਇਕਸੁਰਤਾ ਵਾਲਾ ਸਮਾਜਿਕ ਜੀਵਨ ਪ੍ਰਾਪਤ ਕਰਨ ਦੇ ਲਈ ਲੋਕਤੰਤਰ ਨੂੰ ਕਿਹੜੀਆਂ ਦੋ ਸ਼ਰਤਾਂ ਪੂਰੀਆਂ ਕਰਨੀਆਂ ਹੋਣਗੀਆਂ ? ਵਰਣਨ ਕਰੋ । 2
5. ਹੇਠ ਦਿਤੀ ਸਾਰਣੀ ਨੂੰ ਪੜ੍ਹੋ ਅਤੇ ਇਸਦੇ ਹੇਠ ਦਿਤੇ ਹੋਏ ਪ੍ਰਸ਼ਨਾਂ ਦੇ ਉੱਤਰ ਲਿਖੋ :

ਭਾਰਤੀ ਰੇਲ ਜਾਲ

| ਗੇਜ ਮੀਟਰ ਵਿਚ | ਰੂਟ (ਕਿ.ਮੀ.) | ਚਾਲੂ ਮਾਰਗ (ਕਿ.ਮੀ.) | ਕੁਲ ਮਾਰਗ (ਕਿ.ਮੀ.) |
|-----------------------------|-----------------|-----------------------|----------------------|
| ਵਡੀ ਲਾਇਨ (1.676) | 63,491 | 89,521 | 1,17,560 |
| ਮੀਟਰ ਲਾਇਨ (1.000) | 3,200 | 3,462 | 3,775 |
| ਛੋਟੀ ਲਾਇਨ (0.762 ਅਤੇ 0.610) | 1,751 | 1,752 | 1,901 |
| ਕੁਲ | 68,442 | 94,735 | 1,23,236 |

- (5.1) ਭਾਰਤ ਵਿਚ ਪਹਾੜੀ ਖੇਤਰਾਂ ਵਿਚ ਕਿਸ ਗੇਜ ਮਾਰਗ (ਲਾਇਨ) ਦੀ ਲੰਬਾਈ ਸਭ ਤੋਂ ਜ਼ਿਆਦਾ ਹੈ ? 1
- (5.2) ਭਾਰਤ ਵਿਚ ਕਿਸ ਗੇਜ (ਲਾਇਨ) ਦੀ ਲੰਬਾਈ ਸਭ ਤੋਂ ਜ਼ਿਆਦਾ ਹੈ ? 1

ਖੰਡ ਖ

(ਛੋਟੇ ਉੱਤਰ ਪ੍ਰਸ਼ਨ)

(3×3=9)

6. “ਲੋਕਤੰਤਰ ਦੀ ਆਪਣੇ ਲਈ ਹਮਾਇਤ ਪੈਦਾ ਕਰਨ ਦੀ ਸਮਰੱਥਾ ਹੀ ਆਪਣੇ ਆਪ ਵਿਚ ਇਕ ਨਤੀਜਾ ਹੈ ਜਿਸ ਨੂੰ ਅਣਦੇਖਿਆ ਨਹੀਂ ਕੀਤਾ ਜਾ ਸਕਦਾ ।” ਇਸ ਕਥਨ ਦਾ ਤਿੰਨ ਉਦਾਹਰਣਾਂ ਸਹਿਤ ਵਿਸ਼ਲੇਸ਼ਣ ਕਰੋ । 3





7. “ਮਹਾਤਮਾ ਗਾਂਧੀ ਨੇ ਖਿਲਾਫਤ ਅੰਦੋਲਨ ਨਾਲ ਜੁੜ ਕੇ ਭਾਰਤ ਵਿਚ ਵਧੇਰੇ ਵਿਆਪਕ ਅਧਾਰ ਵਾਲਾ ਅੰਦੋਲਨ ਚਲਾਇਆ ।” ਅਸਹਿਯੋਗ ਅੰਦੋਲਨ ਦੇ ਸੰਦਰਭ ਵਿਚ ਇਸ ਕਥਨ ਦੀ ਵਿਆਖਿਆ ਕਿਸੇ ਤਿੰਨ ਦਲੀਲਾਂ ਤੋਂ ਕਰੋ । 3

8. (a) ਵਿਸ਼ਵ ਵਪਾਰ ਸੰਗਠਨ ਵਿਚ ਵਿਕਾਸਸ਼ੀਲ ਦੇਸ਼ਾਂ ਦੇ ਲਈ ਹੋਈ ਬਹੁਸ ਦੀ ਪਰਖ ਕਰੋ । 3

ਜਾਂ

(b) ਭਾਰਤ ਵਿਚ ਵਿਦੇਸ਼ੀ ਕੰਪਨੀਆਂ ਨੂੰ ਨਿਵੇਸ਼ ਕਰਨ ਦੇ ਲਈ ਉਤਸਾਹਿਤ ਕਰਨ ਦੇ ਲਈ ਕੇਂਦਰ ਅਤੇ ਰਾਜ ਸਰਕਾਰਾਂ ਰਾਹੀਂ ਚੁੱਕੇ ਗਏ ਕਦਮਾਂ ਦਾ ਪਰੀਖਣ ਕਰੋ । 3

ਖੰਡ ਗ

(ਲੰਬੇ ਉੱਤਰ ਪ੍ਰਸ਼ਨ)

(2×5=10)

9. (a) “ਸੰਸਾਰ ਭਰ ਦੀਆਂ ਲੋਕਤੰਤਰਾਂ ਵਿਵਸਥਾਵਾਂ ਵਿਚ ਰਾਜਨੀਤਿਕ ਦਲ ਸਰਵਵਿਆਪੀ ਹੋ ਗਏ ਹਨ ।” ਉਦਾਹਰਣ ਸਹਿਤ ਕਥਨ ਦੀ ਵਿਆਖਿਆ ਕਰੋ । 1×5=5

ਜਾਂ

(b) “ਭਾਰਤ ਵਿਚ ਰਾਜਨੀਤਿਕ ਦਲਾਂ ਨੂੰ ਮਜ਼ਬੂਤ ਕਰਨ ਦੇ ਲਈ ਕਈ ਸੁਧਾਰ ਕੀਤੇ ਗਏ ਹਨ, ਤਾਂ ਕਿ ਉਹ ਆਪਣੇ ਕੰਮਾਂ ਨੂੰ ਚੰਗੀ ਤਰਾਂ ਨਾਲ ਕਰ ਸਕਣ ।” ਉਦਾਹਰਣ ਸਹਿਤ ਕਥਨ ਦੀ ਵਿਆਖਿਆ ਕਰੋ । 1×5=5

10. (a) ਵਿਕਾਸ ਦੇ ਲਈ ਰਿਣ (ਉਧਾਰ) ਦੀ ਭੂਮਿਕਾ ਨੂੰ ਉਦਾਹਰਣ ਸਹਿਤ ਸਪਸ਼ਟ ਕਰੋ । 1×5=5

ਜਾਂ

(b) ਸਾਖ (ਰਿਣ) ਦੇ ਉਪਚਾਰਿਕ ਸਰੋਤ ਕਿਸ ਤਰਾਂ ਅਨੌਪਚਾਰਿਕ ਸਰੋਤਾਂ ਨਾਲੋਂ ਵੱਖ ਹਨ ? ਉਦਾਹਰਣ ਸਹਿਤ ਸਪਸ਼ਟ ਕਰੋ । 1×5=5





ਖੰਡ ਘ

(ਕੇਸ-ਅਧਾਰਿਤ ਪ੍ਰਸ਼ਨ)

(2×4=8)

11. ਹੇਠ ਦਿੱਤੇ ਗਏ ਕੇਸ ਨੂੰ ਧਿਆਨ ਨਾਲ ਪੜ੍ਹੋ ਅਤੇ ਉਸਦੇ ਹੇਠ ਦਿੱਤੇ ਗਏ ਪ੍ਰਸ਼ਨਾਂ ਦੇ ਉੱਤਰ ਲਿਖੋ :

4

ਰਾਸ਼ਟਰੀ ਤਾਪ ਬਿਜਲੀਘਰ ਕਾਰਪੋਰੇਸ਼ਨ (NTPC) ਰਾਹੀਂ ਦਿਖਾਇਆ ਗਿਆ ਰਾਹ

ਭਾਰਤ ਵਿਚ ਰਾਸ਼ਟਰੀ ਤਾਪ ਬਿਜਲੀਘਰ ਕਾਰਪੋਰੇਸ਼ਨ (NTPC) ਬਿਜਲੀ ਦੇਣ ਲਈ ਮੁਖ ਨਿਗਮ (ਕਾਰਪੋਰੇਸ਼ਨ) ਹੈ । ਇਸਦੇ ਕੋਲ ਵਾਤਾਵਰਨ ਪ੍ਰਬੰਧਨ ਸਿਸਟਮ (EMS) 14001 ਦੇ ਲਈ ਆਈ.ਐਸ.ਓ. (ISO) ਪ੍ਰਮਾਣ ਪਤਰ ਹੈ । ਇਹ ਨਿਗਮ ਕੁਦਰਤੀ ਵਾਤਾਵਰਨ ਅਤੇ ਸੰਸਾਧਨ ਜਿਵੇਂ ਕਿ ਪਾਣੀ, ਖਾਣ ਦੇ ਤੇਲ, ਗੈਸ ਅਤੇ ਈਥਨ (ਬਾਲਣ) ਸੁਰਖਿਅਣ ਨੀਤੀ ਦਾ ਸਮਰਥਕ ਹੈ ਅਤੇ ਇਨ੍ਹਾਂ ਨੂੰ ਧਿਆਨ ਵਿਚ ਰਖਕੇ ਹੀ ਬਿਜਲੀ ਦੇ ਪਲਾਂਟਸ ਬਣਾਂਦਾ ਹੈ ।

ਅਜੇਹਾ ਹੇਠ ਲਿਖੇ ਉਪਾ ਕਰਕੇ ਹੀ ਸੰਭਵ ਹੈ :

- (a) ਆਧੁਨਿਕ ਤਕਨੀਕਾਂ ਉਪਰ ਅਧਾਰਿਤ ਉਪਕਰਣਾਂ ਦੀ ਸਹੀ ਵਰਤੋਂ ਕਰਕੇ ਅਤੇ ਮੌਜੂਦ ਉਪਕਰਣਾਂ ਵਿਚ ਸੁਧਾਰ ਕਰਕੇ ।
- (b) ਵਧ ਤੋਂ ਵਧ ਰਾਖ ਦੀ ਵਰਤੋਂ ਕਰਕੇ ਵਾਧੂ ਪਦਾਰਥ ਦੀ ਘਟੋ ਘਟ ਪੈਦਾਵਾਰ ਕਰਨਾ ।
- (c) ਪਰਿਆਵਰਨਕ ਸੰਤੁਲਨ ਬਣਾਈ ਰਖਣ ਦੇ ਲਈ ਹਰਿਆਲੇ ਖੇਤਰ ਦੀ ਸੁਰਖਿਆ ਅਤੇ ਜੰਗਲ ਬਨਾਉਣ ਦੇ ਲਈ ਪ੍ਰੇਰਿਤ ਕਰਨਾ ।
- (d) ਤਰਲ ਵਾਧੂ ਪਦਾਰਥਾਂ ਦਾ ਪ੍ਰਬੰਧਨ, ਰਾਖ ਮਿਲਿਆ ਪਾਣੀ ਦਾ ਮੁੜ ਵਰਤਣ ਯੋਗ ਬਨਾਣਾ ਅਤੇ ਰਾਖ-ਸੰਗ੍ਰਹਿ (Ash pond) ਪ੍ਰਬੰਧਨ ਰਾਹੀਂ ਵਾਤਾਵਰਨ ਪ੍ਰਦੂਸ਼ਣ ਨੂੰ ਘਟ ਕਰਨਾ ।
- (e) ਸਾਰੀਆਂ ਊਰਜਾ ਸੰਯੰਤਰਾਂ ਦਾ ਪਰਿਆਵਰਨਕ ਰੂਪ ਨਾਲ ਮਾਨੀਟਰ, ਸਮੀਖਿਆ ਕਰਨਾ ਅਤੇ ਆਨਲਾਇਨ ਅੰਕੜਿਆ ਦਾ ਪ੍ਰਬੰਧਨ ਕਰਨਾ ।

- | | | |
|--------|--|---|
| (11.1) | ‘ਨਿਰੰਤਰ ਪੋਸਣੀ ਵਿਕਾਸ’ ਨੂੰ ਪਰਿਭਾਸ਼ਿਤ ਕਰੋ । | 1 |
| (11.2) | ਆਈ.ਐਸ.ਓ. (ISO) ਪ੍ਰਮਾਣ ਦੇ ਪਿਛੇ ਕੀ ਵਿਚਾਰ ਹੈ ? | 1 |
| (11.3) | ਰਾਸ਼ਟਰੀ ਤਾਪ ਬਿਜਲੀਘਰ ਕਾਰਪੋਰੇਸ਼ਨ (NTPC) ਦੇ ਸਚੇਤਨ ਨਜ਼ਰੀਏ ਦੀ ਪਰਖ ਕਰੋ । | 2 |





12. ਹੇਠ ਦਿੱਤੇ ਗਏ ਕੇਸ ਨੂੰ ਧਿਆਨ ਨਾਲ ਪੜ੍ਹੋ ਅਤੇ ਉਸਦੇ ਹੇਠ ਦਿੱਤੇ ਗਏ ਪ੍ਰਸ਼ਨਾਂ ਦੇ ਉੱਤਰ ਲਿਖੋ :

4

ਸਮੂਹਕ ਅਪਣੇਪਨ ਦੀ ਭਾਵਨਾ

ਸਮੂਹਕ ਅਪਣੇਪਨ ਦੀ ਇਹ ਭਾਵਨਾ ਕੁਛ ਕੁ ਸਾਂਝੇ ਸੰਘਰਸ਼ਾਂ ਦੇ ਚਲਦੇ ਹੋਏ ਪੈਦਾ ਹੋਈ ਸੀ । ਇਨ੍ਹਾਂ ਤੋਂ ਇਲਾਵਾ ਬਹੁਤ ਸਾਰੀਆਂ ਸਭਿਆਚਾਰਕ ਪ੍ਰਕਿਰਿਆਵਾਂ ਵੀ ਸਨ ਜਿਨ੍ਹਾਂ ਦੇ ਜ਼ਰੀਏ ਰਾਸ਼ਟਰਵਾਦ ਲੋਕਾਂ ਦੀ ਕਲਪਨਾ ਅਤੇ ਦਿਲੋਦਿਮਾਗ ਉਪਰ ਛਾ ਗਿਆ ਸੀ । ਇਤਿਹਾਸ ਅਤੇ ਸਾਹਿਤ, ਲੋਕ ਕਥਾਵਾਂ ਅਤੇ ਗੀਤ, ਚਿਤਰ ਅਤੇ ਪ੍ਰਤੀਕ, ਸਾਰਿਆਂ ਨੇ ਰਾਸ਼ਟਰਵਾਦ ਨੂੰ ਸਾਕਾਰ ਕਰਨ ਵਿਚ ਆਪਣਾ ਹਿਸਾ ਪਾਇਆ ਸੀ ।

ਜਿਵੇਂ ਕਿ ਤੁਸੀਂ ਜਾਣਦੇ ਹੋ, ਰਾਸ਼ਟਰ ਦੀ ਪਛਾਣ ਸਭ ਤੋਂ ਜ਼ਿਆਦਾ ਕਿਸੇ ਮੂਰਤ (ਤਸਵੀਰ) ਵਿਚ ਦਰਸਾਈ ਜਾਂਦੀ ਹੈ । ਇਸ ਨਾਲ ਲੋਕਾਂ ਨੂੰ ਇਕ ਅਜੇਹੇ ਮੂਰਤ (ਤਸਵੀਰ) ਬਣਨ ਵਿਚ ਮਦਦ ਮਿਲਦੀ ਹੈ ਜਿਸ ਦੇ ਜ਼ਰੀਏ ਉਹ ਰਾਸ਼ਟਰ ਨੂੰ ਪਛਾਣ ਸਕਦੇ ਹਨ । ਵੀਹਵੀਂ ਸਦੀ ਵਿਚ ਰਾਸ਼ਟਰਵਾਦ ਦੇ ਵਿਕਾਸ ਦੇ ਨਾਲ ਭਾਰਤ ਦੀ ਪਛਾਣ ਵੀ ਭਾਰਤ ਮਾਤਾ ਦੀ ਮੂਰਤ (ਤਸਵੀਰ) ਦਾ ਰੂਪ ਲੈਣ ਲੱਗੀ । ਇਸ ਮੂਰਤ (ਤਸਵੀਰ) ਦੇ ਨਿਰਮਾਣ ਦਾ ਅਰੰਭ ਬੰਕਿਮ ਚੰਦਰ ਚੱਟੋਪਧਾਏ ਨੇ ਕੀਤਾ ਸੀ । 1870 ਦੇ ਦਹਾਕੇ ਵਿਚ ਉਨ੍ਹਾਂ ਨੇ ਮਾਤ-ਭੂਮੀ ਦੀ ਉਸਤਤ ਵਿਚ ‘ਵੰਦੇ ਮਾਤਰਮ’ ਗੀਤ ਲਿਖਿਆ ਸੀ । ਬਾਦ ਵਿਚ ਇਸਨੂੰ ਉਨ੍ਹਾਂ ਨੇ ਆਪਣੇ ਉਪਨਿਆਸ (ਨਾਵਲ) ਆਨੰਦਮੱਠ ਵਿਚ ਸ਼ਾਮਲ ਕਰ ਲਿਆ । ਇਹ ਗੀਤ ਬੰਗਾਲ ਵਿਚ ਸਵਦੇਸ਼ੀ ਅੰਦੋਲਨ ਵਿਚ ਖੂਬ ਗਾਇਆ ਗਿਆ । ਸਵਦੇਸ਼ੀ ਅੰਦੋਲਨ ਦੀ ਪ੍ਰੇਰਨਾ ਨਾਲ ਅਬਨੀੰਦਰਨਾਥ ਟੈਗੋਰ ਨੇ ਭਾਰਤ ਮਾਤਾ ਦੀ ਮਸ਼ਹੂਰ ਆਕਿਰਤੀ ਨੂੰ ਚਿਤਰਤ ਕੀਤਾ । ਇਸ ਪੇਂਟਿੰਗ ਵਿਚ ਭਾਰਤ ਮਾਤਾ ਨੂੰ ਇਕ ਸੰਨਿਆਸਿਨੀ ਦੇ ਰੂਪ ਵਿਚ ਦਰਸਾਇਆ ਗਿਆ ਹੈ । ਉਹ ਸ਼ਾਂਤ, ਗੰਭੀਰ, ਚੈਵੀ ਅਤੇ ਅਧਿਆਤਮਿਕ (ਰੱਬੀ) ਗੁਣਾਂ ਦੀ ਭਰੀ ਦਿਖਾਈ ਦੇਂਦੀ ਹੈ । ਇਸ ਤੋਂ ਅੱਗੇ, ਜਦੋਂ ਇਸ ਆਕਿਰਤੀ ਨੂੰ ਵੱਡੀ ਗਿਣਤੀ ਵਿਚ ਤਸਵੀਰਾਂ ਵਿਚ ਉਤਾਰਿਆ ਜਾਣ ਲਗਾ ਅਤੇ ਵੱਖੋ ਵੱਖ ਕਲਾਕਾਰ ਇਹ ਤਸਵੀਰ ਬਣਾਣ ਲਗੇ ਤਾਂ ਭਾਰਤ ਮਾਤਾ ਦੀ ਆਕਿਰਤੀ ਕਈ ਵੱਖੋ ਵੱਖਰੇ ਰੂਪ ਗ੍ਰਹਿਣ ਕਰਦੀ ਗਈ । ਇਸ ਮਾਤਾ ਆਕਿਰਤੀ ਦੇ ਵਲ ਸ਼ਰਧਾ ਨੂੰ ਰਾਸ਼ਟਰਵਾਦ ਵਿਚ ਆਸਥਾ ਦਾ ਪ੍ਰਤੀਕ ਮੰਨਿਆ ਜਾਣ ਲੱਗਾ ।

- (12.1) ‘ਰਾਸ਼ਟਰ’ ਲੋਕਾਂ ਦੇ ਦਿਮਾਗ ਵਿਚ ਇਕ ਯਥਾਰਥ ਰੂਪ ਕਿਵੇਂ ਬਣਿਆ ? 1
- (12.2) ਰਾਸ਼ਟਰਵਾਦ ਨੇ ਲੋਕਾਂ ਦੀਆਂ ਕਲਪਨਾਵਾਂ ਵਿਚ ਕਿਹੋ ਜਿਹਾ ਰੂਪ ਲਿਆ ? 1
- (12.3) ਵੱਖੋ ਵੱਖ ਸਮੂਹਾਂ ਦੇ ਲੋਕਾਂ ਵਿਚ ਸਮੂਹਕ ਅਪਣੇਪਨ ਦਾ ਭਾਵ ਕਿਵੇਂ ਵਿਕਸਿਤ ਹੋਇਆ ? 2





ਖੰਡ ਛ

(ਮਾਨਚਿੱਤਰ-ਅਧਾਰਿਤ ਪ੍ਰਸ਼ਨ)

(1+2=3)

13. (i) ਦਿਤੇ ਗਏ **ਭਾਰਤ** ਦੇ ਰਾਜਨੀਤਕ ਰੇਖਾ ਮਾਨਚਿੱਤਰ (ਪੰਨਾ 9 ਤੇ) ਉਪਰ ਹੇਠ ਲਿਖੀ ਜਾਣਕਾਰੀ ਦੀ ਮਦਦ ਨਾਲ 'A' ਦੇ ਰੂਪ ਵਿਚ ਨਿਸ਼ਾਨ ਲਗਾਏ ਗਏ ਸਥਾਨ ਦੀ ਪਛਾਣ ਕਰੋ ਅਤੇ ਉਸ ਦੇ ਨਜ਼ਦੀਕ ਖਿਚੀ ਲਕੀਰ (ਰੇਖਾ) ਉਪਰ ਉਸਦਾ ਸਹੀ ਨਾਮ ਲਿਖੋ ।

A. ਉਹ ਸਥਾਨ ਜਿਥੇ ਜਲਿਆਂਵਾਲਾ ਬਾਗ ਹਤਿਆਕਾਂਡ ਹੋਇਆ ਸੀ । 1

(ii) ਦਿਤੇ ਗਏ **ਭਾਰਤ** ਦੇ ਇਸ ਹੀ ਰੇਖਾ ਮਾਨਚਿੱਤਰ ਤੇ ਹੇਠ ਲਿਖਿਆਂ ਨੂੰ ਅੰਕਿਤ ਕਰੋ ਅਤੇ ਉਸਦਾ ਨਾਮ ਲਿਖੋ ।

(a) (I) ਸਿੰਗਰੋਲੀ ਤਾਪ ਉਰਜਾ ਸੰਯੰਤਰ (ਪਲਾਂਟ) 1

ਜਾਂ

(II) ਮੁੰਬਈ ਸਾਫਟਵੇਯਰ ਟੈਕਨੋਲੋਜੀ ਪਾਰਕ 1

(b) ਕੋਲਕਾਤਾ (ਨੇਤਾਜੀ ਸੁਭਾਸ਼ ਚੰਦਰ ਬੋਸ) ਅੰਤਰਰਾਸ਼ਟਰੀ ਹਵਾਈ ਅੱਡਾ 1

ਨੋਟ: ਹੇਠ ਲਿਖੇ ਪ੍ਰਸ਼ਨ ਸਿਰਫ **ਦਰਿਸ਼ਟੀਵਿਕਲਾਂਗ ਪ੍ਰੀਖਿਆਰਥੀਆਂ** ਦੇ ਲਈ ਪ੍ਰਸ਼ਨ ਸੰਖਿਆ 13 ਦੇ ਥਾਂ ਬਦਲਵੇਂ ਪ੍ਰਸ਼ਨ ਹਨ । 3×1=3

(13.1) ਉਸ ਰਾਜ ਦਾ ਨਾਮ ਲਿਖੋ ਜਿਥੇ ਜਲਿਆਂਵਾਲਾ ਬਾਗ ਹਤਿਆਕਾਂਡ ਹੋਇਆ ਸੀ । 1

(13.2) (a) ਉਸ ਰਾਜ ਦਾ ਨਾਮ ਲਿਖੋ ਜਿਥੇ ਸਿੰਗਰੋਲੀ ਤਾਪੀ ਉਰਜਾ ਸੰਯੰਤਰ (ਪਲਾਂਟ) ਸਥਿਤ ਹੈ । 1

ਜਾਂ

(b) ਉਸ ਰਾਜ ਦਾ ਨਾਮ ਲਿਖੋ ਜਿਥੇ ਮੁੰਬਈ ਸਾਫਟਵੇਯਰ ਟੈਕਨੋਲੋਜੀ ਪਾਰਕ ਸਥਿਤ ਹੈ । 1

(13.3) ਉਸ ਰਾਜ ਦਾ ਨਾਮ ਲਿਖੋ ਜਿਥੇ ਕੋਲਕਾਤਾ (ਨੇਤਾਜੀ ਸੁਭਾਸ਼ ਚੰਦਰ ਬੋਸ) ਅੰਤਰਰਾਸ਼ਟਰੀ ਹਵਾਈ ਅੱਡਾ ਸਥਿਤ ਹੈ । 1







ਪ੍ਰਸ਼ਨ ਸੰ. 13 ਦੇ ਲਈ





Series **BQQPP/3**



SET ~ 3

Q.P. Code **42/3/3**

Roll No.

| | | | | | | | |
|--|--|--|--|--|--|--|--|
| | | | | | | | |
|--|--|--|--|--|--|--|--|

Candidates must write the Q.P. Code on the title page of the answer-book.

ਨੋਟ / NOTE :

- (i) ਕਿਰਪਾ ਕਰਕੇ ਜਾਂਚ ਕਰ ਲਵੋ ਕਿ ਇਸ ਪ੍ਰਸ਼ਨ ਪੱਤਰ ਵਿਚ ਛਪੇ ਹੋਏ **7** ਪੰਨੇ + **1** ਮਾਨਚਿੱਤਰ ਹਨ ।
Please check that this question paper contains **7** printed pages + **1** Map.
- (ii) ਪ੍ਰਸ਼ਨ ਪੱਤਰ ਵਿਚ ਸੱਜੇ ਹੱਥ ਦੇ ਵਲ ਦਿੱਤੇ ਗਏ ਪ੍ਰਸ਼ਨ ਪੱਤਰ ਕੋਡ ਨੂੰ ਪ੍ਰੀਖਿਆਰਥੀ ਉੱਤਰ ਪੁਸਤਿਕਾ ਦੇ ਮੁੱਖ ਪੰਨੇ ਉੱਪਰ ਲਿਖਣ ।
Q.P. Code given on the right hand side of the question paper should be written on the title page of the answer-book by the candidate.
- (iii) ਕਿਰਪਾ ਕਰਕੇ ਜਾਂਚ ਕਰ ਲਵੋ ਕਿ ਇਸ ਪ੍ਰਸ਼ਨ ਪੱਤਰ ਵਿਚ **13** ਪ੍ਰਸ਼ਨ ਹਨ ।
Please check that this question paper contains **13** questions.
- (iv) ਕਿਰਪਾ ਕਰਕੇ ਪ੍ਰਸ਼ਨ ਦਾ ਉੱਤਰ ਲਿਖਣਾ ਸ਼ੁਰੂ ਕਰਨ ਤੋਂ ਪਹਿਲਾਂ, ਉੱਤਰ ਪੁਸਤਿਕਾ ਵਿਚ ਪ੍ਰਸ਼ਨ ਦਾ ਕ੍ਰਮਾਂਕ (ਸੀਰੀਅਲ ਨੰਬਰ) ਜ਼ਰੂਰ ਲਿਖੋ ।
Please write down the serial number of the question in the answer-book before attempting it.
- (v) ਇਸ ਪ੍ਰਸ਼ਨ ਪੱਤਰ ਨੂੰ ਪੜ੍ਹਨ ਦੇ ਲਈ 15 ਮਿੰਟ ਦਾ ਸਮਾਂ ਦਿੱਤਾ ਗਿਆ ਹੈ । ਪ੍ਰਸ਼ਨ ਪੱਤਰ ਸਵੇਰੇ 10.15 ਵਜੇ ਵੰਡੇ ਜਾਣਗੇ । 10.15 ਵਜੇ ਤੋਂ 10.30 ਵਜੇ ਤਕ ਪ੍ਰੀਖਿਆਰਥੀ ਕੇਵਲ ਪ੍ਰਸ਼ਨ ਪੱਤਰ ਨੂੰ ਪੜ੍ਹਨਗੇ ਅਤੇ ਇਸ ਸਮੇਂ ਵਿਚ ਉਹ ਉੱਤਰ ਪੁਸਤਿਕਾ ਵਿਚ ਕੋਈ ਉੱਤਰ ਨਹੀਂ ਲਿਖਣਗੇ ।
15 minute time has been allotted to read this question paper. The question paper will be distributed at 10.15 a.m. From 10.15 a.m. to 10.30 a.m., the students will read the question paper only and will not write any answer on the answer-book during this period.

ਸਮਾਜਿਕ ਵਿਗਿਆਨ

(ਪੰਜਾਬੀ ਉਲਥਾ)

SOCIAL SCIENCE

(Punjabi Version)



ਸਮਾਂ ਸੀਮਾਂ : 2 ਘੰਟੇ
Time allowed : 2 hours

ਪੂਰਨ ਅੰਕ : 40
Maximum Marks : 40





ਵਿਆਪਕ ਨਿਰਦੇਸ਼ :

ਹੇਠ ਲਿਖੇ ਨਿਰਦੇਸ਼ਾਂ ਨੂੰ ਬਹੁਤ ਧਿਆਨ ਨਾਲ ਪੜ੍ਹੋ ਅਤੇ ਉਨ੍ਹਾਂ ਦੀ ਸਖਤੀ ਨਾਲ ਪਾਲਨ ਕਰੋ :

- (i) ਇਹ ਪ੍ਰਸ਼ਨ ਪੱਤਰ ਪੰਜ ਖੰਡਾਂ ਵਿਚ ਵੰਡਿਆ ਹੋਇਆ ਹੈ – ਖੰਡ ਕ, ਖ, ਗ, ਘ ਅਤੇ ਙ । ਇਸ ਪ੍ਰਸ਼ਨ ਪੱਤਰ ਵਿਚ ਪ੍ਰਸ਼ਨਾਂ ਦੀ ਸੰਖਿਆ 13 ਹੈ । ਸਾਰੇ ਪ੍ਰਸ਼ਨ ਜ਼ਰੂਰੀ ਹਨ ।
- (ii) ਖੰਡ ਕ ਵਿਚ ਪ੍ਰਸ਼ਨ ਸੰਖਿਆ 1 ਤੋਂ 5 ਤਕ ਬਹੁਤ ਛੋਟੇ ਉੱਤਰ ਵਾਲੇ ਪ੍ਰਸ਼ਨ ਹਨ, ਹਰ ਇਕ ਪ੍ਰਸ਼ਨ 2 ਅੰਕ ਦਾ ਹੈ । ਹਰ ਇਕ ਪ੍ਰਸ਼ਨ ਦਾ ਉੱਤਰ 40 ਸ਼ਬਦਾਂ ਤੋਂ ਵਧ ਨਹੀਂ ਹੋਣਾ ਚਾਹਿਦਾ ।
- (iii) ਖੰਡ ਖ ਵਿਚ ਪ੍ਰਸ਼ਨ ਸੰਖਿਆ 6 ਤੋਂ 8 ਤਕ ਛੋਟੇ ਉੱਤਰ ਵਾਲੇ ਪ੍ਰਸ਼ਨ ਹਨ, ਹਰ ਇਕ ਪ੍ਰਸ਼ਨ 3 ਅੰਕ ਦਾ ਹੈ । ਹਰ ਇਕ ਪ੍ਰਸ਼ਨ ਦਾ ਉੱਤਰ 80 ਸ਼ਬਦਾਂ ਤੋਂ ਵਧ ਨਹੀਂ ਹੋਣਾ ਚਾਹਿਦਾ ।
- (iv) ਖੰਡ ਗ ਵਿਚ ਪ੍ਰਸ਼ਨ ਸੰਖਿਆ 9 ਅਤੇ 10 ਲੰਬੇ ਉੱਤਰ ਵਾਲੇ ਪ੍ਰਸ਼ਨ ਹਨ, ਹਰ ਇਕ ਪ੍ਰਸ਼ਨ 5 ਅੰਕ ਦਾ ਹੈ । ਹਰ ਇਕ ਪ੍ਰਸ਼ਨ ਦਾ ਉੱਤਰ 120 ਸ਼ਬਦਾਂ ਤੋਂ ਵਧ ਨਹੀਂ ਹੋਣਾ ਚਾਹਿਦਾ ।
- (v) ਖੰਡ ਘ ਵਿਚ ਪ੍ਰਸ਼ਨ ਸੰਖਿਆ 11 ਅਤੇ 12 ਕੇਸ-ਅਧਾਰਿਤ ਪ੍ਰਸ਼ਨ ਹਨ, ਹਰ ਇਕ ਪ੍ਰਸ਼ਨ 4 ਅੰਕ ਦਾ ਹੈ ।
- (vi) ਖੰਡ ਙ ਵਿਚ ਪ੍ਰਸ਼ਨ ਸੰਖਿਆ 13 ਮਾਨਚਿੱਤਰ-ਅਧਾਰਿਤ ਹੈ । ਇਹ ਪ੍ਰਸ਼ਨ 3 ਅੰਕ ਦਾ ਹੈ ਜਿਸਦੇ ਦੋ ਭਾਗ ਹਨ – 13(a) ਇਤਿਹਾਸ ਤੋਂ (1 ਅੰਕ) ਅਤੇ 13(b) ਭੂਗੋਲ ਤੋਂ (2 ਅੰਕ) ।
- (vii) ਪ੍ਰਸ਼ਨ ਪੱਤਰ ਵਿਚ ਕੋਈ ਵਿਆਪਕ ਵਿਕਲਪ ਨਹੀਂ ਹੈ । ਹਾਲਾਂਕਿ, ਕੁਝ ਪ੍ਰਸ਼ਨਾਂ ਵਿਚ ਅੰਦਰੂਨੀ ਵਿਕਲਪ ਦਿਤੇ ਗਏ ਹਨ । ਅਜੇਹੇ ਪ੍ਰਸ਼ਨਾਂ ਵਿਚੋਂ ਕੇਵਲ ਇਕ ਹੀ ਵਿਕਲਪ ਦਾ ਉੱਤਰ ਲਿਖੋ ।
- (viii) ਮਾਨਚਿੱਤਰ ਨੂੰ ਅਪਣੀ ਆਪਣੀ ਉੱਤਰ ਪੁਸਤਕ ਨਾਲ ਨੱਥੀ ਕਰੋ ।

ਖੰਡ ਕ

(ਬਹੁਤ ਛੋਟੇ ਉੱਤਰ ਪ੍ਰਸ਼ਨ)

(5×2=10)

1. 1920 ਦੇ ਪਹਿਲਾਂ ਕਿਸਾਨ ਵਰਗ ਦੇ ਲਈ ਮਹਾਤਮਾ ਗਾਂਧੀ ਦੇ ਦੋ ਸਤਿਆਗ੍ਰਹਾਂ ਦਾ ਵਰਣਨ ਕਰੋ । 2
2. ਲੋਹਾ ਅਤੇ ਇਸਪਾਤ (ਸਟੀਲ) ਉਦਯੋਗ ਆਪਣੀ ਪੂਰੀ ਸਮਰੱਥਾ ਦੇ ਅਨੁਸਾਰ ਉਤਪਾਦਨ ਕਿਉਂ ਨਹੀਂ ਕਰ ਸਕਿਆ ਹੈ ? ਉਦਾਹਰਣ ਸਹਿਤ ਵਿਆਖਿਆ ਕਰੋ । 2





3. ਹੇਠ ਦਿਤੀ ਸਾਰਣੀ ਨੂੰ ਪੜ੍ਹੋ ਅਤੇ ਇਸਦੇ ਹੇਠ ਦਿਤੇ ਹੋਏ ਪ੍ਰਸ਼ਨਾਂ ਦੇ ਉੱਤਰ ਲਿਖੋ :

ਭਾਰਤੀ ਰੇਲ ਜਾਲ

| ਗੇਜ ਮੀਟਰ ਵਿਚ | ਰੂਟ (ਕਿ.ਮੀ.) | ਚਾਲੂ ਮਾਰਗ (ਕਿ.ਮੀ.) | ਕੁਲ ਮਾਰਗ (ਕਿ.ਮੀ.) |
|-----------------------------|-----------------|-----------------------|----------------------|
| ਵਡੀ ਲਾਇਨ (1.676) | 63,491 | 89,521 | 1,17,560 |
| ਮੀਟਰ ਲਾਇਨ (1.000) | 3,200 | 3,462 | 3,775 |
| ਛੋਟੀ ਲਾਇਨ (0.762 ਅਤੇ 0.610) | 1,751 | 1,752 | 1,901 |
| ਕੁਲ | 68,442 | 94,735 | 1,23,236 |

(3.1) ਭਾਰਤ ਵਿਚ ਪਹਾੜੀ ਖੇਤਰਾਂ ਵਿਚ ਕਿਸ ਗੇਜ ਮਾਰਗ (ਲਾਇਨ) ਦੀ ਲੰਬਾਈ ਸਭ ਤੋਂ ਜ਼ਿਆਦਾ ਹੈ ? 1

(3.2) ਭਾਰਤ ਵਿਚ ਕਿਸ ਗੇਜ (ਲਾਇਨ) ਦੀ ਲੰਬਾਈ ਸਭ ਤੋਂ ਜ਼ਿਆਦਾ ਹੈ ? 1

4. ਇਕ ਇਕਸੁਰਤਾ ਵਾਲਾ ਸਮਾਜਿਕ ਜੀਵਨ ਪ੍ਰਾਪਤ ਕਰਨ ਦੇ ਲਈ ਲੋਕਤੰਤਰ ਨੂੰ ਕਿਹੜੀਆਂ ਦੋ ਸ਼ਰਤਾਂ ਪੂਰੀਆਂ ਕਰਨੀਆਂ ਹੋਣਗੀਆਂ ? ਵਰਣਨ ਕਰੋ । 2

5. ਉਸ ਹਾਲਤ ਦਾ ਵਿਸ਼ਲੇਸ਼ਣ ਕਰੋ ਜਿਸ ਵਿਚ ਕਰਜ਼, ਕਰਜ਼ਾਈ ਨੂੰ ਅਜੇਹੇ ਹਾਲਾਤ ਵਿਚ ਧੱਕ ਦਿੰਦਾ ਹੈ, ਜਿਸ ਵਿਚੋਂ ਨਿਕਲਣਾ ਬਹੁਤ ਹੀ ਕਸ਼ਟਦਾਯਕ ਹੁੰਦਾ ਹੈ । 2

ਖੰਡ ਖ

(ਛੋਟੇ ਉੱਤਰ ਪ੍ਰਸ਼ਨ)

(3×3=9)

6. (a) ਵਿਸ਼ਵ ਵਪਾਰ ਸੰਗਠਨ ਵਿਚ ਵਿਕਾਸਸ਼ੀਲ ਦੇਸ਼ਾਂ ਦੇ ਲਈ ਹੋਈ ਬਹਸ ਦੀ ਪਰਖ ਕਰੋ । 3

ਜਾਂ

(b) ਭਾਰਤ ਵਿਚ ਵਿਦੇਸ਼ੀ ਕੰਪਨੀਆਂ ਨੂੰ ਨਿਵੇਸ਼ ਕਰਨ ਦੇ ਲਈ ਉਤਸਾਹਿਤ ਕਰਨ ਦੇ ਲਈ ਕੇਂਦਰ ਅਤੇ ਰਾਜ ਸਰਕਾਰਾਂ ਰਾਹੀਂ ਚੁੱਕੇ ਗਏ ਕਦਮਾਂ ਦਾ ਪਰੀਖਣ ਕਰੋ । 3





7. “ਅਵਧ ਕਿਸਾਨ ਸੰਘਰਸ਼ ਦੇ ਏਕੀਕਰਣ ਦੇ ਨਾਲ ਅਸਹਿਯੋਗ ਅੰਦੋਲਨ ਵਿਆਪਕ ਹੋ ਗਿਆ ।” ਕਥਨ ਦੀ ਵਿਆਖਿਆ ਤਿੰਨ ਦਲੀਲਾਂ ਤੋਂ ਕਰੋ । 3
8. “ਲੋਕਤੰਤਰ ਦੀ ਆਪਣੇ ਲਈ ਹਮਾਇਤ ਪੈਦਾ ਕਰਨ ਦੀ ਸਮਰੱਥਾ ਹੀ ਆਪਣੇ ਆਪ ਵਿਚ ਇਕ ਨਤੀਜਾ ਹੈ ਜਿਸ ਨੂੰ ਅਣਦੇਖਿਆ ਨਹੀਂ ਕੀਤਾ ਜਾ ਸਕਦਾ ।” ਇਸ ਕਥਨ ਦਾ ਤਿੰਨ ਉਦਾਹਰਣਾਂ ਸਹਿਤ ਵਿਸਲੇਸ਼ਣ ਕਰੋ । 3

ਖੰਡ ਗ

(ਲੰਬੇ ਉੱਤਰ ਪ੍ਰਸ਼ਨ)

(2×5=10)

9. (a) “ਸੰਸਾਰ ਭਰ ਦੀਆਂ ਲੋਕਤੰਤਰਾਂ ਵਿਵਸਥਾਵਾਂ ਵਿਚ ਰਾਜਨੀਤਿਕ ਦਲ ਸਰਵਵਿਆਪੀ ਹੋ ਗਏ ਹਨ ।” ਉਦਾਹਰਣ ਸਹਿਤ ਕਥਨ ਦੀ ਵਿਆਖਿਆ ਕਰੋ । 1×5=5

ਜਾਂ

- (b) “ਭਾਰਤ ਵਿਚ ਰਾਜਨੀਤਿਕ ਦਲਾਂ ਨੂੰ ਮਜ਼ਬੂਤ ਕਰਨ ਦੇ ਲਈ ਕਈ ਸੁਧਾਰ ਕੀਤੇ ਗਏ ਹਨ, ਤਾਂ ਕਿ ਉਹ ਆਪਣੇ ਕੰਮਾਂ ਨੂੰ ਚੰਗੀ ਤਰਾਂ ਨਾਲ ਕਰ ਸਕਣ ।” ਉਦਾਹਰਣ ਸਹਿਤ ਕਥਨ ਦੀ ਵਿਆਖਿਆ ਕਰੋ । 1×5=5

10. (a) “ਸਸਤਾ ਅਤੇ ਸਮਰੱਥਾ ਦੇ ਅਨੁਕੂਲ ਕਰਜ਼ ਦੇਸ਼ ਦੇ ਵਿਕਾਸ ਦੇ ਲਈ ਮਹਤਵਪੂਰਨ ਹੈ ।” ਇਸ ਕਥਨ ਦੀ ਵਿਆਖਿਆ ਕਰੋ । 1×5=5

ਜਾਂ

- (b) ਭਾਰਤ ਵਿਚ ਬੈਂਕਾਂ ਦੇ ਵੱਖ ਵੱਖ ਕੰਮਾਂ ਨੂੰ ਸਪਸ਼ਟ ਕਰੋ । 1×5=5

ਖੰਡ ਘ

(ਕੋਸ-ਅਧਾਰਿਤ ਪ੍ਰਸ਼ਨ)

(2×4=8)

11. ਹੇਠ ਦਿੱਤੇ ਗਏ ਕੋਸ ਨੂੰ ਧਿਆਨ ਨਾਲ ਪੜ੍ਹੋ ਅਤੇ ਉਸਦੇ ਹੇਠ ਦਿੱਤੇ ਗਏ ਪ੍ਰਸ਼ਨਾਂ ਦੇ ਉੱਤਰ ਲਿਖੋ : 4

ਰਾਸ਼ਟਰੀ ਤਾਪ ਬਿਜਲੀਘਰ ਕਾਰਪੋਰੇਸ਼ਨ (NTPC) ਰਾਹੀਂ ਦਿਖਾਇਆ ਗਿਆ ਰਾਹ

ਭਾਰਤ ਵਿਚ ਰਾਸ਼ਟਰੀ ਤਾਪ ਬਿਜਲੀਘਰ ਕਾਰਪੋਰੇਸ਼ਨ (NTPC) ਬਿਜਲੀ ਦੇਣ ਲਈ ਮੁਖ ਨਿਗਮ (ਕਾਰਪੋਰੇਸ਼ਨ) ਹੈ । ਇਸਦੇ ਕੋਲ ਵਾਤਾਵਰਨ ਪ੍ਰਬੰਧਨ ਸਿਸਟਮ





(EMS) 14001 ਦੇ ਲਈ ਆਈ.ਐਸ.ਓ. (ISO) ਪ੍ਰਮਾਣ ਪਤਰ ਹੈ । ਇਹ ਨਿਗਮ ਕੁਦਰਤੀ ਵਾਤਾਵਰਨ ਅਤੇ ਸੰਸਾਧਨ ਜਿਵੇਂ ਕਿ ਪਾਣੀ, ਖਾਣ ਦੇ ਤੇਲ, ਗੈਸ ਅਤੇ ਈਥੇਨ (ਬਾਲਣ) ਸੁਰਖਿਅਣ ਨੀਤੀ ਦਾ ਸਮਰਥਕ ਹੈ ਅਤੇ ਇਨ੍ਹਾਂ ਨੂੰ ਧਿਆਨ ਵਿਚ ਰਖਕੇ ਹੀ ਬਿਜਲੀ ਦੇ ਪਲਾਂਟਸ ਬਣਾਂਦਾ ਹੈ ।

ਅਜੇਹਾ ਹੇਠ ਲਿਖੇ ਉਪਾ ਕਰਕੇ ਹੀ ਸੰਭਵ ਹੈ :

- (a) ਆਧੁਨਿਕ ਤਕਨੀਕਾਂ ਉਪਰ ਅਧਾਰਿਤ ਉਪਕਰਣਾਂ ਦੀ ਸਹੀ ਵਰਤੋਂ ਕਰਕੇ ਅਤੇ ਮੌਜੂਦ ਉਪਕਰਣਾਂ ਵਿਚ ਸੁਧਾਰ ਕਰਕੇ ।
- (b) ਵਧ ਤੋਂ ਵਧ ਰਾਖ ਦੀ ਵਰਤੋਂ ਕਰਕੇ ਵਾਧੂ ਪਦਾਰਥ ਦੀ ਘੱਟੋ ਘੱਟ ਪੈਦਾਵਾਰ ਕਰਨਾ ।
- (c) ਪਰਿਆਵਰਨਕ ਸੰਤੁਲਨ ਬਣਾਈ ਰਖਣ ਦੇ ਲਈ ਹਰਿਆਲੇ ਖੇਤਰ ਦੀ ਸੁਰਖਿਆ ਅਤੇ ਜੰਗਲ ਬਨਾਉਣ ਦੇ ਲਈ ਪ੍ਰੇਰਿਤ ਕਰਨਾ ।
- (d) ਤਰਲ ਵਾਧੂ ਪਦਾਰਥਾਂ ਦਾ ਪ੍ਰਬੰਧਨ, ਰਾਖ ਮਿਲਿਆ ਪਾਣੀ ਦਾ ਮੁੜ ਵਰਤਣ ਯੋਗ ਬਨਾਣਾ ਅਤੇ ਰਾਖ-ਸੰਗ੍ਰਹਿ (Ash pond) ਪ੍ਰਬੰਧਨ ਰਾਹੀਂ ਵਾਤਾਵਰਨ ਪ੍ਰਦੂਸ਼ਣ ਨੂੰ ਘਟ ਕਰਨਾ ।
- (e) ਸਾਰੀਆਂ ਊਰਜਾ ਸੰਯੰਤਰਾਂ ਦਾ ਪਰਿਆਵਰਨਕ ਰੂਪ ਨਾਲ ਮਾਨੀਟਰ, ਸਮੀਖਿਆ ਕਰਨਾ ਅਤੇ ਆਨਲਾਇਨ ਅੰਕੜਿਆ ਦਾ ਪ੍ਰਬੰਧਨ ਕਰਨਾ ।

- (11.1) ‘ਨਿਰੰਤਰ ਪੋਸਣੀ ਵਿਕਾਸ’ ਨੂੰ ਪਰਿਭਾਸ਼ਿਤ ਕਰੋ । 1
- (11.2) ਆਈ.ਐਸ.ਓ. (ISO) ਪ੍ਰਮਾਣ ਦੇ ਪਿਛੇ ਕੀ ਵਿਚਾਰ ਹੈ ? 1
- (11.3) ਰਾਸ਼ਟਰੀ ਤਾਪ ਬਿਜਲੀਘਰ ਕਾਰਪੋਰੇਸ਼ਨ (NTPC) ਦੇ ਸਚੇਤਨ ਨਜ਼ਰੀਏ ਦੀ ਪਰਖ ਕਰੋ । 2





12. ਹੇਠ ਦਿੱਤੇ ਗਏ ਕੇਸ ਨੂੰ ਧਿਆਨ ਨਾਲ ਪੜ੍ਹੋ ਅਤੇ ਉਸਦੇ ਹੇਠ ਦਿੱਤੇ ਗਏ ਪ੍ਰਸ਼ਨਾਂ ਦੇ ਉੱਤਰ ਲਿਖੋ :

4

ਸਮੂਹਕ ਅਪਣੇਪਨ ਦੀ ਭਾਵਨਾ

ਸਮੂਹਕ ਅਪਣੇਪਨ ਦੀ ਇਹ ਭਾਵਨਾ ਕੁਛ ਕੁ ਸਾਂਝੇ ਸੰਘਰਸ਼ਾਂ ਦੇ ਚਲਦੇ ਹੋਏ ਪੈਦਾ ਹੋਈ ਸੀ । ਇਨ੍ਹਾਂ ਤੋਂ ਇਲਾਵਾ ਬਹੁਤ ਸਾਰੀਆਂ ਸਭਿਆਚਾਰਕ ਪ੍ਰਕਿਅਾਰਾਵਾਂ ਵੀ ਸਨ ਜਿਨ੍ਹਾਂ ਦੇ ਜ਼ਰੀਏ ਰਾਸ਼ਟਰਵਾਦ ਲੋਕਾਂ ਦੀ ਕਲਪਨਾ ਅਤੇ ਦਿਲੋਦਿਮਾਗ ਉਪਰ ਛਾ ਗਿਆ ਸੀ । ਇਤਿਹਾਸ ਅਤੇ ਸਾਹਿਤ, ਲੋਕ ਕਥਾਵਾਂ ਅਤੇ ਗੀਤ, ਚਿਤਰ ਅਤੇ ਪ੍ਰਤੀਕ, ਸਾਰਿਆਂ ਨੇ ਰਾਸ਼ਟਰਵਾਦ ਨੂੰ ਸਾਕਾਰ ਕਰਨ ਵਿਚ ਆਪਣਾ ਹਿਸਾ ਪਾਇਆ ਸੀ ।

ਜਿਵੇਂ ਕਿ ਤੁਸੀ ਜਾਣਦੇ ਹੋ, ਰਾਸ਼ਟਰ ਦੀ ਪਛਾਣ ਸਭ ਤੋਂ ਜ਼ਿਆਦਾ ਕਿਸੇ ਮੂਰਤ (ਤਸਵੀਰ) ਵਿਚ ਦਰਸਾਈ ਜਾਂਦੀ ਹੈ । ਇਸ ਨਾਲ ਲੋਕਾਂ ਨੂੰ ਇਕ ਅਜੇਹੇ ਮੂਰਤ (ਤਸਵੀਰ) ਬਣਨ ਵਿਚ ਮਦਦ ਮਿਲਦੀ ਹੈ ਜਿਸ ਦੇ ਜ਼ਰੀਏ ਉਹ ਰਾਸ਼ਟਰ ਨੂੰ ਪਛਾਣ ਸਕਦੇ ਹਨ । ਵੀਹਵੀਂ ਸਦੀ ਵਿਚ ਰਾਸ਼ਟਰਵਾਦ ਦੇ ਵਿਕਾਸ ਦੇ ਨਾਲ ਭਾਰਤ ਦੀ ਪਛਾਣ ਵੀ ਭਾਰਤ ਮਾਤਾ ਦੀ ਮੂਰਤ (ਤਸਵੀਰ) ਦਾ ਰੂਪ ਲੈਣ ਲੱਗੀ । ਇਸ ਮੂਰਤ (ਤਸਵੀਰ) ਦੇ ਨਿਰਮਾਣ ਦਾ ਅਰੰਭ ਬੰਕਿਮ ਚੰਦਰ ਚੱਟੋਪਧਾਏ ਨੇ ਕੀਤਾ ਸੀ । 1870 ਦੇ ਦਹਾਕੇ ਵਿਚ ਉਨ੍ਹਾਂ ਨੇ ਮਾਤ-ਭੂਮੀ ਦੀ ਉਸਤਤ ਵਿਚ ‘ਵੰਦੇ ਮਾਤਰਮ’ ਗੀਤ ਲਿਖਿਆ ਸੀ । ਬਾਦ ਵਿਚ ਇਸਨੂੰ ਉਨ੍ਹਾਂ ਨੇ ਆਪਣੇ ਉਪਨਿਆਸ (ਨਾਵਲ) ਆਨੰਦਮੱਠ ਵਿਚ ਸ਼ਾਮਲ ਕਰ ਲਿਆ । ਇਹ ਗੀਤ ਬੰਗਾਲ ਵਿਚ ਸਵਦੇਸ਼ੀ ਅੰਦੋਲਨ ਵਿਚ ਖੂਬ ਗਾਇਆ ਗਿਆ । ਸਵਦੇਸ਼ੀ ਅੰਦੋਲਨ ਦੀ ਪ੍ਰੇਰਨਾ ਨਾਲ ਅਬਨੀੰਦਰਨਾਥ ਟੈਗੋਰ ਨੇ ਭਾਰਤ ਮਾਤਾ ਦੀ ਮਸ਼ਹੂਰ ਆਕਿਰਤੀ ਨੂੰ ਚਿਤਰਤ ਕੀਤਾ । ਇਸ ਪੇਂਟਿੰਗ ਵਿਚ ਭਾਰਤ ਮਾਤਾ ਨੂੰ ਇਕ ਸੰਨਿਆਸਿਨੀ ਦੇ ਰੂਪ ਵਿਚ ਦਰਸਾਇਆ ਗਿਆ ਹੈ । ਉਹ ਸ਼ਾਂਤ, ਗੰਭੀਰ, ਦੈਵੀ ਅਤੇ ਅਧਿਆਤਮਿਕ (ਰੱਬੀ) ਗੁਣਾਂ ਦੀ ਭਰੀ ਦਿਖਾਈ ਦੇਂਦੀ ਹੈ । ਇਸ ਤੋਂ ਅੱਗੇ, ਜਦੋਂ ਇਸ ਆਕਿਰਤੀ ਨੂੰ ਵੱਡੀ ਗਿਣਤੀ ਵਿਚ ਤਸਵੀਰਾਂ ਵਿਚ ਉਤਾਰਿਆ ਜਾਣ ਲਗਾ ਅਤੇ ਵੱਖੋ ਵੱਖ ਕਲਾਕਾਰ ਇਹ ਤਸਵੀਰ ਬਣਾਣ ਲਗੇ ਤਾਂ ਭਾਰਤ ਮਾਤਾ ਦੀ ਆਕਿਰਤੀ ਕਈ ਵੱਖੋ ਵੱਖਰੇ ਰੂਪ ਗ੍ਰਹਿਣ ਕਰਦੀ ਗਈ । ਇਸ ਮਾਤਾ ਆਕਿਰਤੀ ਦੇ ਵਲ ਸ਼ਰਧਾ ਨੂੰ ਰਾਸ਼ਟਰਵਾਦ ਵਿਚ ਆਸਥਾ ਦਾ ਪ੍ਰਤੀਕ ਮੰਨਿਆ ਜਾਣ ਲੱਗਾ ।

- (12.1) ‘ਰਾਸ਼ਟਰ’ ਲੋਕਾਂ ਦੇ ਦਿਮਾਗ ਵਿਚ ਇਕ ਯਥਾਰਥ ਰੂਪ ਕਿਵੇਂ ਬਣਿਆ ? 1
- (12.2) ਰਾਸ਼ਟਰਵਾਦ ਨੇ ਲੋਕਾਂ ਦੀਆਂ ਕਲਪਨਾਵਾਂ ਵਿਚ ਕਿਹੋ ਜਿਹਾ ਰੂਪ ਲਿਆ ? 1
- (12.3) ਵੱਖੋ ਵੱਖ ਸਮੂਹਾਂ ਦੇ ਲੋਕਾਂ ਵਿਚ ਸਮੂਹਕ ਅਪਣੇਪਨ ਦਾ ਭਾਵ ਕਿਵੇਂ ਵਿਕਸਿਤ ਹੋਇਆ ? 2





ਖੰਡ ਛ

(ਮਾਨਚਿੱਤਰ-ਅਧਾਰਿਤ ਪ੍ਰਸ਼ਨ)

(1+2=3)

13. (i) ਦਿਤੇ ਗਏ **ਭਾਰਤ** ਦੇ ਰਾਜਨੀਤਕ ਰੇਖਾ ਮਾਨਚਿੱਤਰ (ਪੰਨਾ 9 ਤੇ) ਉਪਰ ਹੇਠ ਲਿਖੀ ਜਾਣਕਾਰੀ ਦੀ ਮਦਦ ਨਾਲ 'A' ਦੇ ਰੂਪ ਵਿਚ ਨਿਸ਼ਾਨ ਲਗਾਏ ਗਏ ਸਥਾਨ ਦੀ ਪਛਾਣ ਕਰੋ ਅਤੇ ਉਸ ਦੇ ਨਜ਼ਦੀਕ ਖਿਚੀ ਲਕੀਰ (ਰੇਖਾ) ਉਪਰ ਉਸਦਾ ਸਹੀ ਨਾਮ ਲਿਖੋ ।

A. ਉਹ ਸਥਾਨ ਜਿਥੇ ਜਲਿਆਂਵਾਲਾ ਬਾਗ ਹਤਿਆਕਾਂਡ ਹੋਇਆ ਸੀ । 1

(ii) ਦਿਤੇ ਗਏ **ਭਾਰਤ** ਦੇ ਇਸ ਹੀ ਰੇਖਾ ਮਾਨਚਿੱਤਰ ਤੇ ਹੇਠ ਲਿਖਿਆਂ ਨੂੰ ਅੰਕਿਤ ਕਰੋ ਅਤੇ ਉਸਦਾ ਨਾਮ ਲਿਖੋ ।

(a) (I) ਸਿੰਗਰੋਲੀ ਤਾਪ ਉਰਜਾ ਸੰਯੰਤਰ (ਪਲਾਂਟ) 1

ਜਾਂ

(II) ਮੁੰਬਈ ਸਾਫਟਵੇਯਰ ਟੈਕਨੋਲੋਜੀ ਪਾਰਕ 1

(b) ਕੋਲਕਾਤਾ (ਨੇਤਾਜੀ ਸੁਭਾਸ਼ ਚੰਦਰ ਬੋਸ) ਅੰਤਰਰਾਸ਼ਟਰੀ ਹਵਾਈ ਅੱਡਾ 1

ਨੋਟ: ਹੇਠ ਲਿਖੇ ਪ੍ਰਸ਼ਨ ਸਿਰਫ **ਦਰਿਸ਼ਟੀਵਿਕਲਾਂਗ ਪ੍ਰੀਖਿਆਰਥੀਆਂ** ਦੇ ਲਈ ਪ੍ਰਸ਼ਨ ਸੰਖਿਆ 13 ਦੇ ਥਾਂ ਬਦਲਵੇਂ ਪ੍ਰਸ਼ਨ ਹਨ । 3×1=3

(13.1) ਉਸ ਰਾਜ ਦਾ ਨਾਮ ਲਿਖੋ ਜਿਥੇ ਜਲਿਆਂਵਾਲਾ ਬਾਗ ਹਤਿਆਕਾਂਡ ਹੋਇਆ ਸੀ । 1

(13.2) (a) ਉਸ ਰਾਜ ਦਾ ਨਾਮ ਲਿਖੋ ਜਿਥੇ ਸਿੰਗਰੋਲੀ ਤਾਪੀ ਉਰਜਾ ਸੰਯੰਤਰ (ਪਲਾਂਟ) ਸਥਿਤ ਹੈ । 1

ਜਾਂ

(b) ਉਸ ਰਾਜ ਦਾ ਨਾਮ ਲਿਖੋ ਜਿਥੇ ਮੁੰਬਈ ਸਾਫਟਵੇਯਰ ਟੈਕਨੋਲੋਜੀ ਪਾਰਕ ਸਥਿਤ ਹੈ । 1

(13.3) ਉਸ ਰਾਜ ਦਾ ਨਾਮ ਲਿਖੋ ਜਿਥੇ ਕੋਲਕਾਤਾ (ਨੇਤਾਜੀ ਸੁਭਾਸ਼ ਚੰਦਰ ਬੋਸ) ਅੰਤਰਰਾਸ਼ਟਰੀ ਹਵਾਈ ਅੱਡਾ ਸਥਿਤ ਹੈ । 1







ਪ੍ਰਸ਼ਨ ਸੰ. 13 ਦੇ ਲਈ





Series : CQQPP/2

SET ~ 1

رول نمبر
Roll No.

| | | | | | | | |
|--|--|--|--|--|--|--|--|
| | | | | | | | |
|--|--|--|--|--|--|--|--|

کوڈ Q.P. 48/2/1
Q.P. Code

Candidates must write the Q.P. Code on the title page of the answer-book.

نوٹ / NOTE :

- (i) جانچ لیجئے کہ اس سوالنامے میں چھپے ہوئے صفحات کی تعداد 8 (بشمول نقشہ) ہے۔
Please check that this question paper contains 8 printed pages (Including Map).
- (ii) طالب علم کو سوالنامے کے اوپر دائیں طرف چھپا Q.P. کوڈ نمبر جوابی کاپی کے اوپری صفحہ پر لکھنا ہے۔
Q.P. Code given on the right hand side of the question paper should be written on the title page of the answer-book by the candidate.
- (iii) جانچ لیجئے کہ اس سوالنامے میں چھپے سوالات کی تعداد 13 ہے۔
Please check that this question paper contains 13 questions.
- (iv) کسی سوال کا جواب لکھنا شروع کرنے سے پہلے سوالنامے کے مطابق سوال کا نمبر جوابی کاپی میں لکھئے۔
Please write down the Serial Number of the question in the answer-book before attempting it.
- (v) سوالنامہ پڑھنے کے لیے 15 منٹ کا مزید وقت دیا گیا ہے۔ سوالنامہ صبح 10.15 بجے تقسیم کیا جائے گا۔ 10.15 بجے سے 10.30 بجے تک طلباء صرف سوالنامہ پڑھیں گے اور اس وقت کے دوران طلباء سوالنامے کے سوالات کے جوابات لکھنا شروع نہیں کر سکتے۔
15 minute time has been allotted to read this question paper. The question paper will be distributed at 10.15 a.m. From 10.15 a.m. to 10.30 a.m., the candidates will read the question paper only and will not write any answer on the answer-book during this period.



سوشل سائنس



SOCIAL SCIENCE
(Urdu Version)

مقررہ وقت : 2 گھنٹے

Time allowed : 2 hours

کل نمبر : 40

Maximum Marks : 40

48/2/1

173A

Page 1

P.T.O.

عام ہدایات:

درج ذیل ہدایات کو غور سے پڑھیے اور ان پر عمل کیجیے:

- (i) اس سوال نامہ میں کل 13 سوال ہیں۔ تمام سوال کرنے لازمی ہیں۔
- (ii) سوالنامہ پانچ حصوں A ، B ، C ، D اور E میں تقسیم کیا گیا ہے۔
- (iii) حصہ A میں سوال نمبر 1 سے 5 تک بہت چھوٹے جواب کے سوالات (Very Short Answer type questions) ہیں۔ ہر ایک سوال 2 نمبر کا ہے۔
- (iv) حصہ B میں سوال نمبر 6 سے 8 تک چھوٹے جواب کے سوالات (Short Answer type questions) ہیں۔ ہر ایک سوال 3 نمبر کا ہے۔
- (v) حصہ C میں سوال نمبر 9 اور 10 لمبے جواب کے سوالات (Long Answer type questions) ہیں۔ ہر ایک سوال 5 نمبر کا ہے۔ ہر ایک سوال کا جواب 120 الفاظ سے زیادہ نہیں ہونا چاہیے۔
- (vi) حصہ D میں سوال نمبر 11 اور 12 کیس پر مبنی سوالات ہیں۔ ہر ایک سوال 4 نمبر کا ہے۔
- (vii) حصہ E میں سوال نمبر 13 نقشہ کا سوال 3 نمبر کا ہے۔ یہ دو پارٹ میں تقسیم ہے - 13.1 ہسٹری (1 نمبر) کا اور 13.2 جغرافیہ (2 نمبر) کا ہے۔
- (viii) اس سوالنامے میں الگ سے انتخاب کرنے (Overall Choice) کا کوئی سوال نہیں دیا گیا ہے۔ پھر بھی کچھ سوالوں میں اندرونی انتخاب (Internal Choice) دیے گئے ہیں۔ ایسے سوالوں میں سے آپ کو صرف ایک سوال کا جواب لکھنا ہے۔

حصہ - A

(بہت چھوٹے جواب کے سوالات)

$2 \times 5 = 10$

1. سول نافرمانی تحریک (Civil Disobedience Movement) کو شروع کرنے والے کوئی دو اسباب لکھیے۔ 2
2. کیمیائی صنعت (کیمیکل انڈسٹری) ہندوستان میں کس طرح تنوع پیدا کرتی ہے؟ وضاحت کیجیے۔ 2
3. حکومت تشکیل دینے والی اور حزب اختلاف سیاسی پارٹی میں فرق بتائیے۔ 2



2

4. خام مواد کی بنیاد پر صنعتوں کی درجہ بندی کیجیے۔

2

5. درج ذیل اقتباس (ماخذ) کو پڑھیے اور اس کے نیچے دیے گئے سوالوں کے جواب لکھیے:

مکان کے لیے قرض

میگھانے ایک مکان خریدنے کے لیے بینک سے ₹ 5 لاکھ قرض لیا ہے۔ قرض پر سالانہ شرح سود 12 فی صد ہے اور ماہانہ قسطوں میں 10 سال کے عرصے میں یہ قرض چکانا ہے۔ میگھانے بینک میں دستاویز داخل کیا تھا جس میں اس کے روزگار سے متعلق ریکارڈوں اور تنخواہ کو دکھایا گیا تھا۔ اس سے پہلے بینک نے اسے قرض دینے کی منظوری دی تھی۔ بینک نے نئے مکان کے کاغذات ضمانت کے طور پر رکھ لیے، جسے میگھا کو تب ہی واپس کیا جائے گا جب وہ پورے قرض کو سود کے ساتھ واپس کر دے گی۔

1

5.1 میگھانے کس طرح کے ماخذ (source) سے قرض لیا ہے؟

1

5.2 اس ماخذ میں دی گئی قرض کی شرط کو بیان کیجیے۔

حصہ - B

3 × 3 = 9

(چھوٹے جواب کے سوالات)

3

6. (a) بینک کچھ - ایک ادھار لینے والوں کو قرض کیوں نہیں دیتے ہیں؟ تفصیل سے بیان کیجیے۔

یا

3

(b) ”خود امدادی گروپ“ (Self Help Group) کے کاموں کو بیان کیجیے۔

3

7. ”اقتصادی لحاظ سے عدم تعاون تحریک کے اثرات زیادہ ڈرامائی تھے۔“ مثال کے ساتھ اس قول کی تائید کیجیے۔

3

8. سیاسی پارٹیوں کا عروج سیدھے طور پر نمائندہ جمہوریتوں (representative democracies) کے ظہور سے کس طرح جڑا ہوا ہے؟ جانچ کیجیے۔



حصہ - C

(لئے جواب کے سوالات)

$$5 \times 2 = 10$$

9. (a) ”جمہوریت، لوگوں کی ضرورتوں اور مانگوں کا دھیان رکھتی ہے۔“ اس قول کا جواز پیش کیجیے۔ 5

یا

(b) ”جمہوریت سماجی تنوع کو برقرار رکھتی ہے اور شہریوں کو وقار اور آزادی فراہم کرتی ہے۔“ اس قول کا جواز پیش کیجیے۔ 5

10. (a) ”ٹکنالوجی گلوبلائزیشن کی جدید شکل میں ایک اہم قوت ہے۔“ مناسب مثالیں دے کر اس قول کی وضاحت کیجیے۔ 5

یا

(b) ”گلوبلائزیشن کا اثر یکساں نہیں رہا ہے۔“ مناسب مثالوں کے ساتھ اس قول کی وضاحت کیجیے۔ 5

حصہ - D

(کیس پر مبنی سوالات)

$$4 \times 2 = 8$$

11. درج ذیل کیس کو غور سے پڑھیے اور اس کے نیچے دیے گئے سوالوں کے جواب لکھیے: 4

نیشنلزم ہندوستان میں

یورپ میں جدید نیشنلزم کو نیشن اسٹیٹس کی تشکیل سے منسلک سمجھا گیا۔ ساتھ ہی اس کا مطلب ان معاملات میں لوگوں کی سمجھ میں تبدیلی بھی تھا کہ وہ کون تھے اور کیا چیز ہے جو ان کی شناخت اور ان کے رشتوں کا تعین کرتی ہے۔ نئی علامتوں، نئے نئے (Icons)، نئے گیتوں اور نئے نظریات و خیالات نے نئے رشتے استوار کیے اور سماجوں کی حدود کو از سر نو متعین کیا۔ اکثر

ملکوں میں اس نئی قومی شناخت کی تشکیل کا عمل ایک طول طویل عمل تھا۔ یہ شعور ہندوستان میں کیسے وجود میں آیا؟

دوسرے بہت سے ملکوں کی طرح ہندوستان میں بھی جدید نیشنلزم کا بڑا قریبی تعلق نوآبادکاری مخالف تحریک سے رہا ہے۔

نوآبادیاتی نظام کے خلاف اپنی جدوجہد کے دوران ان لوگوں نے اپنی یکجہتی اور اپنے اتحاد کو پہلی بار دریافت کرنا شروع کیا۔

نوآبادیاتی نظام کی سخت گیری کے احساس نے درد کا ایک ایسا مشترکہ رشتہ استوار کر دیا، جس نے متعدد مختلف گروہوں کو ایک



دوسرے سے باندھ دیا۔ مگر ہر طبقے اور ہر گروہ نے نوآبادیاتی نظام کے اثرات کو مختلف انداز سے محسوس کیا ان کے تجربے متنوع تھے اور آزادی کے تصورات بھی ہمیشہ ایک سے ہی نہیں ہوتے تھے۔ مہاتما گاندھی کے زیر اثر کانگریس نے ان گروہوں کو ایک تحریک میں ساتھ لانے کی کوشش کی مگر یہ اتحاد تنازعات سے چھٹکارا نہیں حاصل کر سکا۔

1 11.1 نیشن (Nation) کے بارے میں لوگوں کی سمجھ کیا تھی؟

1 11.2 جدید نیشنلزم کے فروغ و نشوونما کا تقریبی تعلق نوآبادکاری مخالف تحریک سے کس طرح تھا؟

2 11.3 ہندوستان کے لوگوں میں مشترکہ اپنے پن کا احساس کس طرح پیدا ہوا؟ وضاحت کیجیے۔

4 12. درج ذیل کیس کو غور سے پڑھیے اور اس کے نیچے دیے گئے سوالوں کے جواب لکھیے:

سیاحت

ہندوستان میں سیاحت نے گذشتہ تین عشروں میں کافی ترقی کی ہے۔ ملک میں 15 ملین سے زیادہ لوگ سیاحت کی صنعت سے جڑے ہیں۔ سیاحت بھی ملکوں کے اتحاد، علاقائی دستکاری اور ثقافتی پیشوں کو بڑھاتی ہے۔ یہ بین الاقوامی سطح پر آہلی بھائی چارگی اور میل جول کو بھی بڑھاتا ہے۔ غیر ممالک کے سیاح ہندوستان میں وراثت کی سیاحت، تہذیبی عمارات کی سیاحت، ماحولیاتی سیاحت، مہماتی سیاحت، ثقافتی سیاحت، طبی سیاحت اور تجارتی سیاحت کے لیے آتے ہیں۔ ملک کے مختلف حصوں میں سیاحت کی ترقی کے پورے امکانات ہیں۔ سیاحت کی صنعت کی ترقی کے لیے مختلف قسم کی سیاحت کو فروغ دینے کے لیے کوشش کی جا رہی ہے۔

1 12.1 سیاحت کی اہمیت بیان کیجیے۔

1 12.2 'وراثت کی سیاحت' (Heritage-Tourism) کی کوئی ایک مثال دیجیے۔

2 12.3 ہندوستان میں سیاحت میں اصلاح (سدھار) کرنے کے فائدوں کا تجزیہ کیجیے۔



حصہ - E

(نقشے کا سوال)

1 + 2 = 3

13.1 ہندوستان کے دیے گئے سیاسی خاکے کے نقشے پر 'A' مارک کیا گیا ہے۔ درج ذیل معلومات کی مدد سے اس جگہ کو پہچانے اور اس کا صحیح نام نقشے میں کھینچی گئی لائین پر لکھیے۔

1

(A) وہ جگہ جہاں ستمبر 1920 میں انڈین نیشنل کانگریس کا سیشن ہوا تھا۔

13.2 ہندوستان کے دیے ہوئے اسی سیاسی خاکے کے نقشے پر درج ذیل کو تلاش کیجیے اور ان کے نام لکھیے:

1

I. (a) رامانڈم تھرمل پلانٹ

یا

1

(b) پونہ سافٹ ویر ٹکنالوجی پارک

1

II. چننسی (مینم بکم) بین الاقوامی ہوائی اڈا

نوٹ: درج ذیل سوال صرف ناپینا طلبا اور طالبات کے لیے سوال نمبر 13 کے بدلے:

1

13.1 اس ریاست کا نام لکھیے جہاں جلیاں والا باغ قتل عام ہوا۔

1

13.2 (a) اس ریاست کا نام لکھیے جہاں رامانڈم تھرمل پلانٹ واقع ہے۔

یا

1

(b) اس ریاست کا نام لکھیے جہاں پونہ سافٹ ویر ٹکنالوجی پارک واقع ہے۔

1

13.3 اس ریاست کا نام لکھیے جہاں چننسی (مینم بکم) بین الاقوامی ہوائی اڈا واقع ہے۔



سوال نمبر 13 کے لیے نقشہ

Map for Q. No. 13

----- یہاں سے کاٹیں ----- Cut Here ----- یہاں سے کاٹیں -----
----- Cut Here -----





*





Series : CQQPP/2

SET ~ 2

رول نمبر
Roll No.

| | | | | | | | |
|--|--|--|--|--|--|--|--|
| | | | | | | | |
|--|--|--|--|--|--|--|--|

Q.P. کوڈ
Q.P. Code 48/2/2

Candidates must write the Q.P. Code on the title page of the answer-book.

نوٹ / NOTE :

- (i) جانچ لیجئے کہ اس سوالنامے میں چھپے ہوئے صفحات کی تعداد 8 (بشمول نقشہ) ہے۔
Please check that this question paper contains 8 printed pages (Including Map).
- (ii) طالب علم کو سوالنامے کے اوپر دائیں طرف چھپا Q.P. کوڈ نمبر جوابی کاپی کے اوپری صفحہ پر لکھنا ہے۔
Q.P. Code given on the right hand side of the question paper should be written on the title page of the answer-book by the candidate.
- (iii) جانچ لیجئے کہ اس سوالنامے میں چھپے سوالات کی تعداد 13 ہے۔
Please check that this question paper contains 13 questions.
- (iv) کسی سوال کا جواب لکھنا شروع کرنے سے پہلے سوالنامے کے مطابق سوال کا نمبر جوابی کاپی میں لکھئے۔
Please write down the Serial Number of the question in the answer-book before attempting it.
- (v) سوالنامہ پڑھنے کے لیے 15 منٹ کا مزید وقت دیا گیا ہے۔ سوالنامہ صبح 10.15 بجے تقسیم کیا جائے گا۔ 10.15 بجے سے 10.30 بجے تک طلباء صرف سوالنامہ پڑھیں گے اور اس وقت کے دوران طلباء سوالنامے کے سوالات کے جوابات لکھنا شروع نہیں کر سکتے۔
15 minute time has been allotted to read this question paper. The question paper will be distributed at 10.15 a.m. From 10.15 a.m. to 10.30 a.m., the candidates will read the question paper only and will not write any answer on the answer-book during this period.
- *



سوشل سائنس



SOCIAL SCIENCE

(Urdu Version)

مقررہ وقت : 2 گھنٹے

Time allowed : 2 hours

کل نمبر : 40

Maximum Marks : 40

48/2/2

173B

Page 1

P.T.O.

عام ہدایات:

درج ذیل ہدایات کو غور سے پڑھیے اور ان پر عمل کیجیے:

- (i) اس سوال نامہ میں کل 13 سوال ہیں۔ تمام سوال کرنے لازمی ہیں۔
- (ii) سوالنامہ پانچ حصوں A ، B ، C ، D اور E میں تقسیم کیا گیا ہے۔
- (iii) حصہ A میں سوال نمبر 1 سے 5 تک بہت چھوٹے جواب کے سوالات (Very Short Answer type questions) ہیں۔ ہر ایک سوال 2 نمبر کا ہے۔
- (iv) حصہ B میں سوال نمبر 6 سے 8 تک چھوٹے جواب کے سوالات (Short Answer type questions) ہیں۔ ہر ایک سوال 3 نمبر کا ہے۔
- (v) حصہ C میں سوال نمبر 9 اور 10 لمبے جواب کے سوالات (Long Answer type questions) ہیں۔ ہر ایک سوال 5 نمبر کا ہے۔ ہر ایک سوال کا جواب 120 الفاظ سے زیادہ نہیں ہونا چاہیے۔
- (vi) حصہ D میں سوال نمبر 11 اور 12 کیس پر مبنی سوالات ہیں۔ ہر ایک سوال 4 نمبر کا ہے۔
- (vii) حصہ E میں سوال نمبر 13 نقشہ کا سوال 3 نمبر کا ہے۔ یہ دو پارٹ میں تقسیم ہے - 13.1 ہسٹری (1 نمبر) کا اور 13.2 جغرافیہ (2 نمبر) کا ہے۔
- (viii) اس سوالنامے میں الگ سے انتخاب کرنے (Overall Choice) کا کوئی سوال نہیں دیا گیا ہے۔ پھر بھی کچھ سوالوں میں اندرونی انتخاب (Internal Choice) دیے گئے ہیں۔ ایسے سوالوں میں سے آپ کو صرف ایک سوال کا جواب لکھنا ہے۔

حصہ - A

$2 \times 5 = 10$

(بہت چھوٹے جواب کے سوالات)

1. کوئی دو وجوہات بیان کیجیے، جن کی وجہ سے عدم تعاون تحریک (Non-Cooperation Movement) شروع ہوئی۔

2

2. المونیم اسملٹنگ اور اس سے متعلقہ دھات ہندوستان کی دھاتوں سے متعلق دوسری سب سے بڑی صنعت کیوں ہے؟ وضاحت کیجیے۔

2



2

3. درج ذیل اقتباس (ماخذ) کو پڑھیے اور اس کے نیچے دیے گئے سوالوں کے جواب لکھیے:

مکان کے لیے قرض

میگھانے ایک مکان خریدنے کے لیے بینک سے ₹ 5 لاکھ قرض لیا ہے۔ قرض پر سالانہ شرح سود 12 فی صد ہے اور ماہانہ قسطوں میں 10 سال کے عرصے میں یہ قرض چکانا ہے۔ میگھانے بینک میں دستاویز داخل کیا تھا جس میں اس کے روزگار سے متعلق ریکارڈوں اور تنخواہ کو دکھایا گیا تھا۔ اس سے پہلے بینک نے اسے قرض دینے کی منظوری دی تھی۔ بینک نے نئے مکان کے کاغذات ضمانت کے طور پر رکھ لیے، جسے میگھا کو تب ہی واپس کیا جائے گا جب وہ پورے قرض کو سود کے ساتھ واپس کر دے گی۔

1

3.1 میگھانے کس طرح کے ماخذ (source) سے قرض لیا ہے؟

1

3.2 اس ماخذ میں دی گئی قرض کی شرط کو بیان کیجیے۔

2

4. حکومت تشکیل دینے والی اور حزب اختلاف سیاسی پارٹی میں فرق بتائیے۔

2

5. خام مواد کی بنیاد پر صنعتوں کی درجہ بندی کیجیے۔

حصہ - B

3 × 3 = 9

(چھوٹے جواب کے سوالات)

3

6. سیاسی پارٹیوں کا عروج سیدھے طور پر نمائندہ جمہوریتوں (representative democracies) کے ظہور سے کس طرح جڑا ہوا ہے؟ جانچ کیجیے۔

3

7. 'سول نافرمانی تحریک' (Civil Disobedience Movement) میں مختلف سماجی گروپوں نے کیوں حصہ لیا؟ مثالوں کے ساتھ بیان کیجیے۔

3

8. (a) بینک کچھ - ایک ادھار لینے والوں کو قرض کیوں نہیں دیتے ہیں؟ تفصیل سے بیان کیجیے۔

یا

3

(b) "خود امدادی گروپ" (Self Help Group) کے کاموں کو بیان کیجیے۔



حصہ - C

(لئے جواب کے سوالات)

$5 \times 2 = 10$

5 (a) 9. ”جمہوریت کسی اور متبادل نظام حکومت کے مقابلہ زیادہ بہتر ہے۔“ اس قول کا جواز پیش کیجیے۔

یا

5 (b) ”جمہوریت ایک جواب دہ، ذمہ دار اور قانونی حکومت ہے۔“ اس قول کا جواز پیش کیجیے۔

5 (a) 10. ”ٹکنالوجی گلوبلائزیشن کی جدید شکل میں ایک اہم قوت ہے۔“ مناسب مثالیں دے کر اس قول کی وضاحت کیجیے۔

یا

5 (b) ”گلوبلائزیشن کا اثر یکساں نہیں رہا ہے۔“ مناسب مثالوں کے ساتھ اس قول کی وضاحت کیجیے۔

حصہ - D

(کیس پر مبنی سوالات)

$4 \times 2 = 8$

4 (a) 11. درج ذیل کیس کو غور سے پڑھیے اور اس کے نیچے دیے گئے سوالوں کے جواب لکھیے:

سیاحت

ہندوستان میں سیاحت نے گزشتہ تین عشروں میں کافی ترقی کی ہے۔ ملک میں 15 ملین سے زیادہ لوگ سیاحت کی صنعت سے جڑے ہیں۔ سیاحت بھی ملکوں کے اتحاد، علاقائی دستکاری اور ثقافتی پیشوں کو بڑھاتی ہے۔ یہ بین الاقوامی سطح پر آپسی بھائی چارگی اور میل جول کو بھی بڑھاتا ہے۔ غیر ممالک کے سیاح ہندوستان میں وراثت کی سیاحت، تہذیبی عمارات کی سیاحت، ماحولیاتی سیاحت، مہماتی سیاحت، ثقافتی سیاحت، طبی سیاحت اور تجارتی سیاحت کے لیے آتے ہیں۔



ملک کے مختلف حصوں میں سیاحت کی ترقی کے پورے امکانات ہیں۔ سیاحت کی صنعت کی ترقی کے لیے مختلف قسم کی سیاحت کو فروغ دینے کے لیے کوشش کی جا رہی ہے۔

1

11.1 سیاحت کی اہمیت بیان کیجیے۔

1

11.2 'وراثت کی سیاحت' (Heritage-Tourism) کی کوئی ایک مثال دیجیے۔

2

11.3 ہندوستان میں سیاحت میں اصلاح (سدھار) کرنے کے فائدوں کا تجزیہ کیجیے۔

4

12. درج ذیل کیس کو غور سے پڑھیے اور اس کے نیچے دیے گئے سوالوں کے جواب لکھیے:

نیشنلزم ہندوستان میں

یورپ میں جدید نیشنلزم کو نیشن اسٹیٹس کی تشکیل سے منسلک سمجھا گیا۔ ساتھ ہی اس کا مطلب ان معاملات میں لوگوں کی سمجھ میں تبدیلی بھی تھا کہ وہ کون تھے اور کیا چیز ہے جو ان کی شناخت اور ان کے رشتوں کا تعین کرتی ہے۔ نئی علامتوں، نئے بتوں (Icons)، نئے گیتوں اور نئے نظریات و خیالات نے نئے رشتے استوار کیے اور سماجوں کی حدود کو از سر نو متعین کیا۔ اکثر

ملکوں میں اس نئی قومی شناخت کی تشکیل کا عمل ایک طول طویل عمل تھا۔ یہ شعور ہندوستان میں کیسے وجود میں آیا؟

دوسرے بہت سے ملکوں کی طرح ہندوستان میں بھی جدید نیشنلزم کا بڑا قریبی تعلق نوآبادکاری مخالف تحریک سے رہا ہے۔ نوآبادیاتی نظام کے خلاف اپنی جدوجہد کے دوران ان لوگوں نے اپنی یکجہتی اور اپنے اتحاد کو پہلی بار دریافت کرنا شروع کیا۔ نوآبادیاتی نظام کی سخت گیری کے احساس نے درد کا ایک ایسا مشترکہ رشتہ استوار کر دیا، جس نے متعدد مختلف گروہوں کو ایک دوسرے سے بانڈھ دیا۔ مگر ہر طبقے اور ہر گروہ نے نوآبادیاتی نظام کے اثرات کو مختلف انداز سے محسوس کیا ان کے تجربے متنوع تھے اور آزادی کے تصورات بھی ہمیشہ ایک سے ہی نہیں ہوتے تھے۔ مہاتما گاندھی کے زیر اثر کانگریس نے ان گروہوں کو ایک تحریک میں ساتھ لانے کی کوشش کی مگر یہ اتحاد تنازعات سے چھٹکارا نہیں حاصل کر سکا۔

1

12.1 نیشن (Nation) کے بارے میں لوگوں کی سمجھ کیا تھی؟

1

12.2 جدید نیشنلزم کے فروغ و نشوونما کا قریبی تعلق نوآبادکاری مخالف تحریک سے کس طرح تھا؟

2

12.3 ہندوستان کے لوگوں میں مشترکہ اپنے پن کا احساس کس طرح پیدا ہوا؟ وضاحت کیجیے۔



حصہ - E

(نقشے کا سوال)

1 + 2 = 3

13.1 ہندوستان کے دیے گئے سیاسی خاکے کے نقشے پر 'A' مارک کیا گیا ہے۔ درج ذیل معلومات کی مدد سے اس جگہ کو پہچانئے اور اس کا صحیح نام نقشے میں کھینچی گئی لائین پر لکھیے۔

1

(A) وہ جگہ جہاں ستمبر 1920 میں انڈین نیشنل کانگریس کا سیشن ہوا تھا۔

13.2 ہندوستان کے دیے ہوئے اسی سیاسی خاکے کے نقشے پر درج ذیل کو تلاش کیجیے اور ان کے نام لکھیے:

1

I. (a) رامانڈم تھرمل پلانٹ

یا

1

(b) پونہ سافٹ ویر ٹکنالوجی پارک

1

II. چنئی (مینم بکم) بین الاقوامی ہوائی اڈا

نوٹ: درج ذیل سوال صرف نابینا طلباء اور طالبات کے لیے سوال نمبر 13 کے بدلے:

1

13.1 اس ریاست کا نام لکھیے جہاں جلیاں والا باغ قتل عام ہوا۔

1

13.2 (a) اس ریاست کا نام لکھیے جہاں رامانڈم تھرمل پلانٹ واقع ہے۔

یا

1

(b) اس ریاست کا نام لکھیے جہاں پونہ سافٹ ویر ٹکنالوجی پارک واقع ہے۔

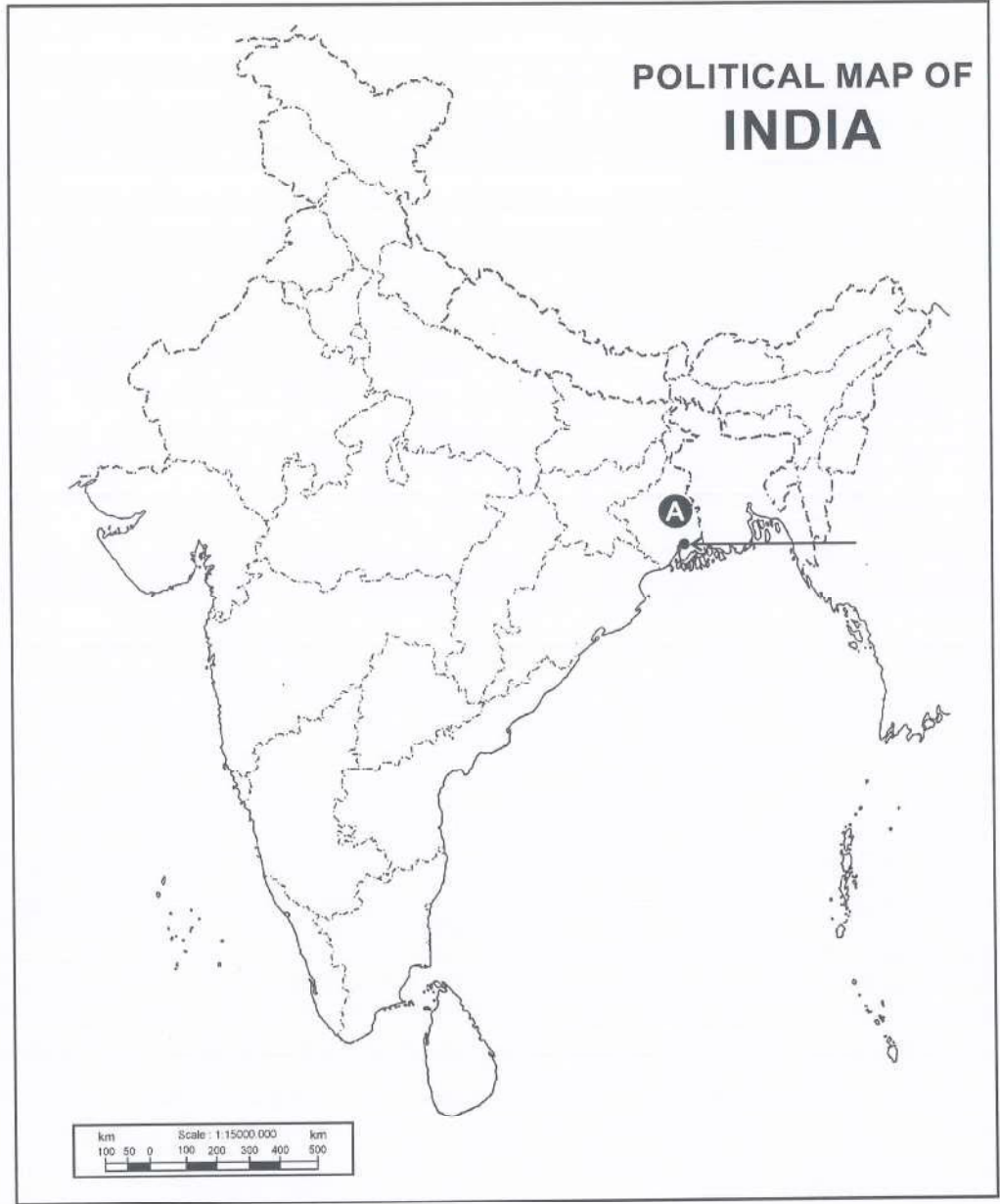
1

13.3 اس ریاست کا نام لکھیے جہاں چنئی (مینم بکم) بین الاقوامی ہوائی اڈا واقع ہے۔



سوال نمبر 13 کے لیے نقشہ
Map for Q. No. 13

----- یہاں سے کاٹیں ----- Cut Here ----- یہاں سے کاٹیں ----- Cut Here -----





*





Series : CQQPP/2

SET ~ 3

رول نمبر
Roll No.

| | | | | | | | |
|--|--|--|--|--|--|--|--|
| | | | | | | | |
|--|--|--|--|--|--|--|--|

Q.P. کوڈ
Q.P. Code 48/2/3

Candidates must write the Code on the title page of the answer-book.

: NOTE / نوٹ

- (i) جانچ لیجئے کہ اس سوالنامے میں چھپے ہوئے صفحات کی تعداد 8 (بشمول نقشہ) ہے۔
Please check that this question paper contains 8 printed pages (Including Map).
- (ii) طالب علم کو سوالنامے کے اوپر دائیں طرف چھپا Q.P. کوڈ نمبر جوابی کاپی کے اوپری صفحہ پر لکھنا ہے۔
Q.P. Code given on the right hand side of the question paper should be written on the title page of the answer-book by the candidate.
- (iii) جانچ لیجئے کہ اس سوالنامے میں چھپے سوالات کی تعداد 13 ہے۔
Please check that this question paper contains 13 questions.
- (iv) کسی سوال کا جواب لکھنا شروع کرنے سے پہلے سوالنامے کے مطابق سوال کا نمبر جوابی کاپی میں لکھئے۔
Please write down the Serial Number of the question in the answer-book before attempting it.
- (v) سوالنامہ پڑھنے کے لیے 15 منٹ کا مزید وقت دیا گیا ہے۔ سوالنامہ صبح 10.15 بجے تقسیم کیا جائے گا۔ 10.15 بجے سے 10.30 بجے تک طلباء صرف سوالنامہ پڑھیں گے اور اس وقت کے دوران طلباء سوالنامے کے سوالات کے جوابات لکھنا شروع نہیں کر سکتے۔
15 minute time has been allotted to read this question paper. The question paper will be distributed at 10.15 a.m. From 10.15 a.m. to 10.30 a.m., the candidates will read the question paper only and will not write any answer on the answer-book during this period.



سوشل سائنس



SOCIAL SCIENCE

(Urdu Version)

مقررہ وقت: 2 گھنٹے

Time allowed : 2 hours

کل نمبر: 40

Maximum Marks : 40

48/2/3

173C

Page 1

P.T.O.

عام ہدایات:

درج ذیل ہدایات کو غور سے پڑھیے اور ان پر عمل کیجیے:

- (i) اس سوال نامہ میں کل 13 سوال ہیں۔ تمام سوال کرنے لازمی ہیں۔
- (ii) سوالنامہ پانچ حصوں A ، B ، C ، D اور E میں تقسیم کیا گیا ہے۔
- (iii) حصہ A میں سوال نمبر 1 سے 5 تک بہت چھوٹے جواب کے سوالات (Very Short Answer type questions) ہیں۔ ہر ایک سوال 2 نمبر کا ہے۔
- (iv) حصہ B میں سوال نمبر 6 سے 8 تک چھوٹے جواب کے سوالات (Short Answer type questions) ہیں۔ ہر ایک سوال 3 نمبر کا ہے۔
- (v) حصہ C میں سوال نمبر 9 اور 10 لمبے جواب کے سوالات (Long Answer type questions) ہیں۔ ہر ایک سوال 5 نمبر کا ہے۔ ہر ایک سوال کا جواب 120 الفاظ سے زیادہ نہیں ہونا چاہیے۔
- (vi) حصہ D میں سوال نمبر 11 اور 12 کیس پر مبنی سوالات ہیں۔ ہر ایک سوال 4 نمبر کا ہے۔
- (vii) حصہ E میں سوال نمبر 13 نقشہ کا سوال 3 نمبر کا ہے۔ یہ دو پارٹ میں تقسیم ہے - 13.1 ہسٹری (1 نمبر) کا اور 13.2 جغرافیہ (2 نمبر) کا ہے۔
- (viii) اس سوال نامے میں الگ سے انتخاب کرنے (Overall Choice) کا کوئی سوال نہیں دیا گیا ہے۔ پھر بھی کچھ سوالوں میں اندرونی انتخاب (Internal Choice) دیے گئے ہیں۔ ایسے سوالوں میں سے آپ کو صرف ایک سوال کا جواب لکھنا ہے۔

حصہ - A

$2 \times 5 = 10$

(بہت چھوٹے جواب کے سوالات)

1. سول نافرمانی تحریک (Civil Disobedience Movement) کے بارے میں 'فیڈریشن آف انڈین چیمبر آف کامرس اینڈ انڈسٹریز' (FICCI) کے نظریات بیان کیجیے۔
2
2. کس طرح سے تازہ پانی کی صنعتی آلودگی کو کم کیا جاسکتا ہے؟
2
3. خام مواد کی بنیاد پر صنعتوں کی درجہ بندی کیجیے۔
2



2 4. حکومت تشکیل دینے والی اور حزب اختلاف سیاسی پارٹی میں فرق بتائیے۔

2 5. درج ذیل اقتباس (ماخذ) کو پڑھیے اور اس کے نیچے دیے گئے سوالوں کے جواب لکھیے:

مکان کے لیے قرض

میگھانے ایک مکان خریدنے کے لیے بینک سے ₹ 5 لاکھ قرض لیا ہے۔ قرض پر سالانہ شرح سود 12 فی صد ہے اور ماہانہ قسطوں میں 10 سال کے عرصے میں یہ قرض چکانا ہے۔ میگھانے بینک میں دستاویز داخل کیا تھا جس میں اس کے روزگار سے متعلق ریکارڈوں اور تنخواہ کو دکھایا گیا تھا۔ اس سے پہلے بینک نے اسے قرض دینے کی منظوری دی تھی۔ بینک نے نئے مکان کے کاغذات ضمانت کے طور پر رکھ لیے، جسے میگھا کو تب ہی واپس کیا جائے گا جب وہ پورے قرض کو سود کے ساتھ واپس کر دے گی۔

1 5.1 میگھانے کس طرح کے ماخذ (source) سے قرض لیا ہے؟

1 5.2 اس ماخذ میں دی گئی قرض کی شرط کو بیان کیجیے۔

حصہ - B

3 × 3 = 9

(چھوٹے جواب کے سوالات)

3 6. (a) بینک کچھ ایک ادھار لینے والوں کو قرض کیوں نہیں دیتے ہیں؟ تفصیل سے بیان کیجیے۔

یا

3 (b) ”خود امدادی گروپ“ (Self Help Group) کے کاموں کو بیان کیجیے۔

3 7. ”مزدور، مہاتما گاندھی اور ان کے سواراج کے بارے خود اپنی ایک سمجھ رکھتے تھے۔“ آسام کی مثال کے ساتھ اس قول کی وضاحت کیجیے۔

3 8. سیاسی پارٹیوں کا عروج سیدھے طور پر نمائندہ جمہوریتوں (representative democracies) کے ظہور سے کس طرح جڑا ہوا ہے؟ جانچ کیجیے۔



حصہ - C

(لجے جواب کے سوالات)

$5 \times 2 = 10$

9. (a) ”خواتین کی عزت اور ان کے ساتھ یکساں برتاؤ کرنا جمہوری معاشرے کا ایک لازمی حصہ بن گیا ہے۔“ اس قول کا جواز پیش کیجیے۔

5

یا

(b) ”ہندوستان میں جمہوریت نے یکساں معیار اور یکساں مواقع کے مطالبات کو مستحکم کیا ہے۔“ اس قول کا جواز پیش کیجیے۔

5

10. (a) ”ٹکنالوجی گلوبلائزیشن کی جدید شکل میں ایک اہم قوت ہے۔“ مناسب مثالیں دے کر اس قول کی وضاحت کیجیے۔

5

یا

(b) ”گلوبلائزیشن کا اثر یکساں نہیں رہا ہے۔“ مناسب مثالوں کے ساتھ اس قول کی وضاحت کیجیے۔

5

حصہ - D

(کیس پر مبنی سوالات)

$4 \times 2 = 8$

4

11. درج ذیل کیس کو غور سے پڑھیے اور اس کے نیچے دیے گئے سوالوں کے جواب لکھیے:

نیشنلزم ہندوستان میں

یورپ میں جدید نیشنلزم کو نیشن اسٹیٹس کی تشکیل سے منسلک سمجھا گیا۔ ساتھ ہی اس کا مطلب ان معاملات میں لوگوں کی سمجھ میں تبدیلی بھی تھا کہ وہ کون تھے اور کیا چیز ہے جو ان کی شناخت اور ان کے رشتوں کا تعین کرتی ہے۔ نئی علامتوں، نئے ہتوں (Icons)، نئے گیتوں اور نئے نظریات و خیالات نے نئے رشتے استوار کیے اور سماجوں کی حدود کو از سر نو متعین کیا۔ اکثر ملکوں میں اس نئی قومی شناخت کی تشکیل کا عمل ایک طول طویل عمل تھا۔ یہ شعور ہندوستان میں کیسے وجود میں آیا؟



دوسرے بہت سے ملکوں کی طرح ہندوستان میں بھی جدید نیشنلزم کا بڑا قریبی تعلق نوآبادکاری مخالف تحریک سے رہا ہے۔ نوآبادیاتی نظام کے خلاف اپنی جدوجہد کے دوران ان لوگوں نے اپنی یکجہتی اور اپنے اتحاد کو پہلی بار دریافت کرنا شروع کیا۔ نوآبادیاتی نظام کی سخت گیری کے احساس نے درد کا ایک ایسا مشترکہ رشتہ استوار کر دیا، جس نے متعدد مختلف گروہوں کو ایک دوسرے سے باندھ دیا۔ مگر ہر طبقے اور ہر گروہ نے نوآبادیاتی نظام کے اثرات کو مختلف انداز سے محسوس کیا ان کے تجربے متنوع تھے اور آزادی کے تصورات بھی ہمیشہ ایک سے ہی نہیں ہوتے تھے۔ مہاتما گاندھی کے زیر اثر کانگریس نے ان گروہوں کو ایک تحریک میں ساتھ لانے کی کوشش کی مگر یہ اتحاد تنازعات سے چھٹکارا نہیں حاصل کر سکا۔

- 1 11.1 نیشن (Nation) کے بارے میں لوگوں کی سمجھ کیا تھی؟
- 1 11.2 جدید نیشنلزم کے فروغ و نشوونما کا قریبی تعلق نوآبادکاری مخالف تحریک سے کس طرح تھا؟
- 2 11.3 ہندوستان کے لوگوں میں مشترکہ اپنے پن کا احساس کس طرح پیدا ہوا؟ وضاحت کیجیے۔
- 4 12. درج ذیل کیس کو غور سے پڑھیے اور اس کے نیچے دیے گئے سوالوں کے جواب لکھیے:

سیاحت

ہندوستان میں سیاحت نے گذشتہ تین عشروں میں کافی ترقی کی ہے۔ ملک میں 15 ملین سے زیادہ لوگ سیاحت کی صنعت سے جڑے ہیں۔ سیاحت بھی ملکوں کے اتحاد، علاقائی دستکاری اور ثقافتی پیشوں کو بڑھاتی ہے۔ یہ بین الاقوامی سطح پر آپسی بھائی چارگی اور میل جول کو بھی بڑھاتا ہے۔ غیر ممالک کے سیاح ہندوستان میں وراثت کی سیاحت، تہذیبی عمارات کی سیاحت، ماحولیاتی سیاحت، مہماتی سیاحت، ثقافتی سیاحت، طبی سیاحت اور تجارتی سیاحت کے لیے آتے ہیں۔ ملک کے مختلف حصوں میں سیاحت کی ترقی کے پورے امکانات ہیں۔ سیاحت کی صنعت کی ترقی کے لیے مختلف قسم کی سیاحت کو فروغ دینے کے لیے کوشش کی جا رہی ہے۔

- 1 12.1 سیاحت کی اہمیت بیان کیجیے۔
- 1 12.2 'وراثت کی سیاحت' (Heritage-Tourism) کی کوئی ایک مثال دیجیے۔
- 2 12.3 ہندوستان میں سیاحت میں اصلاح (سدھار) کرنے کے فائدوں کا تجزیہ کیجیے۔



حصہ - E

(نقشے کا سوال)

1 + 2 = 3

13.1 ہندوستان کے دیے گئے سیاسی خاکے کے نقشے پر 'A' مارک کیا گیا ہے۔ درج ذیل معلومات کی مدد سے اس جگہ کو پہچانئے اور اس کا صحیح نام نقشے میں کھینچی گئی لائین پر لکھیے۔

1

(A) وہ جگہ جہاں ستمبر 1920 میں انڈین نیشنل کانگریس کا سیشن ہوا تھا۔

13.2 ہندوستان کے دیے ہوئے اسی سیاسی خاکے کے نقشے پر درج ذیل کو تلاش کیجیے اور ان کے نام لکھیے:

1

I. (a) رامانڈم تھرمل پلانٹ

یا

1

(b) پونہ سافٹ ویر ٹکنالوجی پارک

1

II. چننئی (مینم بکم) بین الاقوامی ہوائی اڈا

نوٹ: درج ذیل سوال صرف نماینا طلبا اور طالبات کے لیے سوال نمبر 13 کے بدلے:

1

13.1 اس ریاست کا نام لکھیے جہاں جلیاں والا باغ قتل عام ہوا۔

1

13.2 (a) اس ریاست کا نام لکھیے جہاں رامانڈم تھرمل پلانٹ واقع ہے۔

یا

1

(b) اس ریاست کا نام لکھیے جہاں پونہ سافٹ ویر ٹکنالوجی پارک واقع ہے۔

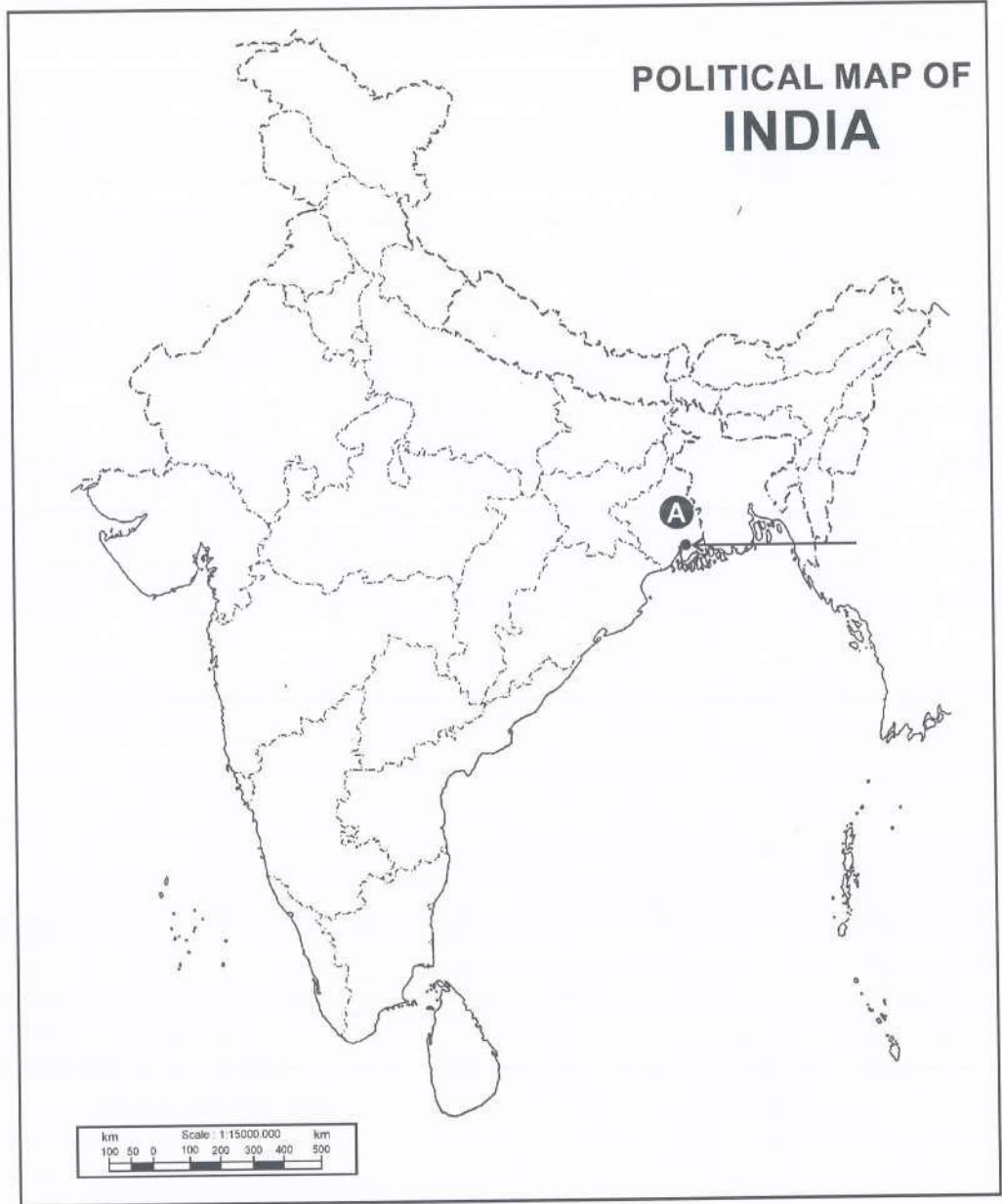
1

13.3 اس ریاست کا نام لکھیے جہاں چننئی (مینم بکم) بین الاقوامی ہوائی اڈا واقع ہے۔



سوال نمبر 13 کے لیے نقشہ
Map for Q. No. 13

یہاں سے کاٹیں Cut Here یہاں سے کاٹیں Cut Here





*

